

普通高中课程标准实验教科书

经全国中小学教材审定
委员会2004年初审通过

历史

必修 ②

LISHI

供学习用



北京师范大学出版集团
BEIJING NORMAL UNIVERSITY PUBLISHING GROUP
北京师范大学出版社

普通高中课程标准实验教科书

经全国中小学教材审定
委员会2004年初审通过

历史

必修 ②

供学习用

LISHI



北京师范大学出版集团
BEIJING NORMAL UNIVERSITY PUBLISHING GROUP
北京师范大学出版社

英国著名哲学家培根说过：“读史使人明智。”同学们，摆在你们面前的，是新编的普通高中历史课程标准实验教科书。你们经过初中三年的学习，一定渴望在已有历史知识的基础上，对人类社会发 展进程中的重大历史问题作进一步的学习和探究。新编高中历史教科书，就是为了满足同学们的这个愿望而编写的。

这套教科书采用中外历史合编的形式，用一个个学习专题分别反映人类社会发 展进程中的一些重大历史问题。整套教材由必修课和选修课构成。必修课分为三个学习模块，分别反映人类社会发 展进程中的政治、经济 和思想文化活动。这三个学习模块属于最基本的历史知识，各编成一册，是每个同学必须学习的内容。选修课分为历史上重大改革回眸、近代社会的民主思想与实践、20 世纪的战争与和平、中外历史人物评说、探索历史的奥秘、世界文化遗产荟萃六个学习模块，分别叙述与现实生活关系比较密切的一些重大历史问题，每个学习模块编成一册。同学们可以根据自己的爱好，任选其中的若干个模块学习。如果有同学准备将来往人文社会科学方向发展，建议至少应选修三个模块。

为了便于同学们的学习和探究，这套教科书的必修课，每个学习专题设一个单元，集中探讨某个历史问题，下设若干课，分别从不同角度或层次对这个问题进行论述。选修课则是每个学习专题设一章，下设若干节。在每个单元或每章开头都列有导读，引导同学们带着这些问题进入具体的学习和探究过程。在每课或每节开头都有一段导言，用简明扼要的文字，概括本课或本节的主要内容和探索的问题。正文部分用宋体字印刷，这是课文的主体，是同学们必须掌握的内容。正文中穿插资料浏览、链接阅读、学术窗口等多种阅读栏目，用楷体字印刷。这些阅读栏目，是对正文的说明、拓展或延伸，是供同学们阅读的内容，不作掌握要求。课文中间还穿插相关的历史图片、地图、图表等，以便进一步激发同学们的学习兴趣，加深对课文的理解，增加文史知识，提高审美情趣。各册教科书

每课或每节之后开列供同学们探究思考的习题，题型多样，并多具开放性，目的在于培养和锻炼历史思维和分析、解决问题的能力。各册教科书均设置有探究活动课，放在书后，同学们可以在老师的指导下安排学习。另外，书后还附有部分词汇中英文对照表，供同学们参考。

历史学习是一个从感知历史到不断积累历史知识，进而不断加深对历史和现实的理解的过程。同学们学习历史，除了要主动参与、自主学习之外，更重要的是要学会运用历史唯物主义的基本观点和方法来分析历史事实，认识人类社会发展的基本规律；要注重探究式学习，善于从不同角度发现问题，积极探索解决问题的方法；要养成独立思考的习惯，培养创新意识、求实态度和科学精神。相信同学们经过积极主动的学习，不仅能获得丰富的历史知识，而且会进一步增强民族自豪感和社会责任感，形成开放的全球意识和国际视野，确立积极进取的人生态度，树立为祖国的社会主义现代化建设、为人类和平和进步事业献身的人生理想，成为国家的栋梁之材。

供学习用

编者

目 录

第一单元 古代中国经济的基本结构与特点

- 第1课 农业的主要耕作方式和土地制度 2
- 第2课 精耕细作的传统农业 6
- 第3课 享誉世界的手工业 10
- 第4课 商业的发展 15
- 第5课 资本主义萌芽的缓慢发展 20

第二单元 近代中国资本主义的曲折发展

- 第6课 近代中国经济结构的变动 25
- 第7课 民族资本主义的曲折发展 30

第三单元 中国特色社会主义道路的探索与实践

- 第8课 中国社会主义建设道路的探索 36
- 第9课 社会主义市场经济体制的建立 40
- 第10课 对外开放格局的形成 45

第四单元 中国近现代社会生活的变迁

- 第11课 物质生活和社会习俗的变迁 50
- 第12课 日益进步的交通和通信工具 54
- 第13课 大众传媒的发展 58

第五单元 资本主义世界市场的形成和发展

- 第14课 新航路的开辟 63
- 第15课 殖民扩张与掠夺 68
- 第16课 欧美的工业革命 72

第六单元 资本主义运行机制的调节

- 第17课 空前严重的资本主义世界经济危机 79
第18课 罗斯福新政 83
第19课 当代资本主义的新变化 87

第七单元 苏联的社会主义建设

- 第20课 从“战时共产主义”到“苏联模式” 92
第21课 战后的经济改革与挫折 97

第八单元 当今世界经济的全球化趋势

- 第22课 战后资本主义世界经济体系的形成 102
第23课 世界经济区域集团化的发展 106
第24课 世界经济的全球化趋势 110

探究活动课

- 追寻世界杰出航海家的踪迹
——郑和下西洋与新航路旅游线路推介模拟活动 115

附录

- 部分词汇中英文对照表 119

图 例

| | | | |
|-------------|-------|-----------|-------|
| ★ | 首都 | — — — — — | 未定国界 |
| ⊙ | 省级驻所 | ----- | 地区界 |
| ○ | 一般居民地 | | 军事分界线 |
| — · — · — · | 洲界 | ~~~~~ | 河流、湖泊 |
| — — — — — | 国界 | | |

第一单元

古代中国经济的基本 结构与特点

中国古代的农耕文明源远流长，勤劳智慧的各族儿女在中国这块热土上创造了长期领先世界的经济成就。

农业是中国古代最主要的经济部门。伴随着生产工具和技术的进步，早在战国时期，农业的耕作方式就实行了“铁犁牛耕”的方式。在此过程中，其土地制度也逐渐由井田制向封建土地所有制过渡。自给自足的小农经济、精耕细作的优良传统和长期实行的封建土地所有制一起，构成了中国古代农业的基本特点。

手工业是农耕经济的重要补充。春秋以来，主要有官营手工业、民营手工业和家庭手工业，而长期代表其先进工艺水平的则是官营手工业。中国古代的手工业主要有纺织、陶瓷、冶金等，因其历史悠久、规模巨大、分工细密、工艺先进而享誉世界。

商业在中国古代扮演着浸润农耕经济的从属角色。伴随着农业和手工业的发展，商业也逐渐繁荣起来。尤其在战国、西汉和唐宋时期，商业城市迅速发展，对外贸易不断扩大，到明清时期则出现了商帮。然而封建政权长期“重农抑商”，明清时期更是厉行“海禁”政策，严重影响了中国资本主义萌芽的发展。

农业的主要耕作方式和土地制度

中国是世界农业的发祥地之一。距今一万多年前，就出现了使用木、石农具的原始农业。进入阶级社会后，转变为使用金属工具的传统农业。到战国时期，随着铁农具的广泛使用，形成铁犁牛耕的耕作方式，由粗放耕作走向了精耕细作。同生产力的发展水平相适应，中国的土地制度先后经历了氏族公社土地所有制、奴隶主贵族土地国有制和封建土地所有制的发展过程。在近代农业出现以前，中国的传统农业一直处于世界领先地位，对人类文明作出了重大贡献。

从刀耕火种到铁犁牛耕

早在距今一万多年以前，中国已存在原始农业。那时候，人们先是用石斧砍倒树木，用石刀除去杂草，将这些树木、杂草晒干后放火焚烧，然后用木棒、竹竿松土，挖坑点播，或撒播种子，待作物生长成熟后，再来收割。一块土地耕种几年后，地力耗尽，就把它撂荒，另找土地耕种。这种原始的耕作方式叫作“刀耕火种”，又称“火耕”或“刀耕”。



云南怒江地区独龙族使用的双尖木耒



石犁
(上海松江广富林遗址出土，距今约4000年)

距今八九千年前，中国的农业已进入耜耕阶段（或称锄耕阶段）。那时候，人们使用耒耜、石锄和石犁整地，不仅提高了工效，而且可将土地翻得更深、更松，从而取得较好的收成。但由于缺乏

刀耕火种

中国一些经济比较落后的地区，长期实行原始的刀耕火种方式。云南怒江地区的独龙族，直到清朝末年还实行刀耕火种，“所种之地，惟以刀伐木，纵火焚烧，用竹锥地成眼，点种苞谷。若种荞麦、稗、黍之类，则只撒种于地，用竹帚扫匀，听其自生自实，名为刀耕火种，无不成熟”。

刀耕火种对人类的生产生活产生过重大影响，对此你有何认识？

施肥、中耕^①和灌溉，地力仍很有限，种上三四年后还得撂荒，另找新的土地耕种。刀耕火种和耜耕，都实行集体耕作。为了寻找新的耕地，人们经常迁徙流动，生活非常艰苦。

进入阶级社会以后，中国的农业生产由使用木、石农具的原始农业，转变为金属与木、石农具并用的传统农业。夏、商时期，出现了少量青铜农具，耕作技术也有了提高，懂得开沟排灌、除草培土、沤制绿肥、治虫灭



东汉牛耕画像石（陕西米脂出土）

害。上好的田地已可连续耕作，稍差的田地休耕一两年后也可继续耕作。

从春秋开始，铁制农具逐渐出现。到战国时期，铁犁与广泛流行的牛耕相结合，已形成铁犁牛耕的耕作方式。施肥与灌溉也有新的发展，除了修建郑国渠、都江堰等大型水利工程外，还发明了桔槔^②。这些都显著提高了农业生产率。从此，铁犁牛耕成为中国封建社会基本的耕作方式，农业生产完全变成一家一户的个体小生产，由粗放耕作走向了精耕细作。

链接阅读

农业的起源

在中国古代历史传说中，对农业起源的描述有很多。《周易·系辞下》：“包牺氏没，神农氏作。断木为耜，揉木为耒；耒耨之利，以教天下。”《白虎通》卷一记录：“古之人民皆食禽兽肉。至于神农，人民众多，禽兽不足，于是神农因天之时，分地之利，制耒耜，教民农耕，神而化之，使民宜之，故谓之神农氏。”原始农业实际是从采集渔猎经济中产生的。

作为一个地域广袤的多民族国家，中国的经济形态呈现出多元化的特点，农业系统繁缛多样。以中原地区为代表的大多数地区，以种植业为主业，畜牧、渔猎是副业。西北和北部地区则以游牧业为主，也是一种重要的经济类型。

① 中耕，指作物生长期在植株之间进行的除草、松土等农耕程序。

② 桔槔，俗称吊杆，是一种利用杠杆原理的原始提水工具。

土地制度的演变

中国原始公社时期，土地归氏族公社集体所有，属于氏族公社土地所有制。

进入奴隶社会以后，土地归奴隶主阶级的最高统治者国王所有，形成奴隶主贵族土地国有制。国王直接控制王畿之内的土地，而将王畿之外的土地分封给诸侯臣下。受田者对土地只有使用权，没有所有权，不得买卖和转让，并须向国王缴纳一定的贡赋。各级奴隶主贵族把土地划成大致相等的方块，状似“井”字，称为井田。井田中间部分为公田，奴隶主贵族役使庶民和奴隶集体耕作，收获物全部归奴隶主贵族所有。公田四周为私田，是劳动者的份地。劳动者使用私田，是以无偿为奴隶主贵族耕种公田为条件的，并须缴纳一定数量的贡物和赋税。这种土地制度在商朝就已存在，至西周趋于完备，史称井田制。

链接阅读

商周的井田

井田在商朝就已存在。商代甲骨文中有“田”字，周代写作田、畎、畛、畹、畺、畻。除文献资料外，青铜器铭文中多有赏赐土地“一田”、“十田”、“五十田”的记载。这些“田”字指的就是井田，“一田”即一井之田。



写有“田”字的商代甲骨文



明代鱼鳞图册

明朝官府曾多次在全国丈量土地，登记每块田地的亩数、质量、方圆四至以及田主的姓名等，并绘制成图，编成“鱼鳞图册”，作为确定土地所有权、征派赋役的依据。

春秋时期，中下级奴隶主贵族纷纷开垦井田外的荒地，视为私田，归己所有。随着私田的扩大，投入公田的劳动日益减少，井田制日趋瓦解。战国时期，各国普遍实行变法和改革，将所有土地全部实行按亩征税，并允许自由买卖。旧贵族、新官僚和大工商业者竞相购买土地，或者通过建立军功获得土地赏赐，拥有大量的田地。他们改变剥削方式，允许耕种土地的劳动者在交出作为地租的大部分产品后，保留部分产品，以供己用。这样，土

地的占有者就变成封建地主，耕种土地的劳动者则变成封建农民。封建土地所有制逐步取代了奴隶主贵族土地国有制。

从战国时期开始的封建土地所有制，在中国历史上延续了两千多年。在封建社会，地主拥有大部分的土地，官府和皇帝也掌握着一部分土地，农民只有很少的土地或者完全没有土地。广大农民遭受封建地主及其国家的剥削和压迫，过着贫困的生活。

探究思考

1. 古代中国农业的主要耕作方式经历了哪些变化？引起这些变化的根本原因是什么？
2. 古代中国的土地制度是如何演变的？
3. 阅读下列材料，回答问题。

材料一：方里而井，井九百亩，其中为公田，八家皆私百亩，同养公田。公田所入归公，私田所入归私。此制度之最要意义，厥为田亩所有权之全属于贵族封君。所谓“四封之内，莫非王土；食土之毛，莫非王臣”也。……一井之内，主要者为公田。依理言之，正因助耕公田，使得享有其私田之收获。

材料二：履亩而税者，废公田，转就私田征税，视其田亩之实收而抽收额定之比率。……

履亩而税，则可以只认田，不认人，于是民田得自由买卖，而土地所有权，无形中转移，成为耕田者所自有，而兼并亦随之而起。

——以上材料均摘自钱穆：《国史大纲》

- (1) 结合材料一和所学知识概括井田制的基本特点。
- (2) 材料二中说“而土地所有权，无形中转移，成为耕田者所自有”，是不是说由奴隶主贵族土地国有制转变为“耕田者所自有”的农民土地所有制了？为什么？请你联系课文内容和材料二中画线部分内容加以说明。

精耕细作的传统农业

随着铁犁牛耕的出现和封建土地所有制的发展，在战国时期开始出现精耕细作的农业，小农经济逐渐发展。精耕细作既是古代中国农业的优秀传统，也是古代中国农业的主要特点。精耕细作的不断发展和完善，使中国的农业经济长期处于世界领先水平。

小农经济的形成



战国时期的铁农具

战国时期，随着铁犁牛耕和封建土地所有制的发展，小农经济开始形成。小农经济以家庭为基本生产单位，农业和家庭手工业相结合，男耕女织，生产满足家庭基本生活需要的产品，是一种自给自足的自然经济。在长达两千多年的封建社会里，这种小农经济的经营形式始终占据主导地位，推动着传统农业向精耕细作的方向发展。

在封建土地所有制之下，占有小块土地的自耕农有着相当的比重。占有大量土地的地主，将土地租佃给无地或少地的农民耕种。佃农要向地主缴纳沉重的地租，但对地主的人身依附程度较轻。因此，自耕农和佃农都有较高的生产积极性。然而，个体小农的经济力量比较薄弱，很难扩大生产规模。为了解决温饱问题，他们只能在小块土地上实行集约经营，精耕细作，充分挖掘土地的增产潜力，提高单位面积产量。精耕细作就成为古代中国农业的优良传统和主要特点。

精耕细作农业的突出成就

精耕细作农业自战国时期出现后，不断向前发展，一直延续到明清时期，取得了突出的成就。

为了发展农业生产，广大农民不断扩大耕地面积。他们除了垦殖平原地带，还大力开垦丘陵山区、湖边低地和滨海滩涂。


宋代江南的圩田

圩(wéi)田是一种用堤坝围护的湖田。宋代江南的圩田已有相当的规模。北宋中期的范仲淹说：“江南旧有圩田，每一圩方数十里，如大城，中有河渠，外有门闸。旱则开闸，引江水之利；涝则闭闸，拒江水之害。旱涝不及，为农美利。”如万春圩，有田12.7万亩，圩中有大道数千米，确如大城一样。圩岸上植桑若干万株，有的地方种植榆、柳，“望之如画”。



你怎样看待古代的圩田现象？

除了扩大耕地面积外，农民还设法提高复种指数。有的实行间作，如在桑田间种芜菁、绿豆、苧麻等；有的实行套种，如在麦田套种棉花等；有的实行轮作复种，一年内在一块土地上种植一次以上的作物，形成两年三熟或者一年两熟甚至一年三熟制。土地的利用率大大提高，几乎达到“种无闲田”、“种无虚日”的程度。而欧洲农业最先进的法国，直到18世纪，全国仍有半数以上的农田经常闲置休耕。



《齐民要术》中关于绿肥的记载

为了发展农业生产，广大农民采取了多种技术措施，以提高土地的生产率。在耕作方面，对农具不断进行改革和创新。西汉发明的耒犁，将开沟与播种合二为一；唐代发明的曲辕犁，便于深耕碎土，节省畜力；宋元时期又加以改进，将犁辕缩短、弯曲，进一步提高了耕地效率。耕作技术也日益提高。特别是对中耕，人们更总结出一套锄早、锄小（草小即锄）、锄了（将草锄净）、锄不厌数（不怕次数多）的除草保墒技术。在排灌方面，战国以后兴修了许多水利工程，还发明了翻车、筒车等提水工具。在施肥方面，商周时，农民已懂得使用粪肥和绿肥，后来不断扩大肥料来源，到明清时期，见于记载的肥料已达130多种。人们还注意合理用肥，做到“时（农时）宜”、“土宜”、“物宜”。这些技术措施使

曲辕犁

汉代的犁是直长辕犁，使用二牛抬杠，不仅不便于调头转弯，而且起土费力，效率不高。唐代在江东地区出现了曲辕犁，称“江东犁”。曲辕犁是将直辕、长辕改为曲辕、短辕，辕头安装有转动的犁盘，牵引时，犁可以自由摆动和改变方向；还设有犁评，可以控制犁地的深度；还装有曲面犁壁，有良好的起垅(ǒng)碎土功能。曲辕犁用单牛挽拉，便于精耕细作，适于个体农户使用。但曲辕犁在唐宋以后才逐渐得到推广。



曲辕犁的发明，对于古代农业的发展有何意义？



南宋《耕织图》中的秋收场面

得“地力常新壮”，没有出现衰退递减的现象。欧洲中世纪的农业，使用的重犁比较笨重，没有中耕环节，很晚才使用肥料，远远落后于中国。

农民经过不断的摸索，创造出许多比较科学的育种方法，主要有穗选法(选择生长健壮、子粒饱满的禾麦穗子，单收单藏，留作第二年的种子)、株选法(选取优良的单株穗，连续加以繁殖，培育出新的品种)等。在花卉、林木等生产中，

则广泛采用扦插、嫁接等无性繁殖方法。

农民经过不断实践，还认识到掌握农时的重要性，注意巧用农时，不

二十四节气

二十四节气的划分起源于黄河流域。早在春秋时期，已定出春分、夏至、秋分、冬至四大节气。后来，通过农业生产实践，又逐渐充实完善，到秦汉时期，二十四节气已完全确立。西汉初年的《淮南子》一书，首次记载了二十四节气的全部名称。流传至今的二十四节气是：立春、雨水、惊蛰、春分、清明、谷雨、立夏、小满、芒种、夏至、小暑、大暑、立秋、处暑、白露、秋分、寒露、霜降、立冬、小雪、大雪、冬至、小寒、大寒。

二十四节气与古代农业的发展之间有着怎样的关系？

违农时。人们通过天文观测，创造出二十四节气，根据节气来安排生产。

由于集约经营，精耕细作，中国传统农业的生产技术和单位面积产量达到了古代世界的最高水平。发达的农业生产，奠定了中华文明持续发展的深厚根基。

探究思考

1. 请结合下面材料，说明古代中国小农经济的经营形式为什么会起到推动农业精耕细作的作用。

今也农夫之所以蚤出暮入，强乎耕稼树艺，多聚叔（菽）粟，而不敢怠倦者，何也？曰：彼以为强必富，不强必贫；强必饱，不强必饥，故不敢怠倦。

——《墨子·非命下》

2. 阅读下列材料，回答问题。

春耕夏耘，秋获冬藏，伐薪樵，治官府，给徭役。春不得避风尘，夏不得避暑热，秋不得避阴雨，冬不得避寒冻。四时之间，亡日休息，又私自送往迎来，吊死问疾，养孤长幼在其中。勤苦如此，尚复被水旱之灾，急政暴赋，赋敛不时，朝令而暮改。

——（西汉）晁错：《论贵粟疏》

请你依据材料，归纳汉代农民的生存状况。

3. 阅读下列材料，回答问题。

农夫蚤出暮入，耕稼树艺，多聚叔粟，此其分事也。妇人夙兴夜寐，纺绩织经，多治麻丝葛绪，织布繅，此其分事也。

——《墨子·非乐上》

材料反映了我国古代什么样的生产方式？这种生产方式有何特点？

享誉世界的手工业

中国古代社会始终存在着手工业经济。春秋以来，其主要经营形态有官营、民营和家庭手工业。古代中国的手工业历史悠久，规模巨大且分工细密，在陶瓷、冶金、制漆、丝织、造纸、印刷、采煤和造船等重要领域都取得了辉煌成就，生产技术、制造工艺和产品质量长期居于世界的前列。产品不仅供国内消费，而且大量输往国外，广受欢迎和赞誉。

官营手工业与民营手工业的消长

中国的手工业历史悠久。夏、商、西周时期，手工业为官府所垄断。商、周王朝实行“工商食官”制度，设置工官，组织手工业生产，以满足官府和奴隶主贵族的需要。春秋战国时期，官营手工业继续发展，并开始出现民营手工业和家庭手工业。民营手工业中，既有个体经营的小手工业，也有规模可与官营手工业匹敌的大手工业。家庭手工业是随着小农经济的形成而出现的，它与农耕相结合，以纺织为主。此后，官营手工业、民营手工业和家庭手工业，就成为中国封建社会手工业生产的三种经营形态。

战国时期的民营大手工业

战国时期的民营大手工业，主要集中在与国计民生关系密切的煮盐、矿冶等部门。例如，鲁国的猗顿在今山西运城一带经营池盐起家；邯郸的郭纵以冶铁成业，“与王者埒（liè）富”；赵国的卓氏，在秦国破赵后，迁到蜀地临邛（今四川邛崃），“即铁山鼓铸”，至西汉前期，已成为拥有奴仆千人的巨富；关东的程郑以冶铁为业，被迁到临邛后，继续经营冶铁业，至西汉前期，已资财巨万，富埒卓氏。

封建社会的官营手工业，由政府直接控制和经营，主要生产武器等军用品和供皇室、贵族消费的生活用品。它利用国家的权力，征调优质的原料和优秀的工匠进行生产，往往具有最高的工艺水平和技术，产品大多非



湖北江陵望山一号楚墓出土的越王勾践剑

常精美。但它不计生产成本，浪费惊人。官营手工业使用的劳动力有不少时候是无偿征调的工匠，劳动者缺乏劳动兴趣，生产积极性不高，生产效率低下，因而一些官营手工业呈现萎缩

的状态。民营手工业由民间私人经营，它的劳动者有较多的人身自由，有一定报酬，有较大的主动性，因而劳动兴趣比较高。它主要生产供民间消费的产品，能够按照市场的需要进行开发。因此，民营手工业尽管遭受官府的压制和盘剥，仍不断地发展壮大，明中期已居于主要地位。家庭手工业是农户的副业，在自然经济时代占有相当的比重，它的产品主要是供自己消费和缴纳赋税。到明代中期，家庭手工业的许多产品也日渐商品化。

巨大的规模与细密的分工

古代中国的手工业生产，地区分布广泛，生产规模巨大。商代晚期的司母戊鼎重 875 千克，明代郑和下西洋乘坐的宝船长四十四丈四尺、宽十八丈，其制造作坊、工场之大可想而知。由于生产规模巨大，产量颇为可观。许多手工业品如丝绸和瓷器，除满足国内的需要，还远销亚、非、欧各大洲。西方国家因此称中国为“丝国”、“瓷器大国”。



17 世纪后期销往葡萄牙的中国锦缎



18 世纪荷兰定制的中国瓷器

官营手工业的庞大规模

古代中国的手工业生产规模庞大。如西汉朝廷在齐郡(今山东淄博市东部)设置的齐三服官,“作工各数千人”;唐代掌管官营手工业生产的少府监有工匠近2万人,掌管土木工程营建的将作监有工匠1.5万人;明代前期官营手工业占用的工匠更是多达30万人,加上为之服务的民夫共约180万人。由于生产规模大,产量也多。如公元前110年汉武帝一次出巡,就御赐绢帛100万匹;公元648年,唐太宗命将作大匠阎立德在洪州(今江西南昌)造浮海大船500艘;在明代,官营各织染局每年织缎4.7万余匹。



湖南长沙马王堆汉墓出土的菜萸纹绣绢



明景德镇五彩龙凤纹瓷笔盒

古代中国的手工业生产,分工细密,品种繁多。

中国是世界上最早养蚕织丝的国家,考古工作者发现了距今约四五千年的蚕茧和丝织品残片。后来丝织业不断发展,分工越来越细,到战国时已能织出锦、绣、罗、纱等多类织品。到汉代,又增加绂、绮、纨等。到唐代,每类又分为许多品种,仅绂就有20多个品种。

中国也是世界上最早制作瓷器的国家,商代已有原始瓷器。后来,制瓷业不断发展,东汉出现青瓷,北朝烧出白瓷,元代烧成青花瓷,明代则有彩瓷。分工也越来越细,明代就有“一坯工力,过手七十二,方克成器”之说。

彩瓷

彩瓷是指由多种色彩绘成的瓷器,包括斗彩、五彩、珐琅彩和粉彩等。斗彩是在白色瓷胎上先用青色料绘出花纹图案的主要轮廓和主要部分,刷上透明釉经高温烧制,再在青料轮廓内填入不同颜色的彩料,然后经低温烧制。釉下的青花与釉上三至六种其他色彩争奇斗艳,所以称为“斗彩”。五彩也是以釉下青花与釉上彩色相结合,但青色已不再是画面的主要色彩。它色泽艳丽,五彩缤纷,故称“五彩”,实际上不止五种颜色。珐琅彩是用进口的一种玻璃质料珐琅画在瓷胎上烧制而成的,也叫“洋彩”。粉彩是将部分彩绘画面用玻璃白粉打底,再用没骨画法渲染,经低温烧制而成,颜色比五彩更多,也更柔和。

依据材料,结合所学知识,谈谈中国为什么被称为“瓷器大国”。

先进的技术与精湛的工艺

古代中国的手工业生产，有大量的创造发明。陶瓷、冶金、制漆、纺织、造纸、印刷、采煤和造船等重要手工业部门，生产技术、制造工艺和产品质量长期领先于世界。



《天工开物》中的采煤图

中国很早就掌握了冶铜技术。商代的青铜冶炼技术已相当纯熟，铸造的青铜器造型美观，纹饰华丽，工艺精湛。战国、秦汉时期，更广泛使用鎏金、鎏银、镶嵌等装饰工艺，使器物更加华丽精美。人工冶铁技术在西周晚期也已发明，春秋时期已能冶炼生铁。东汉杜诗发明的水力鼓风冶铁工具，南北朝发明的灌钢法^①等，使钢铁的产量和质量在16世纪以前一直处于世界领先地位。

中国人很早就认识了煤，汉代许多地方已用它作燃料。北宋时发现了许多大煤矿，煤的产量大增。明代发明了排除瓦斯的办法，使生产更安全，并懂得把煤炼成焦炭。欧洲的一些国家在13世纪初才开始大规模用煤，而用煤炼铁、炼焦已是18世纪的事了。

采矿技术的成就

在采矿方面，古代中国也有许多发明。最晚在周代，人们已不仅能开采露天矿藏，而且也可开采地下矿藏。考古工作者发现的湖北大冶铜绿山古铜矿遗址，其开采年代从西周延续至汉代以后。此外，考古工作者还发现了其他几处古矿冶遗址。从这些遗址看，人们先是从地面向下挖掘竖井（春秋时期的竖井深达二三十米，战国时期达四五十米），然后在井壁开拓平巷或斜巷。所有井、巷，都用木制框架支撑，以防坍塌。井里装有照明、通风、提升和排水设备。后来，历代地下采矿一直沿用这种井、巷相结合的办法，并不断改进井下通风、排水、矿物运送和安全保障的设施。

中国古代的采矿技术有哪些成就？



铜绿山古铜矿遗址

^① 灌钢法，把生、熟铁按一定比例配合，加热后再锻打成钢。

中国很早就有独木舟，商代创制出木板船。大约在商代出现了帆，至汉代广泛使用。此后，造船技术不断进步，到唐代更在世界上首先创建水密舱，大大提高了船舶的抗沉性能，增加了船舶航行的安全保险系数。世界其他国家直到18世纪末才吸收中国这一先进技术，开始在船上设置水密舱。至于中国造纸、印刷技术和工艺的先进，则更是人所共知的事实。

探究思考

1. 阅读下列材料，回答问题。

方今齐三服官（负责制作宫廷服装）作工各数千人，一岁费数巨万。蜀广汉主金银器，岁各用五百万。三工官费五千万，东西织室亦然。

——（东汉）班固：《汉书·贡禹传》

根据上述材料，结合所学知识，概括这种手工业的生产目的和经营特点。

2. 阅读下列材料，回答问题。

1世纪时，古罗马博物学家普林尼在其被誉为百科全书式的著作《自然史》中说：“虽然铁的种类很多，但没有一种能和中国来的钢相媲美。”古罗马的贵族都以穿着中国丝绸为荣。17世纪以来，许多欧洲国家的宫廷和王公贵族更是竞相购藏中国的瓷器、漆器和丝绸、刺绣，甚至不惜重金到中国定做，运回国内珍藏起来。

(1)为什么古代中国的手工业产品会在海外市场广受欢迎和赞誉？这反映了古代中国手工业生产的哪些特点？

(2)有人说，在当今改革开放的新时代，我国传统的手工艺品必然因为生产效率的低下而被淘汰。你认为这种看法对吗？请结合本课内容加以分析。

3. 请查阅有关资料，列举至少10项居于世界前列的古代中国手工业生产技术。

商业的发展

商业出现于原始社会末期。早期的商业经营活动大多为官府控制，形成“工商食官”制度。后来，随着农业和手工业的发展，商业活动也日益活跃，尤其在汉、唐、宋、元几朝，商业城市“棋布栉比”，各地物资交流日趋频繁，对外贸易日益扩大。到明清时期，随着商业的繁盛，涌现出一批资本雄厚的地域性商人集团——商帮。这些商帮不仅活跃于全国各地，而且还走出国门，推动着商业的发展。

“工商食官”与民营商业的崛起

原始社会末期，氏族部落内部和氏族部落之间已出现商品交换。商代后期，作为交换媒介物的货币已广泛流通，有海贝、骨贝、玉石贝和铜贝等。当时的官府控制着绝大部分手工业品的生产，从而也控制着商业的经营，形成“工商食官”制度。

链接阅读

“商人”、“商业”名称的起源

商族人善做买卖。商朝建立以前，他们的祖先就开始经商。如商族先公相土，曾用牛、马拉着两轮大车，到远方贸易，声名远播辽东半岛。另一先公王亥，也曾赶着牛、羊去同有易部落进行交易。商朝建立后，经商的风气更盛，因而有“殷（商）人重价”之说。商朝灭亡后，都城的商族后裔被周武王迁至洛邑监控起来，但周武王还让他们继续经商以维持生计。由于商族人善于经商，后来人们就把生意人称为“商人”，把经商的行业称为“商业”。



战国时期的金属货币

春秋战国时期，农业和手工业的发展，促使商业冲破“工商食官”制度的束缚而逐步走向繁荣，北方的良马、皮革，南方的鸟羽、象牙、丹砂和铜，东方的鱼、盐、贝类，西方的牦牛制品等，都出现在中原市场上。商业发展又促使城市不断涌现，到战国时已有数十处之多。各种金属货币在春秋中晚期纷纷出现，战国时大量流通。民营商业迅速崛起，涌现出许多大商人。

陶朱公

辅佐越王勾践的范蠡，在灭掉吴国后，弃官至齐国经商，后至宋国的陶（今山东定陶县西北），更名陶朱公，“十九年之中，三致千金”。后世商人尊他为祖师，陶朱公也成为富商的代称。



汉代集市画像砖

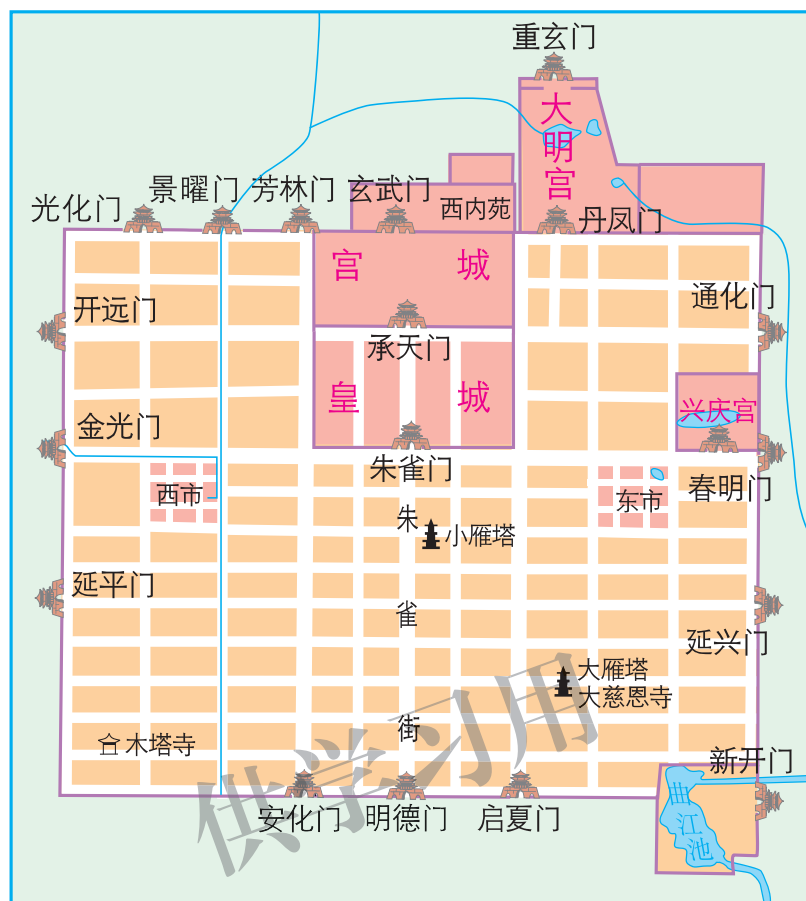
秦始皇建立统一的多民族国家后，统一货币和度量衡，修建驰道，更促进了商业的发展。西汉开通陆地和海上两条丝绸之路，中外贸易也逐渐发展起来。都城长安（今陕西西安）设有九市，各中等城市也都设市。市井周围有围墙，与居民区严格分开。市井中央建有高高的市楼，内设官署，监管交易。楼上悬挂大鼓，定时击鼓通知开市或闭市。

唐宋元商品经济的发展与初步繁荣


隋朝大运河的开通，唐代南方经济的发展，使各种农副产品和手工业品大量涌入市场。全国10万以上人口的城市达13个，还有许多中小城市。农村定期的草市和墟市也日益增多。北宋的商品经济空前活跃，北宋中期10万以上人口的城市增至34个，草市和墟市更是遍布于城市周围和一些村镇。

唐代的都城长安和洛阳，是全国的商业大都会。长安城内有东、西两市，“四方珍奇，皆所积集”。市的四周仍有围墙与坊即居民区隔开，午时入市，日落前三刻散市。宋代的城市，已彻底打破坊市制度。都城汴京（今河南开封）城里，随处都有商铺、邸店、酒楼、食店，还有许多勾栏瓦肆等娱乐场所。营业的时间已不受限制，既有日市，也有早市和夜市。

唐代的城市，出现了许多兼营旅店、货栈和商品交易的邸店。后来从中分离出专营货币的存取和借贷的柜坊，这比欧洲地中海地区出现的金融机构要早六七百年。唐代后期，还出现了最早的兑汇飞钱。北宋时，又出现了世界上最早的纸币——交子。



唐长安城平面复原图



北宋张择端《清明上河图》(描绘了北宋都城汴京清明时节的繁荣景象)

邸店、柜坊、飞钱与交子

邸店在东晋、南朝时已经出现，又称邸舍。唐代的长安、洛阳等城市，市场四面都设有邸店，少则百余处，多则三四百处。后来，逐渐从邸店中分离出柜坊，专代客商储存钱财，支付款项，并兼营借贷业务。唐宪宗时，出现了飞钱，也称便换。商人可预先在长安把钱交给他要前往的某地的驻京办事机构进奏院，或交给某个军府、使节、富豪，然后拿着当事者开出的文券，到目的地取钱。北宋真宗时，益州（今四川成都）16家富商首次联合发行交子，它既可流通，也可兑换现钱。后来，交子改由政府发行。

邸店、柜坊、飞钱与交子的出现，说明了什么？



北宋纸币交子

元朝交通发达，漕运的发展使南北物资交流更加通畅；海运规模空前，海外贸易繁盛。元大都（今北京）商贾云集，商品会聚，是闻名世界的商业大都市。

明清的商帮

明代中期，商品经济非常繁荣。成群结队的商人，往来穿梭于各个城镇之间，从事全国性的贸易活动。他们以血缘、乡谊作为纽带，以会馆、公所进行联络，形成一个个地域性的商人集团——商帮。这些商帮活动于明清商界，推动着商业的发展。其中，以徽商与晋商最为著名。

徽商和晋商是明清时期人数最多、资本也最雄厚的商帮。徽商的巨富“藏镪（qiǎng）^①有至百万者”，晋商“其富甚于新安^②”。他们以巨额的商业资本，经营大宗商品交易和长途贩运，不仅活跃于全国各地，而且还走出国门，在许多国家留下了活动的足迹。清嘉庆、道光年间，晋商还创办日昇昌记、蔚泰厚、天成亨等票号，开展汇兑、存款、放款业务。

徽商和晋商在商业经营中，高度重视商业信誉和商业道德。他们主张以诚待人，以信接物，以义为利；讲求仁爱之心，不乘人之危而牟利；童叟无欺，市不二价；不卖假货，不赚黑钱。特别是徽商，大多“贾而好儒”，

① 镪，古代指成串的钱。

② 新安，即徽商。



清代苏州“全晋会馆”



日昇昌记票号原址

以儒道经商，更赢得商界和顾客的信任和赞赏。徽商和晋商的经营之道，反映了中国传统商业经营的最高水平。

链接阅读

明清商人的会馆、公所

明代各地的举子进京赶考，商人进京经商，都需要有一个专供他们居住、休息的场所。嘉靖年间，一些绅商开始在北京建立会馆，供同乡的举子和商人居住、休息。其他一些城市也相继建立会馆。后来，特别是在清代，一些绅商发起并出资兴建会馆，专供同乡居住集会、联络乡谊、议论商情、贮存货物之用。康熙年间，同一行业的商人又在各城市建立公所。后来，其数量不断增加，超过了会馆。公所与会馆同样具有地域性和行业性的特点，但会馆以地域性为主，公所的行业性特点更为突出。

会馆、公所对明清的商业发展有何贡献？

探究思考

1. 阅读下列材料，回答问题。

初，蜀民以铁钱重，私为券，谓之交子，以便贸易，富民十六户主之。其后，富者资稍衰，不能偿所负，争讼数起。大中祥符（宋真宗年号）末，薛田为转运使，请官置交子务以权其出入，久不报。寇贼守蜀，遂乞废交子不复用。会贼去而田代之，诏田与转运使张若谷度其利害。田、若谷议废交子不复用，则贸易非便，但请官为置务，禁民私造。又诏梓州路提点刑狱官与田、若谷共议，田等议如前。戊午，诏从其请，始置益州交子务。

——（南宋）李焘：《续资治通鉴长编》

依据材料归纳“交子”在宋代的曲折历程，你如何认识“交子”这一历史现象的出现？

2. 古代中国商业的发展具有哪些特点？

3. 徽商和晋商经营之道的核心是什么？在今天是否仍有借鉴意义？

资本主义萌芽的缓慢发展

明代中后期，在商品经济发达的江南地区，开始出现资本主义萌芽。然而在明清王朝的“重农抑商”政策和清朝“海禁”政策的阻碍之下，资本主义萌芽的发展极其缓慢。

明清的资本主义萌芽

明中期以后，商品经济发达的江南地区，小商品生产者产生两极分化，大多数人陷于破产，只能靠出卖劳动力为生；少数人积累了大量资金，变成商人或手工业作坊主。在丝织业中心苏州和杭州，一些富裕的机户，购置几张至几十张织机，开设手工工场，雇用几名至几十名机工进行生产。



明代的松江布

“机户出资，机工出力”，他们之间形成雇佣与被雇佣的关系。这是一种资本主义性质的生产关系。在棉纺织业中心松江，一些商人开设暑袜店，购进大量尤墩布^①，分发给当地居民缝制暑袜，再将暑袜拿到市场上出售获利。这些暑袜店主直接支配生产，变成了包买商。当地居民在自己家中为暑袜店

苏、杭丝织业中的资本主义萌芽

明人张瀚记述他的先辈在杭州发家的情况时说，先祖毅庵原以酤酒为业，成化末年遭受水灾，改营丝织业，购置一张织机，“织诸色苧布”，产品极为精美，颇受顾客欢迎，“计获利当五之一”。“积两旬”，又添置一张织机，后来增加到20张，产品仍然供不应求。“自是家业大饶。后四祖继业，各富至四万金”。这是一个由小商品生产者变为雇佣工人进行生产的手工工场主的突出事例。类似的事例还有一些，如万历初年苏州富民潘璧成的先世，也是“起机房织手，至名守谦者始大富，至百万”。

结合该材料想一想，资本主义萌芽具有哪些特征？

^① 尤墩布，明代产于松江农村的一种轻细洁白的棉布。



《天工开物》中的制瓷图

主做工,计件领取工钱,他们与暑袜店主形成雇佣与被雇佣的关系,这也是一种资本主义性质的生产关系。资本主义的萌芽,在广东罗定的冶铁业和佛山的铸铁业、浙江石门的榨油业中也已出现。

到了清代,资本主义萌芽得到较为明显的增长。手工工场的规模扩大了,包买商更为活跃,出现资本主义萌芽的行业也更多了,如江南地区的制茶、制烟、制酒、造纸、印刷、浆染业,江西景德镇的制瓷业,四川自贡的井盐业,云南的铜矿业,北京西郊的采煤业,陕西终南山的伐木业等。


但是,明清资本主义萌芽发展十分缓慢而曲折,直到鸦片战争前夕,始终处于萌芽状态。就全国而言,自给自足的自然经济仍然占据主导地位,资本主义萌芽则是稀疏而又脆弱的。

关于资本主义萌芽的争论

有些学者认为,中国封建社会的晚期根本没有也不可能产生资本主义萌芽。另有一些学者认为,鸦片战争之前,中国的封建社会已经孕育并且发展了资本主义萌芽。但对其发展缓慢的原因,则看法不一。有的认为,是因为传统儒家思想的束缚;有的认为,是由于封建专制制度的阻碍;有的认为,是因为农业和家庭手工业牢固结合的自然经济不易被冲破;有的认为,是由封建社会的经济结构、生产力水平、人口压力以及统治阶级政策等多种因素造成的。

明清的“重农抑商”政策

明清两朝一直坚持战国时期商鞅变法所实行的“重农抑商”政策。明太祖告谕户部大臣,必须坚持“使农不废耕,女不废织,厚本抑末”的政策。清雍正帝也强调:“农为天下本务,而工贾皆其末也。……惟在平日留心劝导,使民知本业之为贵。”



明初的直隶开垦事帖

所谓重农,就是重视农业生产,保护小农经济,以确保封建赋税和地租的征收。为此,明清王朝都曾采取措施,抑制土地兼并,并兴修水利、恤贫救灾、蠲免税粮,等等。但这些措施的效果是有限的。

所谓抑商,就是压制和限制民营工商业的发展。明清两朝继承

传统的禁榷制度，对盐、茶叶等实行专卖。对民营商业，不仅遍设关卡，重重征税，还令城镇店铺轮流替官府买办物料，只给很低的价款，甚至拖延不给。明清王朝还对民营手工业课以重税，苛派勒索，甚至压价征购产品。

明清两朝的“重农抑商”政策，在明代前期和清代康熙、雍正、乾隆时期得到较为认真的贯彻，促进了当时农业的发展，此后逐渐流于形式。但对工商业的限制和搜刮，却呈现日益严重的趋势。这种“重农抑商”政策，不仅阻碍了工商业的发展，而且强化了农业和家庭手工业相结合的自然经济。这是资本主义萌芽发展的一大障碍。

商税的苛重

明清两朝实行抑商政策，不断加征商税。如明中后期，山东临清的商税在七八年之间几乎增加两倍半多，江苏吴县浒墅关的商税经过21年增加了将近4倍。万历中后期，明神宗派出大批税监，到各地横征暴敛，几乎是“无物不税，无处不税，无人不税”，竟至“商贾断绝，城邑罢市”的地步。清代也是关卡林立，“关津有过路之税，镇集有落脚之税”。正税之外，还有各种名目的苛捐杂税，往往多征至一二十倍。

明清两朝实行抑商政策带来了哪些后果？

清朝的“海禁”政策

清朝初年，为了对付沿海人民的抗清斗争，下令“禁海”，将沿海居民内迁数十里，不许片帆入海，实行“海禁”政策。清朝统一台湾以后，开放了海禁，设立澳门（后移广州黄埔）、漳州、宁波、云台山（今江苏连云港）4个港口作为对外通商口岸。不久，又禁止商人前往南洋贸易。乾隆帝认为：“天朝物产丰盈，无所不有，原不借外夷货物以通有无。”他担心沿海人民同外国人交往会危及自身统治，下令关闭其他港口，只开广州一个口岸对外通商，并规定由政府特许的“十三行”统一经管外贸事宜。

清朝的“海禁”政策推行了近200年。当时西方各国正先后进行资产阶级革命，并积极推行重商主义政策，开拓海外市场，进而积累大量资本，开展工业革命，使生产力得到迅速发展。清政府闭关锁国，不仅阻碍国内工商业的发展和海外市场的开拓，抑制资本的原始积累，而且使中国与世隔绝，未

能及时学习西方先进的科学技术以促进生产力的发展。这是导致资本主义萌芽发展缓慢的一个重要因素。

链接阅读

广州“十三行”

清王朝为了防止外商与中国人接触,在广州开港后,便指定一些商人专门同外国人交易。这些商人开设的对外贸易机构,被称为洋货行,俗称“十三行”。“十三行”的职责是:承揽进出口贸易;代理外商报关缴税;为内外商担保;替清王朝向外商传达政令、送交外交公文,并向清王朝转达外商意见,递交票帖;管理监督外商。

你如何评价“十三行”?



乾隆时期的广州“十三行”

探究思考

1. 查阅资料,了解西方国家的重商主义政策,比较清朝推行“重农抑商”政策与当时西方国家推行重商主义政策的不同经济基础和社会后果。
2. 结合课本内容和所学知识,概括中国资本主义萌芽缓慢发展的原因。
3. 阅读下列材料,回答问题。

材料一:僇力本业,耕织致粟帛多者复其身。事末利及怠而贫者,举以为收孥。

——《史记·商君列传》

材料二:我吴市周籍田业,大户张机为生,小户趁织为活。每晨起,小户数百人,嗷嗷相聚玄庙口,听大户呼织,日取分金为饔飧计。大户一日之机不织则束手,小户一日不就人织则腹枵,两者相资为生久矣。

——蒋以化:《西台漫记》

- (1) 概括材料一的主旨思想。
- (2) 材料二中“大户”和“小户”各指什么?“大户”和“小户”之间存在着什么样的关系?这反映了何种性质的社会经济形态?
- (3) “大户”所从事的是材料一中所说的“本业”还是“末利”?据此你对中国封建社会的“重本抑末”政策有何看法?


第二单元

近代中国资本主义的 曲折发展

鸦片战争以后，中国逐渐卷入资本主义世界市场，自给自足的自然经济日趋瓦解。19世纪60年代，洋务运动兴起，洋务企业不断涌现，民族资本主义企业也随之出现。这一切都表明近代中国的经济结构出现了变动。

近代中国内忧重重、外患频频，中国的民族资本主义在夹缝中求生存、谋发展。从19世纪六七十年代到1949年，民族资本主义的发展步履维艰、历经曲折。但是，中国民族资产阶级高举爱国主义旗帜，抱定实业救国的信念，吸收西方先进的工业文明成果，推动了中国民族资本主义的成长，出现了多次发展的热潮，创造了很多令人瞩目的业绩。

历史证明，近代中国资本主义的发展，促进了中国的近代化进程，推动了中国社会的进步。历史也证明，在帝国主义、封建主义和官僚资本主义的挤压下，实业救国的道路是行不通的。



近代中国经济结构的变动

西方列强以武力打开中国国门后，加紧了经济侵略的步伐，促使中国的自然经济逐步走向解体。面临内忧外患的困境，清朝统治集团中的洋务派开展了一场历时30多年的洋务运动，力求通过学习西方的“长技”来达到富国强兵的目的。这场运动虽以失败而告终，但它对近代中国资本主义的发展产生了重要影响。受外资企业获利丰厚的刺激，加上洋务运动创办企业的诱导，中国的民族工业开始起步。

自然经济开始解体

鸦片战争后，清政府被迫开放通商口岸。以英国为首的西方国家，在进一步扩大鸦片走私的同时，输入中国的其他商品的数量也呈激增之势，其中以棉纺织品为大宗。外国的棉纺织品使用机器生产，成本较低且质量较好，中国的手工棉纺织品无法与之竞争，农村的家庭手工棉纺织业受到严重冲击。西方国家还大量从中国收购茶叶、生丝等农产品，相关地区的农民纷纷扩大茶、桑的种植，他们的生产经营与商品市场的联系也日益密切。这样，“耕”与“织”出现分离趋势，中国自给自足的自然经济开始解体。这种情况在东南沿海地区最早出现，后来逐步加剧，并向内地扩展。

资料浏览

洋货倾销，民族经济受损

1845年，有个清朝官员在给朝廷的奏报中这样诉说厦门开埠后的情形：“该夷除贩运洋货外，兼运洋布洋棉，其物充积于厦口，内地之商贩，皆在厦门运入各府销变，其质既美，其价复廉，民间之买洋布洋棉者，十室而九。由是江浙之棉花不复畅销，商人多不贩运；而闽产之土布土棉，遂亦因之壅滞不能出口。”

材料中洋布洋棉畅销的主要原因是什么？它带来了哪些影响？

洋务运动

第二次鸦片战争结束后，清政府面临内忧外患的重重困扰，统治集团内部出现了分化。一些比较开明的官员主张学习和利用西方“长技”来强



洋务派领袖奕訢

兵富国，以挽救危局。他们被称为洋务派。洋务派人物中，既有以恭亲王奕訢为代表的朝廷要员，又有以曾国藩、李鸿章、左宗棠以及后起的张之洞为代表的地方实力派大员。

从19世纪60年代初到90年代中期，洋务派掀起了一场历时30多年的洋务运动。洋务运动前期以“自强”为口号，主要致力于兴办近代军事工业和加强军队建设。1861年，曾国藩主持设立了安庆内军械所。后来，李鸿章、左宗棠、崇厚也相继办起多家军事工业。这类军事工业属于官办性质，机器从外国引进，经费由政府划拨，产品也主要由政府调配，不作为商品投放市场。

洋务派所办著名军事工业简表

| 厂（局）名 | 创办时间 | 所在地点 | 创办人 |
|--------|-----------|------|-----|
| 江南制造总局 | 1865年 | 上海 | 李鸿章 |
| 金陵制造局 | 1865年 | 南京 | 李鸿章 |
| 福州船政局 | 1866年 | 福州马尾 | 左宗棠 |
| 天津机器局 | 1867年 | 天津 | 崇厚 |
| 湖北枪炮厂 | 19世纪90年代初 | 汉阳 | 张之洞 |



金陵制造局原址

洋务派还进行军制改革，特别是创建了新式海军。到19世纪80年代后期，相继建立起福建、南洋、北洋三支海军，其中以北洋海军实力最强。

从19世纪70年代起，洋务派又以“求富”为口号，注重民用企业的创建，以解决军事工业财力、物力上的困难和军队的后勤保障。1872年在上海设立的轮船招商局，是洋务派最早创办的民用企业。此后，相继设立了多家民用企业。洋务派的民用企业多采用“官督商办”的方式，官方控制管理大权，吸纳商人投资参股，经营上与市场接轨。与其创办的军事工业相比，这些民用企业具有更多的资本主义因素。

洋务派所办著名民用企业举例

| 厂(局)名 | 创办时间 | 所在地点 | 创办人 |
|---------|-------|-----------|------|
| 轮船招商局 | 1872年 | 上海 | 李鸿章 |
| 开平矿务局 | 1878年 | 唐山开平 | 李鸿章 |
| 上海机器织布局 | 1878年 | 上海 | 李鸿章等 |
| 电报总局 | 1880年 | 天津(后迁至上海) | 李鸿章 |

轮船招商局

轮船招商局是洋务派最早创办的民用企业，也是第一家官督商办企业。它于1872年筹办，1873年成立，总局设在上海，分局设在天津、烟台、汉口、福州、广州、香港和国外的一些地方。这家企业是在中国旧式航运业遭受外国航运势力的冲击而衰落不振的情况下创立的，有与外国竞争的意图，并且也获得了一定发展。但由于管理官员腐败，又遭受列强在华航运势力的排挤，经营相当艰难。



轮船招商局上海总办事处

为了培养洋务人才，洋务派还设立京师同文馆等新式学堂，派遣留学生出国深造。这些举措开启了中国近代教育的先河。

洋务运动遭到统治集团内部顽固派的重重阻挠；同时，遭到列强多方面的刁难、限制；洋务派官员本身也是封建官僚，洋务运动基本上由有关

大员各自为政地分散进行，成效大打折扣，因此，洋务运动步履艰难。洋务派企图在不改变封建制度的前提下，利用西方先进的科技来求取富强，这是一种不切实际的幻想。北洋海军在甲午中日战争中的惨败，宣告了洋务运动的破产。

洋务运动虽然失败了，但它对中国近代资本主义的发展产生了重要影响。洋务运动创办的企业，是由官方垄断或控制的，从而压抑和限制了民营企业的发展。但它毕竟对中国新式资本主义工业的建立，起到了一定的刺激和示范作用。它引进了西方先进的科学生产技术，培养出一批科技人员和技术工人，有利于中国民族资本主义的发展。

李鸿章曾对人这样说：“我办了一辈子的事，练兵也，海军也，都是纸糊的老虎……不过勉强涂饰，虚有其表，不揭破犹可敷衍一时。如一间破屋，由裱糊匠东补西贴，居然成一净室，虽明知为纸片糊裱，然究竟决不定里面是何等材料，即有小小风雨，打成几个窟窿，随时补葺，亦可支吾对付。乃必欲爽手撕破，又未预备何种修葺材料，何种改造方式，自然真相破露，不可收拾。”

——吴永：《庚子西狩丛谈》


李鸿章的这段话说明了什么？



李鸿章

近代民族工业的兴起

鸦片战争以前，中国封建社会内部已经孕育着资本主义萌芽。列强的入侵，截断了中国原有资本主义萌芽的成长途径。



清末苏州的一家纱厂车间

鸦片战争后不久，西方列强开始非法在中国通商口岸投资设厂。受到这些外资企业丰厚利润的刺激，再加上受到洋务派创办企业的诱导，一些官僚、地主、商人开始投资创办近代企业。从19世纪60年代末期到90年代前半期，20多年间，大约出现了百余家民族资本企业。中国的民族资本主义工业开始起步。中国民族资本主义工

业的产生，成为中国社会向近代转型的经济基础。

在近代中国特殊的经济环境中，中国的民族工业大多是从轻工业和小规模的采矿业起步的。而且与当时中国半殖民地的经济格局相适应，这些近代民族工业主要集中在通商口岸及其周边地区，如上海的发昌机器厂、广东南海的继昌隆缫丝厂、天津的贻来牟机器磨坊等。中国民族工业从一开始就受到外国资本主义和本国封建主义的双重压迫，发展极为艰难。

链接阅读

继昌隆缫丝厂

广东南海（今广东广州）人陈启沅，原以农桑为业，后到南洋经商，遍历各埠。他看到机器生产的优越性，决定回国办厂。1872年，陈启沅在家乡创办继昌隆缫丝厂，采用自己设计的机器缫丝，俗称“丝偈”。这是中国民族资本经营的第一家缫丝厂。由于使用机器功效高，缫出的丝粗细均匀，鲜亮洁净，质量很好，在市场上大受欢迎。当地手工缫丝业户无法与之竞争，曾“联群挟制”，甚至威胁要拆毁缫丝厂。工厂一度迁至澳门，改称复和隆丝厂，后又迁回。在陈启沅的影响和带动下，华商创办的机器缫丝厂逐渐多了起来。

材料中推动陈启沅创办继昌隆缫丝厂的主要因素是什么？

探究思考

阅读下列材料并结合所学知识，说说你的看法。

洋商见我工商竞用新法，深中其忌，百计阻抑，勒价停市。上年江浙、湖北等省，缫丝、纺纱各厂，无不亏折，有歇业者，有抵押与洋商者。

——《东华续录》（光绪朝）

- (1) “我工商竞用新法”，其中的“新法”指什么？
- (2) 洋商对我工商“百计阻抑”，导致很多工厂“亏折”甚至“歇业”，说明了什么？

民族资本主义的曲折发展

甲午战争以后，随着中国人民反帝爱国斗争的不断深入，民族工商界人士“实业救国”热情的日益高涨，以及清王朝放松了对民间设厂的限制，民族资本主义获得初步发展。辛亥革命推翻清朝的统治，结束了延续两千多年的封建帝制，加上第一次世界大战期间欧洲列强忙于战争，暂时放松了对中国的经济侵略，中国的民族资本主义获得较快的发展。但是，由于中国半殖民地半封建的社会性质没有改变，官僚资本主义又在急剧膨胀，这就注定了民族资本主义发展艰难、曲折的坎坷命运。

民族资本主义的初步发展



清末上海的一家缫丝厂

甲午战争以后，中国人民反帝爱国斗争不断深入，民族工商界人士“实业救国”的热情空前高涨；清王朝为了扩大税源，解决财政困难，也开始实行“恤商惠工”政策，鼓励民间投资设厂，中国民族资本主义有了初步的发展。

1895—1911年，全国共设立厂矿企业近500家，总资本1.1亿多元。其中商办者400余家，总资本8000多万元，几乎相当于官办和官商合

清末投身实业的代表人物

在清末投资新式工矿企业的人士中，实力最强的是一些资产阶级上层分子，像出身于买办的祝大椿，清末十几年间设厂投资达230余万元，雇用工人达4000多人。清末投身实业的著名代表人物，还有“南张北周”的说法。“张”指张謇。张謇为江苏南通人。他从1895年起开办南通大生纱厂，以后10年间投资900余万元，又相继创办了多家企业。“周”指周学熙。他是建德（今安徽东至）人，两江总督周馥的儿子。周学熙曾在北洋政府任职，他凭借这种身份，创办了多家企业，启新洋灰公司是其中之一。

讨论一下，祝大椿、张謇和周学熙等人为什么会积极投资办厂？



近代实业家张謇



周学熙在唐山创办的启新洋灰公司

办企业的3倍。民族资本已成为中国工业资本的主体，民族资产阶级开始登上历史舞台。

但从总体上看，这一时期民族资本主义的基础仍然相当薄弱。重工业的发展受到限制，轻工业也出现严重“贫血”，无法与外国资本抗衡。列强的掠夺，使得中国国敝民穷，百业萧条。封建经济关系也严重阻碍了民族资本主义的发展。

资料浏览

1904年，张謇忧虑地指出：“前、上两年每交赔款之时，上海商市大力掣动，拆息之大为从来所未有。推原其故，由于输出之银太多，商市因窘蹙。屈指赔偿之期未至十一，而上下交困，势已如此。过此以往，何堪设想！”

——引自张謇：《张季子九录·政闻录》

材料中张謇主要“忧虑”什么？

短暂的“黄金时代”

辛亥革命推翻清朝统治，结束延续两千多年的封建帝制，建立了中华民国。革命党人主政的南京临时政府，厉行保护工商业的方针政策。北洋军阀窃取民国政权后，为了笼络资产阶级，也颁布一系列振兴实业的政令。这些都为民族资本主义的发展提供了一定的条件。第一次世界大战期间，欧洲列强忙于战争，暂时放松对华的经济侵略，客观上有利于中国民族资本主义的发展。辛亥革命前后，群众性反帝爱国斗争的高涨，特别是1915年因反对“二十一条”而掀起的抵制日货、提倡国货运动，对民族资本主义的发展也是一个有力的推动。

这样，民国初年，处于帝国主义和封建主义夹缝中的民族工业，迎来

了一个快速发展的短暂时期。1912—1919年，中国新建工矿企业470多家，资本近1亿元，再加上原有企业的扩建，新增资本共达1.3亿元以上，相当于民国以前40多年的总和。特别是第一次世界大战期间，民族资本主义工业的发展势头尤其强劲，有“黄金时代”之称。1916年以后的三四年间，平均每年新建企业120余家。纺织业、面粉业迅速发展，火柴、造纸、卷烟、食品等行业都有不同程度的发展，重工业中的电力、钢铁等部门和化学工业也有起色。在许多行业中，出现了一批著名人物和一些名牌产品。

第一次世界大战期间民族资本企业代表人物简表

| 行 业 | 企业名称 | 经营者 | 籍 贯 |
|--------|-----------------|---------------|------------|
| 面粉、棉纱 | 茂新、福新、申新等公司 | 荣宗敬、荣德生兄弟 | 江苏无锡 |
| 酿酒 | 张裕酿酒公司 | 张振勋（华侨） | 广东大埔 |
| 火柴、煤炭等 | 大中华火柴公司、华东煤矿公司等 | 刘鸿生 | 浙江定海 |
| 卷烟 | 南洋兄弟烟草公司 | 简照南、简玉阶兄弟（华侨） | 广东南海 |
| 盐业、化工 | 久大盐业公司、永利化学工业公司 | 范旭东 | 湖南湘阴 |
| 化工 | 天厨味精厂、天原电化厂等 | 吴蕴初 | 江苏嘉定（今属上海） |
| 机器制造 | 求新机器制造厂 | 朱志尧 | 上海 |
| 航运 | 民生公司 | 卢作孚 | 四川合川（今属重庆） |

荣氏兄弟

江苏无锡的荣宗敬、荣德生兄弟，早年在上海经营钱庄，1900年起相继在无锡、上海等地开设面粉厂和纱厂。第一次世界大战期间，国产面粉畅销，荣氏兄弟获利丰厚。他们进而加大对纺织业的投资，于1915年在上海创



荣氏兄弟在上海设立的面粉厂

办申新纱厂，后来又在济南、汉口、无锡等地陆续开设分厂。至1922年，荣氏兄弟拥有面粉厂12家、纱厂4家，成为中国著名的面粉业和纺织业“大王”。

曲折的发展历程

由于辛亥革命未能彻底铲除封建主义势力，国内市场极为狭小。第一次世界大战结束后，帝国主义又加紧对华的商品和资本输出，加上1927年国民党执政后官僚资本逐步形成，中国民族资本主义的后续发展面临着重重困难。

抗日战争以前，官僚资本尚未恶性膨胀，国民政府也采取了一些鼓励发展实业的措施，掀起国民经济建设运动，中国民族资本主义尚能继续向前发展。到1936年，中国的资本主义发展达到了高峰。当年全国工业总产值达100多亿元，比10年前几乎翻了一番，其中有近60%来自民族资本企业。

1937年，日本发动全面侵华战争，中国民族资本遭受残酷的打击。在沦陷区，来不及内迁的企业不是被日军摧毁，就是被日资吞并。在国统区，国民党统治集团实施战时经济统制，凭借国家权力巧取豪夺。官僚资本恶性膨胀，极力压迫和侵夺民族资本。民族资本企业濒临破产。

官僚资本侵夺南洋兄弟烟草股份有限公司

由简照南、简玉阶开办的南洋兄弟烟草公司，是近代中国最大的一家民族卷烟企业。简氏兄弟早年在日本、香港等地经商，1905年与友人合资在香港开办卷烟厂。第一次世界大战期间，在上海设厂并改组为股份有限公司。1927年资本扩大到近2000万元，全盛时职工达万余人。此后，在帝国主义、封建主义和官僚资本主义的重重压迫下开始衰退，出现连年亏损的局面。趁公司处于困境之机，官僚资本于1937年强迫简家订立合同，低价收买公司股票，控制了其股权。



南洋兄弟烟草股份有限公司在上海的工厂

抗战胜利以后，蒋介石国民政府为了取得美国援助以发动内战，与美国签订了《中美友好通商航海条约》。美国借此获得在华的许多政治、经济

特权，向中国大量倾销商品，几乎独占中国市场。官僚资本也进行经济垄断，挤压民族资本企业。国民政府还不断摊派苛捐杂税，滥发纸币，导致恶性通货膨胀，造成原料昂贵，产品滞销，民族资本企业陷入了绝境。仅1947年，上海的3419家民营企业就倒闭了2597家，约占总数的76%。1948年，勉强维持生产的工厂开工率只有20%左右。

历史证明，在帝国主义、封建主义和官僚资本主义的严重阻碍下，实业救国道路步履维艰。

探究思考

阅读下列材料，回答问题。

1913—1920年，全国新设面粉厂47个。1914年以前，面粉每年入超，从1915年起变为出超。1915—1920年，出超量由0.2895万吨增至17.2485万吨。但从1922年起，外国的面粉和小麦又大量输入中国，外资在华工厂也开始扩大生产，中国的面粉业很快就趋于萧条。1922年6月，上海的面粉厂开工者占总数的75%，7月减至40%。1922—1926年，江苏的面粉厂有7家倒闭，天津有4家倒闭，东北的面粉厂由近30家减少到十几家。

(1) 依据材料指出第一次世界大战期间和第一次世界大战后我国面粉业的发展状况有何不同。

(2) 结合所学知识分析出现不同状况的主要原因，这种变化的出现说明了什么？

第三单元

中国特色社会主义道路的探索与实践

20世纪的后半期，世界经济快速发展，新兴产业不断涌现。新中国成立后，中国人民开始了社会主义建设道路的探索历程。1956年，中国共产党第八次全国代表大会召开，在社会主义经济建设问题上作了一次具有重大意义的探索。但是，在之后的20多年中，“苏联模式”的影响、“左”倾错误的滋长，使得我国经济发展既有辉煌成就，也有曲折失误。

1978年，中共十一届三中全会召开，党和国家将工作重心转移到了经济建设上来，我国进入了社会主义现代化建设的新时期，中国特色社会主义建设开启了新篇章。20世纪90年代以后，在世界格局发生深刻变化和经济全球化趋势不断加强的背景下，我国适时提出了建立社会主义市场经济体制的新目标，中国特色社会主义建设事业迈入新阶段。

21世纪，在中国共产党的领导下，我国继续高举中国特色社会主义的伟大旗帜，坚定地走自己的路，向着全面建成小康社会的目标不断迈进。



中国社会主义建设道路的探索

中华人民共和国成立后，在中国共产党的领导下，中国人民迅速医治战争创伤，恢复国民经济。1956年社会主义改造基本完成以后，社会主义经济体系初步建立，探索适合中国国情的社会主义建设道路的任务摆到了中国共产党的面前。中国社会主义建设道路的探索取得了许多重要成就，但由于缺乏经验，也出现了一些重大失误。

社会主义经济体系的初步建立

旧中国是个落后的农业国。由于帝国主义、封建主义的长期掠夺、压迫和国民政府的肆意搜刮，加上多年战争的破坏，到新中国成立前夕，国民经济已处于全面崩溃状态。

1949年中华人民共和国成立后，中国人民在中国共产党的领导下，迅速医治战争创伤，用三年时间恢复了国民经济。同时着手进行土地改革，废除封建土地制度，使农村生产力获得解放，为国家的工业化准备了条件。

从1953年起，国家开始实行第一个五年计划，进行社会主义建设。第一个五年计划优先发展重工业，建成了鞍山钢铁公司三大工程^①、长春第一



1956年7月，中国第一辆国产汽车——解放牌汽车驶下生产线

汽车制造厂、沈阳飞机制造厂和沈阳第一机床厂，开始改变中国工业的落后面貌，奠定了社会主义工业化的初步基础。国家在发展重工业的同时，对农业、手工业和资本主义工商业实行改造。广大农民参加农业生产合作社，手工业者加入手工业生产合作社，资本主义工商业也掀起全行业公私合营的高潮。到1956年年底，中国已基本完成“三大改造”，实现了从生产资料私有制到社会主义公有制的转变，初步建立起社会主义经济体系。

^① 鞍山钢铁公司三大工程，指大型轧钢厂、无缝钢管厂、7号自动化炼铁炉。

第一个五年计划

为了有计划地进行社会主义建设,中国政府编制了发展国民经济的第一个五年计划。它的指导方针和基本任务是:集中主要力量发展重工业,建立国家工业化和国防现代化的初步基础;相应地发展交通运输业、轻工业、农业和商业;相应地培养建设人才。第一个五年计划从1953年开始执行。1956年年底,主要指标大都提前完成。到1957年年底,各项指标都大幅度超额完成。全国的工业总产值在工农业总产值中的比重,由1952年的41.5%提高到1957年的56.5%;重工业产值在工业总产值中的比重,由1952年的35.5%提高到1957年的45%,初步改变了旧中国重工业落后的面貌。

社会主义建设道路的探索与失误

从1956年开始,中国转入大规模的社会主义建设,并在实践中探索社会主义建设的道路。

1956年9月,中国共产党第八次全国代表大会在北京举行。大会明确指出,中国的社会主义制度已经初步建立起来。当前国内的主要矛盾是人民对于建立先进的工业国的要求同落后的农业国的现实之间的矛盾,人民对于经济文化迅速发展的需要同当前经济文化不能满足人民需要的状况之间的矛盾。党和全国人民当前的主要任务,就是要集中力量尽快地使中国由落后的农业国变为先进的工业国。大会还制定了在综合平衡中稳步前进的经济建设方针。中共八大的路线是正确的,是党在探索社会主义建设道路的过程中取得的重要成果。但八大确定的正确路线并未能坚持下来。

1958年,中共八大二次会议正式通过了“鼓足干劲、力争上游、多快好省地建设社会主义”的总路线。总路线的提出,虽然反映了广大人民群众要求尽快改变中国经济文化落后状况的愿望,但却忽视了经济发展的客观规律,脱离了中国的国情。

中共八大二次会议以后,全国掀起了“大跃进”运动,片面追求工农业生产的高速度,不断大幅度提高计划指标。不久,中共中央政治局会议又作出两项重大决策:一是要求钢产量比1957年翻一番;二是在农村建立人民公社。这次会议把“大跃进”和人民公社化运动迅速推向高潮,以高指标、



毛泽东在中共八大上致开幕词

瞎指挥、浮夸风、“共产风”为主要标志的“左”倾错误严重泛滥开来。“大跃进”和人民公社化运动违背了中国所处的社会主义初级阶段的基本国情，导致国民经济建设出现严重的混乱。1959—1961年，国民经济出现了严重的困难。

农业竞放高产“卫星”

高指标带来高估产。1958年夏收期间，各地兴起虚报高产、竞放高产“卫星”的浪潮。6月12日，河南遂平县卫星农业社率先放出小麦亩产1765公斤的“卫星”。接着，各地的高产“卫星”纷纷“上天”，一个比一个高。最大的水稻“卫星”，是广西环江县红旗人民公社“发射”的亩产65217公斤的大“卫星”。当时报刊舆论对此也大加鼓吹，宣称“人有多大胆，地有多大产”。

大炼钢铁

1958年，为了完成钢产量翻番的“政治任务”，全国各行各业迅速掀起大炼钢铁的群众运动。全国几千万人上阵炼钢，小高炉、小土炉遍地开花，到处人声鼎沸，炉火通明，浓烟冲天。经过这样拼命苦干，到年底终于生产出1108万吨钢，但合格的好钢却只有800万吨。大炼钢铁既对生态环境和物质资源造成严重破坏，又极大地冲击了农业和轻工业生产。

出现上述现象的原因是什么？



当时的画作，在亩产10万斤的稻田上跳舞

面对严峻形势，从1960年冬开始，中共中央和毛泽东开始纠正农村工作中的“左”倾错误，按照“调整、巩固、充实、提高”的方针对国民经济进行大调整。从1962年起，国民经济逐渐得到恢复和发展。到1965年，国民经济调整工作基本完成，并在一些领域取得了重大成就。

中共八大以后的10年，中国的社会主义建设虽然出现了严重失误，但仍然取得很大的成就。工业生产有了巨大的增长，能源、冶金、机械等一些旧的工业部门得到加强，电子、航天、石油和石油化工、原子能等一批新兴的工业部门从无到有建立起来，从而形成了独立的、比较完整的工业体系。

“文化大革命”对国民经济的破坏

1966年，“文化大革命”运动爆发。不久，这场动乱由思想文化和政治领域扩展到经济领域。许多行之有效的政策和规章制度被“砸烂”，大批学

生“停课闹革命”，工人和干部“停产闹革命”，国民经济遭受严重破坏。

1971年，周恩来主持中央日常工作，对国民经济进行恢复和调整，使之逐步复苏。1975年，邓小平主持中央日常工作。他根据毛泽东关于要安定团结、把国民经济搞上去的指示，着手进行全面整顿，使国民经济得到进一步的好转。不久，邓小平再次遭受错误批判，国民经济又陷入混乱状态。

“文化大革命”的动乱持续10年之久，国民收入损失约5000亿元，相当于新中国成立30年来全国基本建设投资的80%，超过了30年全国固定资产的总和。

链接阅读

“文化大革命”对规章制度的破坏

1975年3月5日，邓小平在中共省、市、自治区委员会主管工业的书记会议上的讲话中指出：“现在的铁路事故惊人，去年一年发生行车重大事故和大事故七百五十五件，比事故最少的一九六四年的八十八件增加好多倍。这中间有许多是责任事故，包括机车车辆维修方面的责任事故。这说明没有章程了，也没有纪律了。……火车司机不能下车吃饭，要带饭盒在车上吃，这是老章程，是有道理的。现在随便下车吃饭，经常误点。值班不准喝酒，这是历来的规矩，现在也不严格执行了。喝醉了酒扳错道岔，就会造成火车相撞的重大事故。……这个问题不光是铁道部门存在，其他地方和部门也同样存在。”

探究思考

阅读下列材料，回答问题。

重工业是我国建设的重点。必须优先发展生产资料的生产，这是已经定了的。但是决不可以因此忽视生活资料尤其是粮食的生产。如果没有足够的粮食和其他生活必需品，首先就不能养活工人，还谈什么发展重工业？所以，重工业和轻工业、农业的关系，必须处理好。

在处理重工业和轻工业、农业的关系上，我们没有犯原则性的错误。我们比苏联和一些东欧国家作得好些。……他们片面地注重重工业，忽视农业和轻工业，因而市场上的货物不够，货币不稳定。我们对于农业、轻工业是比较注重的。……

——毛泽东：《论十大关系》（1956年）

- (1) 为什么毛泽东说“重工业是我国建设的重点”？
- (2) 毛泽东关于重工业和轻工业、农业的关系的认识与中共八大中关于经济建设的方针有何联系？

社会主义市场经济体制的建立

1978年召开的中共十一届三中全会,是党和共和国历史上的一次伟大转折。会后,中国大地上迅即掀起改革的浪潮,在农村普遍实行以家庭联产承包为主的责任制,在城市实行国有企业改革,进而建立起社会主义市场经济体制。改革调动了广大农民的积极性,增强了企业的活力,实现了市场对资源的配置,使生产力得到了快速的发展。

历史性的转折

1976年粉碎“四人帮”以后,在两年时间里,国民经济仍徘徊不前,人民生活没有改善。1978年12月,中共十一届三中全会在北京召开。全会提出了“解放思想、开动脑筋、实事求是、团结一致向前看”的指导方针,重新确立党的实事求是的思想路线。全会作出把党和国家的工作重点转移到社会主义现代化建设上来的战略决策。中国的改革开放从此拉开了序幕。

十一届三中全会是党和共和国历史上最具深远意义的历史转折,成为中国共产党探索建设中国特色社会主义道路的新起点。中国社会主义现代化建设从此进入一个新的历史时期。

关于真理标准问题的大讨论

1978年5月,《光明日报》发表《实践是检验真理的唯一标准》一文,尖锐地指出,“四人帮”加在人们身上的精神枷锁还没有完全被粉碎,对“四人帮”设置的禁区“要敢于去触及,敢于去弄清是非”。文章发表后,引起强烈反响,由此引发了一场全国性的关于真理标准问题的大讨论。这场讨论对重新确立解放思想、实事求是的思想路线起到了重大作用。



1978年5月11日,《光明日报》发表《实践是检验真理的唯一标准》的文章



邓小平在中共十一届三中全会上



1978年12月24日,《人民日报》
发表中共十一届三中全会公报

经济体制的改革

中共十一届三中全会以后,中国经济体制的改革首先从农村开始。新中国成立以来,长期实行计划经济体制。这种体制存在严重的弊端。特别是在农村实行的“政社合一”的人民公社体制,统一经营,集体劳动,平均分配,吃“大锅饭”,严重挫伤了农民的生产积极性,农业生产的发展十分缓慢。

1978年,一些地区的社员自发地搞包产到户,把集体土地承包到农户,用家庭个体经营取代生产队的集体经营。这种家庭联产承包责任制,使农民有了生产和分配的自主权,极大地调动了农民的生产经营积极性。党中央对此给予充分的肯定,在各地农村普遍加以推广。1983年,中央根据改革后的农村形势,决定撤销作为农村政权基层单位的人民公社,建立乡、镇政府。1993年,家庭联产承包责任制作为农村的一项基本制度,被正式载

小岗村率先将土地包产到户

1978年12月,安徽凤阳县小岗村18户农民秘密开会,采取瞒上不瞒下的办法,把生产队的土地分到各户,并写了保证书,签字画押。他们保证完成向国家上缴的公粮和统购粮;承诺如果队干部因包产到户而坐牢,保证把他们的孩子抚养到18岁。他们苦干一年,获得了大丰收,向国家上缴了自农业合作化以来的第一次公粮。小岗村由过去的“讨饭村”,一跃变成了“冒尖村”。

运用生产力和生产关系的理论,分析说明小岗村发生巨变的原因。



中共中央颁布的一系列完善农村家庭联产承包责任制的文件

入宪法，成为中国农村经济的主要经营形式。

在农村改革的推动下，城市经济体制的改革也在全国逐步展开。

城市经济体制的改革，重点是国有企业的改革，主要集中在3个方面：在管理体制方面，实行政企分开，所有权和经营权适当分离，使企业拥有经营自主权，增强了活力。在所有制方面，由过去单一的公有制，逐步转变为公有制为主体、多种所有制经济共同发展的基本经济制度。在分配方面，打破吃“大锅饭”的做法，由过去平均主义单一分配制度，转变为以按劳分配为主体、多种分配方式并存的分配制度。

经济体制的改革，推动了国民经济的飞速发展。农村经济体制改革，使农业生产高速增长，乡镇企业快速发展，广大农民的温饱问题基本得到解决。城市经济体制改革，使工业生产格局发生了战略性转变，重工业不再是政府主导的优先发展项目，轻工业得到迅速的恢复和发展。中国的国民经济走上了持续发展的道路。

改革促进了经济的发展

农村改革，使农业生产迅猛发展，农业总产值稳步上升：1980年达到1922.6亿元；1981年突破2000亿元大关，达到2180.62亿元。国有企业改革，使工业生产持续高速增长。按可比价格计算，1997年与1993年相比，第二产业产值增长67.4%，年平均增长13.8%，其中工业产值增长69.5%，年平均增长14.1%。



商品供给充足的贸易市场

社会主义市场经济体制的建立



1992年初，邓小平在深圳视察

20世纪80年代末到90年代初，中国的改革进入关键时期。1992年初，邓小平先后到武昌、深圳、珠海和上海等地视察，发表一系列重要谈话。在这些视察南方的谈话中，他指出：“计划经济不等于社会主义，资本主义也有计划；市场经济不等于资本主义，社会主义也有市场。计划和市场都是经济手段。”确认社会主义也可以实行市场经济。同年10月，中共

十四大报告明确提出，中国经济体制改革的目标，是建立社会主义市场经济体制。1993年，中共十四届三中全会通过《中共中央关于建立社会主义市场经济体制若干问题的决定》，确定了中国社会主义市场经济的理论体系和基本框架。1997年，中共十五大又进一步指出，建设中国特色社会主义的经济，就是在社会主义条件下，发展市场经济，不断解放和发展生产力。

为了建立社会主义市场经济体制，党和政府采取一系列重大措施，加快改革的步伐。到21世纪初，中国已有95%以上的商品资源实现市场配置，由国家定价的商品不足5%。社会主义市场经济体制已经基本建立起来。

改革开放和社会主义市场经济体制的建立，使中国的社会生产力得到飞速的发展。自20世纪80年代以来，中国的经济保持年均9%以上的增长速度，创造了世界经济史上的奇迹。人民的生活发生巨大的变化，解决了温饱问题，正在朝着全面建设小康社会的目标迈进。

2017年10月，中国共产党第十九次全国代表大会召开，宣告我国已进入中国特色社会主义新时代。中国特色社会主义进入新时代，我国社会主要矛盾已经转化为人民日益增长的美好生活需要和不平衡不充分的发展之间的矛盾。我国稳定解决了十几亿人的温饱问题，总体上实现小康，不久将全面建成小康社会。

社会主义也有市场

计划多一点还是市场多一点，不是社会主义与资本主义的本质区别。计划经济不等于社会主义，资本主义也有计划；市场经济不等于资本主义，社会主义也有市场。计划和市场都是经济手段。……社会主义要赢得与资本主义相比较的优势，就必须大胆吸收和借鉴人类社会创造的一切文明成果，吸收和借鉴当今世界各国包括资本主义发达国家的一切反映现代化生产规律的先进经营方式、管理方法。

——邓小平：《在武昌、深圳、珠海、上海等地的谈话要点》（1992年1月18日—2月21日）

探究思考

1. 阅读下列材料，回答问题。

材料一：改革计划体制，首先要突破把计划经济同商品经济对立起来的传统观念，明确认识社会主义计划经济必须自觉依据和运用价值规律，是在公有制基础上的有计划的商品经济。

——《中共中央关于经济体制改革的决定》（1984年）

材料二：实践表明，市场作用发挥比较充分的地方，经济活力就比较强，发展态势也比较好。我国经济要优化结构，提高效益，加快发展，参与国际竞争，就必须继续强化市场机制的作用。实践的发展和认识的深化，要求我们明确提出，我国经济体制改革的目标是建立社会主义市场经济体制，以利于进一步解放和发展生产力。

——江泽民在中国共产党第十四次全国代表大会上的报告（1992年）

以上两段材料反映出中共中央在经济体制的认识方面有何重大突破？其意义是什么？

2. 登录中华人民共和国国家统计局网站，查阅1978—2000年国民经济和社会发展统计公报，列表比较1978年、1998年、2000年的国内生产总值，农村居民人均纯收入，城镇居民人均可支配收入数据，分析1978—2000年中国经济快速发展、人民生活明显改善的原因。

对外开放格局的形成

中共十一届三中全会作出改革开放的战略决策，揭开了中国对外开放的历史新篇章。中国对外经济开放，从创办经济特区起步，逐步向沿海、沿边和内陆城市扩展，到20世纪末，基本上形成了全方位、宽领域、多层次的对外开放格局。对外开放格局的初步形成，大大加速了中国的社会主义现代化建设。进入中国特色社会主义新时代，我国将进一步推动形成全面开放新格局。

经济特区的创办

十一届三中全会以后，中共中央和国务院决定在广东的深圳、珠海、汕头和福建的厦门创办“经济特区”，作为对外开放的“窗口”。1988年，正式建立海南省，并设立海南经济特区。

邓小平倡议创办经济特区

1979年4月，在中央工作会议期间，邓小平和广东省委主要负责人谈话，提出创办经济特区的建议。他说：“可以划出一块地方，叫特区。陕甘宁就是特区嘛。中央没有钱，要你们自己搞，杀出一条血路来。”不久，中共中央和国务院鉴于广东、福建两省靠近港澳，侨胞多，资源比较丰富，具有加快经济发展的许多有利条件，决定对两省对外经济活动实行优惠政策和灵活措施，给地方更多的自主权，使之先走一步，把经济尽快搞上去。1980年，中共中央和国务院确定，在深圳、珠海、汕头和厦门各划出一定区域，试办经济特区。

链接阅读

在经济特区，国家实行特殊的经济政策和管理体制。特区的建设资金，以吸引外资为主，并对外商投资在税收、土地使用、出入境管理等方面，给予特殊的优惠和方便；经营形式，以中外合资、中外合作、外商独资即“三资”企业为主，多种经济成分并存；产品销售，以外销为主；经济活动，以市场调节为主。由于实行特殊的经济政策和管理体制，这些特区吸引了大量外资，“三资”企业迅速崛起，成为外向型经济发展的“排头兵”。深圳在短短几年的时间里，由一个边陲小镇发展成一座繁华的现代化城市。

深圳经济特区

1979年3月，中共中央和广东省委决定，将原广东省宝安县改为深圳市。深圳市位于祖国南疆，东临大鹏湾，南接香港，西濒珠江口，北与东莞、惠州两市相邻，全市面积2020平方千米，其中经济特区327.5平方千米。深圳经济特区具有“四个窗口”^①和“两个扇面”^②的作用。通过窗口，中国人从深圳看到世界，走向世界；外国人从深圳看到中国，走进中国。通过扇面，让深圳起到枢纽作用，把中国和世界连接起来。



深圳新貌

沿海经济开放区的开辟

经济特区创设以后，在引进外资和先进的科学技术、管理经验，发展外向型经济方面，发挥了“窗口”的作用。1984年，中共中央和国务院决定开放天津、上海、广州等14个沿海港口城市^③，扩大这些城市开展对外经济活动的自主权，对前来投资的外商实行优惠政策，以便更好地利用外资和先进技术。在这些城市中，都设立经济技术开发区，实行经济特区的某些优惠政策，重点引进先进科学技术，集中兴办“三资”企业，建立外向型的工业区。

1985年以后，在沿海城市开放的基础上，国家决定将长江三角洲、珠江三角洲、闽南厦漳泉三角地区和环渤海地区相继划为沿海经济开放区。到1992年，沿海经济开放区从南到北已经连成一片，形成沿海开放地带。这对促进开放区经济的发展、带动内地的开发，产生了重大的影响。

1990年，中共中央和国务院正式宣布了开放和开发上海浦东的重大决策，要把浦东建成21世纪现代化上海的象征。浦东开放以后，凭借优越的

① “四个窗口”，即技术的窗口、管理的窗口、知识的窗口、对外开放政策的窗口。

② “两个扇面”，即对外开放的扇面、对内辐射的扇面。

③ 14个沿海港口城市：大连、秦皇岛、天津、烟台、青岛、连云港、南通、上海、宁波、温州、福州、广州、湛江、北海。

地理位置，人才、技术和管理优势，经过10多年的发展，已成为上海高科技产业和现代工业的新兴基地，成为中国20世纪90年代改革开放的重要标志。

浦东的崛起

浦东位于上海黄浦江东侧。它东临北濒长江，南临杭州湾，西靠黄浦江，面积约350平方千米，有着良好的建港和水运条件。改革开放以前，由于交通不便，经济远远落后于上海的浦西等区域，以致有“宁要浦西一张床，不要浦东一幢房”的说法。1990年宣布开发开放浦东新区以后，浦东迅速崛起。10多年的时间，就发展成为上海新兴高科技产业和现代化工业基地，国际经济、金融和贸易中心之一，呈现一派欣欣向荣的气象。



上海浦东新区远眺

对外开放格局的形成



中国沿海地区对外开放示意图

经济特区的创办和沿海地区开放以后，其影响力逐步向内陆省市和沿边地区扩展。1992年，中共中央和国务院决定开放长江沿岸的芜湖、九江、岳阳、武汉、重庆5个城市。至此，长江沿岸的中心城市全部对外开放。继沿江城市开放之后，中共中央和国务院又决定将开放城市扩展到全国各省区的省会（首府），批准合肥、南昌、长沙、成都等17个省会（首府）^①为内陆开放城市，并逐步实行内陆边境城市的开放。

经过40多年的改革开放，中国已基本建构起“经济特区—沿海开放城市—沿海经济开放区—沿

^① 17个省会（首府），即合肥、南昌、长沙、成都、郑州、太原、西安、兰州、银川、西宁、乌鲁木齐、贵阳、昆明、南宁、哈尔滨、长春、呼和浩特。

江和内陆开放城市—沿边开放城市”的开放体系，形成了全方位、多层次、宽领域的对外开放格局。

当前中国已经进入中国特色社会主义新时代，今后将以“一带一路”建设为重点，坚持引进来和走出去并重，遵循共商共建共享原则，加强创新能力开放合作，形成陆海内外联动、东西双向互济的全面开放新格局。

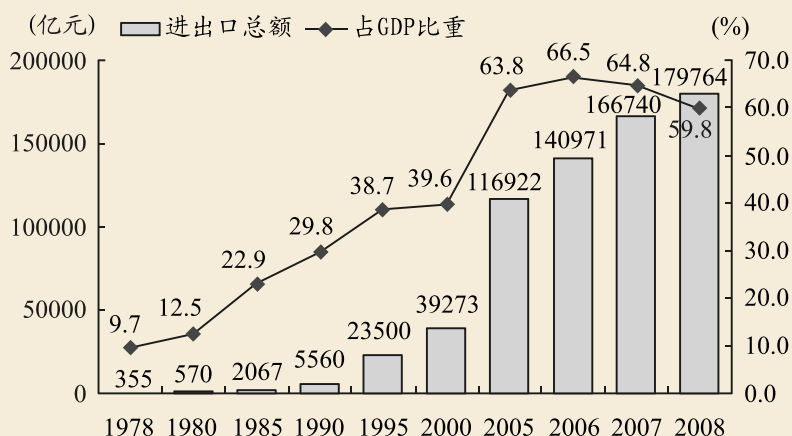
学术窗口

关于对外开放格局的探讨

关于中国对外开放格局，学术界有一些不同的见解。有的表述为“经济特区—沿海开放城市—沿海开放区—内地”，有的表述为“经济特区—沿海开放城市—沿海开放地带—内陆”，也有的表述为“经济特区—沿海开放城市—沿海开放地带—中西部地区”。

探究思考

1. 在地图上标绘经济特区，分析经济特区有哪些特点，在中国对外开放中起了什么作用。
2. 了解实行改革开放政策后深圳和浦东所发生的巨变，说明经济特区对全国经济发展所产生的影响。
3. 下图是我国“1978—2008年进出口贸易总额及其占国内生产总值(GDP)比重”示意图。



——中华人民共和国统计局网站

上图反映了我国经济发展的主要特点是什么？结合所学知识，分析其原因。

第四单元

中国近现代社会生活的变迁

中国近现代社会生活的变迁深刻反映了中国现代化的历程。16世纪以来，中西文明交汇碰撞。鸦片战争以后，在“欧风美雨”的不断冲击下，中国传统社会逐渐发生巨大变化。在社会生活上，西方的工业文明成果逐渐传入并改变着中国人的衣、食、住、行，电报、电话、报刊、电影等也陆续进入中国并被普通民众所认识。外来文化的传播和社会政治的变革，使得近代文明的元素不断增多，中国的传统观念与风俗习惯受到了深刻的影响。

中华人民共和国成立后，随着人民物质生活水平的逐步改善，新风尚和新观念不断成长，中国人民的精神面貌也焕然一新。中共十一届三中全会后，我国以经济建设为中心，坚持改革开放，更加注重民生。全国各族人民用自己的勤劳与智慧，全面建设小康社会，创造出丰富的物质文明，人民的衣、食、住、行有了根本改观，社会风尚与生活方式也发生着重大变化。

百年社会生活的变迁呈现出由传统向现代转型的趋势，体现了中外风尚不断交融的走向，成为中华民族伟大复兴历程的生动写照。

物质生活和社会习俗的变迁

在贫穷落后的旧中国，人民的物质生活极度匮乏。中华人民共和国成立后，特别是改革开放以来，社会稳定，经济高速发展，人民的衣、食、住、行等物质生活条件发生了巨大变化。进入21世纪，人民的生活总体上达到小康水平。这是社会主义制度的伟大胜利，是中华民族发展史上一个新的里程碑。

贫穷落后的旧中国

在半殖民地半封建的旧中国，社会经济落后，贫富悬殊。广大的劳动者粮食短缺，常年处于饥饿或半饥饿状态。战乱灾荒年月，灾民遍野，死亡人口动辄上百万。贫苦人家穿衣也很困难，不仅补丁摞补丁，而且多是父子相传，夫妻换穿。普通百姓的居住条件很差，一般城镇家庭住一两间小破房，农村家庭住在黑暗狭小的草棚、土坯房或窑洞里。除少数大城市外，人们没有照明用电，没有自来水；卫生医疗设备落后，传染病流行，中国人的平均寿命只有35岁。

丑恶的社会现实和贫穷困苦的生活，严重地扭曲了人们的思想，封建、迷信、愚昧、保守的社会习俗根深蒂固。

19世纪五六十年代以后，中国沿海沿江地区的大城市，出现了洋楼房、大马路、火车和汽车、电灯和电话，但主要是供洋人、富人和官府享用。大

“三毛”连环漫画

著名漫画家张乐平创作的“三毛”连环漫画，诞生于1935年，很快引起社会的普遍关注。画家笔下的“三毛”，经受着当时穷孩子的一切艰辛和痛苦。饥饿难耐时与狗争食，险些被咬。缺少衣服，不得不在身上绘T恤，应付警察的环境检查。为了微薄的收入，常干艰苦而危险的工作，有时还没有报酬。他经常遭受军、警、特、宪和地痞流氓的欺辱，却都能巧妙地应对，化险为夷，并惩罚恶人。1947年，连环漫画《三毛流浪记》汇编成册出版。“三毛”成为当时读者最熟悉的漫画人物之一。



蒋兆和《流民图》(局部)

量的工人、贫民只能住在“贫民窟”里；衣食无着的流浪者，则只能露宿街头。

辛亥革命以后，提倡移风易俗，男人剪掉辫子，女人禁止缠足，新式礼服取代清朝的官服官帽，人际间的称谓和婚丧嫁娶的礼仪也在发生变化。但是，贫穷落后的面貌仍然没有改变，社会生活仍处处充满着半殖民地半封建的色彩。

美好的新生活

中华人民共和国成立以后，社会稳定，经济发展，人民的生活水平也在逐步提高。但由于底子薄，人口多，人民的生活还不富裕。城镇居民的粮食和肉、菜等副食及布匹、棉花等，只能凭票证限量供应。广大农村，不少农民尚未解决温饱问题。人们生活简朴，吃的是粗茶淡饭，穿着的样式和颜色都比较单一。



中华人民共和国成立初期发行的粮票

改革开放以来，中国经济快速发展，城乡人民的生活有了明显改善。人们的穿着发生了根本变化，服装样式和面料琳琅满目。西装和夹克衫统领男装主流，裙服和旗袍成为时尚的女装。时装表演成为一道亮丽的风景，引导社会特别是青年人衣装的新潮流。

随着生产力的发展，粮食已基本实现自给，百姓的餐桌上的食物日益丰盛。传统的饮食结构正悄然发生变化，人们更讲究营养，注重合理的膳食结构。餐饮业快速发展，豪华饭店和大排档

歌颂美好的生活

中华人民共和国成立后，人民的社会地位提高，生活改善。尤其是改革开放以来，生活的改善更加显著。人们编成这样的顺口溜，概括改革开放以来生活的十大变化：鼓起来的钱袋子，降下来的恩格尔系数，精起来的饮食，长起来的寿命，大起来的住房，多起来的私人轿车，靓起来的衣着服饰，高起来的文化程度，热起来的假日旅游，快起来的通信方式。

哪些因素促进了人民生活水平的极大改善？



江苏省华西村的农民住宅

共存。中国八大菜系^①和西餐，逐渐被普通百姓所熟知。科学卫生的饮食习俗正在形成。食疗、药膳和滋补食品也进入寻常百姓家。

改革开放以来，城乡住宅建设持续快速发展，居住条件得到很大改善。城镇居民纷纷住进了设施较为齐全的单元楼房。农民更是纷纷告别土屋草棚，修建了宽敞的砖瓦房，甚至盖起漂亮的楼房。越来越多的农村安上电灯、电话，通上自来水，使用煤气、天然气或沼气，生活条件日渐与城市接近。

新社会的新习俗

中华人民共和国成立以后，特别是改革开放以来，随着生活条件的改善和文化教育的普及，人们的精神面貌发生了巨大变化。封建、迷信、愚昧、落后的旧习俗逐步消除，热爱社会主义祖国、勤劳节俭、艰苦奋斗、崇尚文明和团结互助等具有中国特色的社会主义新风尚正在形成，“八荣八耻”的观念深入人心。



全民健身运动

当代中国人的健康意识普遍增强，注意养成良好的生活卫生习惯，经常参加各种文娱体育活动。城乡人民的健康水平有了很大的提高，人均寿命已超过70岁。

广大妇女获得了解放，与男人一样就业工作。家庭结构发生了深刻变化，由大家庭向着小家庭发展。

链接阅读

中国城乡健身热潮

随着生活水平的不断提高，人们越来越重视健康。在大中小城市的公园、广场，经常可以看到人们健身的身影。就是在农村，一些富裕地区也可看到各种健身活动。许多医务人员到各地作保健报告，体育工作者深入基层作健身辅导，保健书刊在市场上颇为热销。

城乡健身热潮的出现说明了什么？

^① 中国八大菜系，指苏、鲁、川、粤、皖、湘、闽、沪系。

家庭融洽、尊老爱幼、邻里和睦、互帮互助等风尚得以弘扬。



农民组团境外旅游

传统的年节习俗，在继承中得到了新的发展，既保存优良的民族文化，又注意与世界接轨。政治节日与民俗节日并重，国庆和春节成为人们最看重的节日。普天同庆与家庭欢聚恰当地融为一体。节日生活丰富多彩，或阖家团聚，或外出旅游、购物，或健身、观看演出，还有很多人抓紧休息时间读书学习，充实自己。

探究思考

1. 以下是1875年李鸿章和日本驻华公使森有礼之间关于两国服饰改革的辩论片段。阅读这则材料，结合所学知识，回答问题。

李：对于今年来贵国所举，很为赞赏。独有对贵国改变旧有服装，模仿欧风一事感到不解。

森：其原因很简单，……我国旧有的服制，正如阁下所见，宽阔爽快，极适无事安逸之人，但对于多事勤劳之人则不完全合适，所以它能适应过去的情况，而于今日时势之下，甚感不变。今改旧制为新式，对我国裨益不少。

李：衣服旧制体现对祖先遗志的追怀之一，其子孙应该珍重，万世保存才是。……贵国舍旧服仿欧俗，抛弃独立精神而受欧洲支配，难道不感到羞愧吗？

——[日]实藤惠秀：《中国人留学日本史》

(1) 李鸿章和森有礼对服饰改革的观点有何不同？

(2) 你是否同意李鸿章对日本服饰改革的观点？为什么？

2. 调查自己家庭最近五年来的生活变化，填写下表，并分析变化原因。

家庭生活变化简表

| 年份 | 工资收入 (元) | 购买房屋 (元) | 购买家具 (元) | 购买电器 (元) | 衣食 (元) | 旅游 (元) |
|------|-------------|-------------|-------------|-------------|-----------|-----------|
| 2014 | | | | | | |
| 2015 | | | | | | |
| 2016 | | | | | | |
| 2017 | | | | | | |
| 2018 | | | | | | |

日益进步的交通和通信工具

1949年之前，中国的交通和通信非常落后，广大人民出行难，通信联系难。中华人民共和国成立后，经过半个多世纪的努力，基本实现了交通运输和通信工具的现代化。水、陆、空结合的立体交通网络四通八达，通信网络覆盖广大城乡，人们的生活也随之发生了深刻的变化。

交通运输的发展

19世纪70年代，外国商人擅自在中国修筑了上海至吴淞的铁路。这是中国境内的第一条铁路，不久被拆除。1909年竣工的京张铁路，由詹天佑主持设计，是中国第一条自建的干线铁路。1906年修建的镇南关（今广西友谊关）至龙州的公路，是中国的第一条公路。1872年创办的轮船招商局，是中国最早的近代水上交通运输企业。1920年，民国政府的中国航空公司开辟了北京至天津的航线，这是中国最早的民航线路。但是，由于受到经济条件的限制，旧中国交通运输的发展极为缓慢。到中华人民共和国成立前夕，中国大陆的铁路、公路、水运和空运通行总里程，都远远落后于世界的平均水平。新疆、西藏、青海等省区甚至没有一寸铁路。全国90%的货物靠人力和畜力运输，人们普遍感到出行难。



中国的第一条铁路——吴淞铁路

中华人民共和国成立后，特别是改革开放以来，交通运输的发展非常迅速，20世纪末基本上实现了交通运输的现代化。

铁路运输是中国最重要的运输方式。新中国成立后，先后修建了宝成、兰新等铁路，加强了内地和西北、西南地区的沟通。改革开放以来，国家加大了对铁路建设的投资。2006年青藏铁路建成通车，更使铁路网覆盖了大陆所有省、自治区、直



中国第一条高速公路——京津塘高速公路



世界上第一条投入商业运营的上海磁悬浮列车专线

辖市。许多铁路修建复线，实现了电气化。1997年以来，中国铁路干线实行几次大提速，大大提高了运行效率。

公路运输机动灵活，是中国重要的运输方式。中华人民共和国成立后，公路运输发展很快，已建立起覆盖全国的公路网。高速公路的建设更是成就辉煌，日新月异，总里程已位居世界第二。

改革开放以来，内河航运和远洋运输快速发展。远洋运输船队的船只总吨位位居世界第二。全国内河航运发展也很快，以长江、京杭运河和珠江航运最为发达。上海港已经发展成为世界第二大海港。

航空运输发展最为迅速。国内航线连接各个大中城市，国际航线可以直航世界许多国家的大城市。

城市交通也得到较快发展。各个城市都有方便的公共汽车连接市内各地段和附近的厂矿与村镇。为缓解城市交通的拥挤状况，北京、上海等地还修建了地下铁路、城市轻轨等。

交通运输的进步，是社会主义市场经济繁荣发展的基础。通过便捷的

中华人民共和国交通机械制造业的发展

1949年之前，中国不能生产汽车、飞机和远洋轮船，现代交通运输工具主要靠进口。1953年，第一汽车制造厂在吉林长春奠基。改革开放以来，汽车制造厂大量涌现，从载重汽车到小轿车都能大批量生产。铁路机车制造业取得突出成就，可以制造各种先进的内燃机车和电力机车，能生产多种先进的客运、货运和特殊车辆。船舶制造业已跃居世界前列，中国造的船舶航行在世界各个海域。飞机制造业健康发展，不仅能制造小型和中型客货运输飞机，还承担了波音等国际大公司的零部件生产。

中国的交通运输

中国的交通运输，以铁路、公路、内河与近海航运为主，其次为航空、管道运输。铁路网由哈大—京沈、京九、京广，北同蒲—太焦—焦枝—枝柳，宝成—成昆—昆河，成渝—川黔—黔桂等南北干线，京秦—京包—包兰—兰青—青藏，陇海—兰新，沪杭—浙赣—湘黔—贵昆，青烟—胶济—石德—石太—同蒲—侯西等东西干线组成。公路遍及全国各地，除西藏墨脱县以外都有国道和省道相连。主要的海港有大连、秦皇岛、天津、青岛、连云港、上海、宁波、厦门、湛江、海口等。机场遍布各大城市和一些旅游胜地，北京、上海、广州、昆明、厦门、大连、哈尔滨等很多城市还开辟有国际航线。

中国交通运输业的发展对国民经济和人民日常生活产生了什么影响？

运输网络，日益丰富的商品销往全国各地。国内生产的许多商品漂洋过海进入国际市场，在国内市场也随时能买到产自外国的商品。商品的运输和交流，把各地的人们与全国、全世界的发展紧密联系在一起。

交通运输的发展，开阔了人们的眼界，改变着人们的观念。生活和工作的节奏在加快，越来越多的人认识到“时间就是速度，速度就是效益”。方便的交通，使人们真正感受到市场经济和经济全球化的潮流。人们纷纷告别封闭的保守观念，迎接着新的挑战。

通信工具的进步

中华人民共和国成立之初，全国平均2000多人才有一部电话，以后的30年间虽逐年有所增加，但一直落后于世界平均水平。



用上了移动电话的牧民

改革开放以来，电信业以超常速度发展，到2002年全国电话用户总数已跃居世界第一位。过去的电话靠明线传输，一条线只能通过几路电话，接通率极低。现今采用地下光缆微波同轴传送，细如发丝的光缆可以同时传输两万路电话。卫星传输的电报、电话信号，基本不受地形、环境、气候等影响，通信畅通无阻。

交通和通信的现代化，使文化和信息的交流空前方便、快捷。人与人之间实现便捷、密切、多渠道的交流，极大地推动了思想观念和社会生活的变化。

链接阅读

改革开放以来电信业的飞速发展

改革开放以来，中国电信业飞速发展。到2002年年底，电话用户总数达到4.21亿户，跃居世界首位。2007年年底，全国电话用户达9.13亿户，固定电话每百人有27.8部，移动电话每百人有41.6部。已通电话的行政村比重达99.5%。移动通信的发展尤其神速，完成了从无到有的跨越，中国最终成为世界第一手机用户拥有国。2007年年底，移动电话用户已达到5.47亿户，在电话用户总数中所占的比重达到60%。移动电话从最初1万多元一部的笨重的“大哥大”发展到各式各样、小巧便宜的手机，由财富和身份的象征变成了普通百姓的通信工具。

探究思考

1. 阅读下列材料，回答问题。

二呀二郎山，高呀么高万丈。古树荒草遍山野，巨石满山冈。羊肠小道难行走，康藏交通被它挡那个被它挡。……二呀二郎山，满山红旗飘，公路通了车，运大军，守边疆，开发那富源，人民享安康……

——《歌唱二郎山》（歌词）

黄昏我站在高高的山冈，看那铁路修到我家乡，一条条巨龙翻山越岭，为雪域高原送来安康。那是一条神奇的天路喂！带我们走进人间天堂，青稞酒酥油茶会更加香甜，幸福的歌声传遍四方。

——《天路》（歌词）

根据材料，探讨一下康藏公路、青藏铁路的建成有何意义。

2. 调查本地区交通运输发展的情况，搜集相关材料，举办一次小型展览。

大众传媒的发展

近代以来，科技的进步，社会的前进，不断推动着大众传媒的发展。从印刷报刊到无线广播，从无声电影到彩色电视，再到计算机网络系统，大众传媒以越来越便捷的方式迅速地传递着大量信息，深刻地影响着人们的生活。

报刊业的发展

1840年鸦片战争前后，外国人开始在中国创办报刊。他们创办的第一份中文期刊是《察世俗每月统记传》，影响较大的有《中国丛报》《北华捷报》等。19世纪中期以后，上海等城市陆续出现由中国人充当编辑和主笔的报刊，最著名的是上海《申报》。这些报刊，使读者“足不逾户庭而周知天下之事”，对打破当时封建思想的禁锢起了很大作用。

中国新兴的政治派别，都重视发挥报刊舆论工具的作用。维新派通过《时务报》《国闻报》等宣传变法主张。资产阶级革命政党同盟会创办了《民报》，宣传三民主义纲领。新文化运动和五四运动期间，先进知识分子创办的《新青年》《每周评论》等报刊，宣传科学与民主，介绍马克思主义。在新民主主义革命期间，中国共产党先后创办了《向导》《红旗》《新华日报》

最早的报纸——邸报

国外学者认为，最早的报纸是古罗马军事统帅恺撒创办的《每日纪闻》，即一种传递紧急军情的官报，但它只发行很短时间就停办了。其实，中国西汉的邸报，才是世界上最早的报纸。西汉各郡国在首都设立“邸”，即驻京办事机构，任务是在中央和地方政府之间做联络工作。他们定期把皇帝的诏书及宫廷的大事等写在竹简和绢帛上，用快马传送到地方长官手中。邸报由此产生。东汉以后，邸报用纸张抄写。现存最早的邸报是唐僖宗光启三年（887）的《进奏院状》，原藏敦煌藏经洞，后被英国人掠走，现保存于英国大不列颠图书馆。

根据材料，指出邸报的主要功能是什么，谈一谈今天的报刊还有哪些功能。



品种多样的报刊

等报刊，宣传民主革命主张，为争取革命的胜利发挥了重大的历史作用。但总的来说，旧中国新闻出版业很不发达，1949年全国公开发行的报刊只有140多种。

新中国成立以后，新闻出版业迅速发展。从中央的《人民日报》《光明日报》《解放军报》《人民文学》到多种地方报刊层出不穷。这些报刊积极宣传党和国家的路线、方针和政策，关注人民生活，内容非常充实丰富。

改革开放以来，新闻出版业更呈现欣欣向荣的景象。除党报、党刊继续发挥主导宣传作用外，还涌现许多专业性、娱乐性的报刊。这些报刊，既注意市场的需求，又注意新闻报道的真实性、客观性和时效性，并普遍扩大信息量，以吸引更多的读者。

广播影视业的兴盛

20世纪20年代，上海出现了中国最早的广播电台。以后若干年间，广播事业虽有所发展，但覆盖面非常有限。新中国成立以后，建立起中央、省、市（地区）、县各级广播电台，在基层普遍设立广播站。改革开放以来，广播事业又有新的发展。2000年，全国有304座广播电台，覆盖了全国人口的92.47%。

中国的电影事业开始于1905年。第一部无声电影是京剧《定军山》。20世纪20年代，电影逐步发展成熟。中国首部在国际上获奖的影片是《渔光曲》。此后，许多反映抗日战争的优秀影片，如《风云儿女》《一江春水向东流》《八千里路云和月》等不断出现，大批编剧、导演和演员也伴随电影业的发展成长起来。



电影《大决战》剧照

中华人民共和国成立以后，电影事业飞速发展，工农兵生活和革命战争题材被大量搬上银屏，涌现出《渡江侦察记》《林则徐》《祝福》《大闹天宫》《李双双》等优秀影片。

改革开放以来，电影事业进一步走向辉煌。弘扬主旋律的《西安事变》《大决战》《抉择》等影片受到普遍好评。反映普通百姓日常

生活的影片，同样拥有大量的观众。美术片、科教片、新闻片和译制片也出现一批佳作。许多优秀影片多次在国内外获奖。

电视出现的时间较晚。1958年北京电视台开始试播，这是中国电视事业的开端。后来，北京电视台被定名为中央电视台（CCTV）。各直辖市、省、自治区和市（地区）、县也相继建立电视台。电视机的品种越来越多，性能也越来越好，从黑白到彩色，从小屏幕到高清晰度大屏幕。电视带给人们高质量的文化享受。

中国电视业的兴起和发展

1958年5月1日晚上7点钟，中央电视台的前身北京电视台开始试播，标志着中国电视业的诞生。接着，上海电视台于1958年10月开播，哈尔滨电视台于同年12月建成并试播。1959—1961年，天津、广东、吉林等电视台先后开播，陕西、辽宁、山西、江苏、浙江、安徽、山东、湖北、四川、云南等地也相继建立了电视台。1978年，拥有电视机的家庭占全国总户数的2%，只有8000万观众，电视节目也比较单调。改革开放后，随着人民生活水平的提高，电视逐渐普及，至1987年，拥有电视机的家庭占全国总户数的47.8%，观众总人数达到6亿，到2003年已跃增至10.7亿。与此同时，各电视台纷纷采用卫星传送技术。1985年8月，中央电视台租用国际通信卫星向全国传送电视节目。1988年4月，中国发射的第三颗通信卫星开始传送中央电视台的节目。后来，很多电视台都设立了卫星频道，并增设有有线电视，电视节目由原来的几个频道增加到上百个频道，人们选台的余地越来越大。

依据材料，分析哪些因素促进了电视业的发展。



一年一度的春节联欢晚会

电视节目集普及性与通俗化、娱乐性与游戏化、复制性与程式化、消费性与商业化于一体，是当代家庭文化生活不可或缺的组成部分。其中，以新闻节目的收视率最高，关注社会焦点的节目最贴近人心，体育、科技、生活、健康、旅游等节目也保持较高的收视率。除夕之夜，中央电视台的春节联欢晚会，成为全国人民和海外华侨、华人的文化大餐。

互联网的崛起

1994年中国正式接入国际互联网。2000年，全国上网用户达到2000



高等学校的多媒体阅读室

万。到2008年2月，网民人数更增至2.21亿，居全球首位。中国已成为互联网使用大国。

互联网是继报刊、广播、电视之后的又一大众传媒。它将三者的优势集于一体，使信息的传递和反馈迅速实现。用户可以上网聊天，参与各种问题的讨论，发布信息，也可在网上查阅资料、浏览新闻、接受远程教育、传递电子邮件、观看电影和电视、收听音乐和广播、购物等。互联网的崛起，正在深刻地改变着人们的生产、学习和娱乐方式。

链接阅读

信息技术发展的趋势

中国著名科学家周光召认为，由信息上升为知识，由知识上升为智慧和决策，是人类认识必经的过程。信息的远距离即时传播，使得个人、地区和全球紧密相连。网络信息社会向统一的IP核心网演化是21世纪的大趋势。网络将推进高效服务。信息科技还将在新的领域发展。快速发展的信息科技将带来生产模式的变化。

结合个人的生活和学习，谈一谈你对网络信息的认识。

探究思考

1. 阅读下列材料，回答问题。

与书本不同，视听音像制品会制约人的想象力，钝化敏感性，产生消极思想。……音像的冲击力始终不如书本对人的精神产生的影响。

——[美]杰克·富勒：《信息时代的新闻价值观》

与书本报刊相比，电视、电影等媒体有哪些优、缺点？请结合身边的事实，探讨它们之间的关系。

2. 举办“传媒的足迹”小型展览。内容选择：(1)个人收藏的各种报纸和刊物；(2)各时期不同类型的收音机和广播匣；(3)电视机的使用说明。

第五单元

资本主义世界市场的形成和发展

资本主义世界市场的形成和发展,是一个漫长的历史发展过程,也是西方国家凭借其优越的物质文明成果,在向全世界拓展过程中建立的一种国际经济格局。

商品货币关系的发展和资本主义生产关系的萌芽,开启了历时近一个世纪的“大航海时代”。新航路的开辟,使人类开始从一个彼此隔离的分散世界走向一个“多元相关”的整体世界。紧随其后的早期殖民和殖民争霸,使亚非拉等地区成为西方疯狂掠夺金银财货和获取廉价原料的狩猎场。与此同时,全球贸易范围空前扩大和商品流通数量、品种急剧增加,使世界市场开始形成。

18世纪60年代发生的工业革命,进一步刺激了西方国家对这些地区的原料需求和商品销售,同时,也增强了他们征服世界的物质力量。西方国家以大机器生产和现代工厂制为后盾,以坚船利炮为先导,以商品输出为手段,将亚非拉地区纳入到资本主义世界体系之中。第二次工业革命后,在资本全球扩展和瓜分世界的狂潮中,一个以西方为主导的世界市场最终形成。

世界市场的形成与发展,是一个世界日益整体化的过程,也是一个东方在经济上日益从属于西方的过程。

新航路的开辟

从15世纪末开始，葡萄牙人和西班牙人为了追求海外财富，率先踏上通往世界各地探险的旅途。他们的探险活动拉开了“地理大发现”的序幕。由此，从欧洲到非洲、亚洲以及美洲等地的新航路陆续被开辟出来，欧洲的商人开始直接同世界各地建立商业联系，以西欧为中心的资本主义世界市场的雏形开始出现。

新航路的开辟

14世纪，资本主义萌芽在地中海沿岸各地依稀出现。随着封建制度的解体和商品经济的发展，黄金和白银日益成为财富的标志。一股拜金主义热潮在欧洲迅速兴起。意大利旅行家马可·波罗的著作《马可·波罗行纪》，把东方特别是中国描绘成繁华富庶的人间天堂。它的流传，更激起欧洲人对东方的向往。

链接阅读

《马可·波罗行纪》

意大利旅行家马可·波罗（约1254—1324），出身于威尼斯商人家庭。1271年，他随父亲、叔父从地中海东岸出发，沿着古代的丝绸之路，经叙利亚、两河流域、伊朗高原、中亚细亚，翻越帕米尔高原，于1275年5月到达元朝上都。马可·波罗深得元世祖信任，在元朝为官达17年之久，还多次奉命巡视外省，并充当元朝使者前往缅甸、南洋和印度等地。马可·波罗于1295年返回威尼斯，在威尼斯与热那亚的战役中被俘。他在狱中口述东方见闻，由同狱人笔录成书，这就是《马可·波罗行纪》。

《马可·波罗行纪》在西欧的流传对新航路的开辟产生了怎样的影响？

古代东西方交通的海路原先控制在阿拉伯人和意大利人手里。13世纪末到15世纪，奥斯曼土耳其攻占君士坦丁堡、巴尔干半岛等地区，控制了东西方之间的商路。寻找一条绕开土耳其人控制的地区前往东方的新航路，成为西欧人的迫切愿望。



中世纪航海用的星盘



达·伽马 (约 1460—1524)

15 世纪, 由于罗盘的使用、航海和造船技术的发展, 利用多桅帆船进行远洋航行的条件已经具备。葡萄牙和西班牙濒临大西洋, 其专制君主为了获得海外财富, 都积极资助海外探险活动。这两个国家便成为新航路最早的开拓者。

15 世纪初, 葡萄牙人开始在非洲西海岸进行探险活动, 为后来新航路的开辟奠定了基础。1487 年, 葡萄牙航海家迪亚士率领船队沿非洲西海岸南下, 第二年春天进入印度洋, 归途中意外地发现非洲南端的尖角——好望角。1497 年, 葡萄牙贵族达·伽马率领船队绕过非洲, 进入印度洋。然后在阿拉伯航海家的带领下, 从非洲东海岸向东航行, 到达印度的卡里库特。他的船队满载香料、宝石、丝绸回国, 获得了相当于航行费用 60 倍的高额利润。

西班牙人也在酝酿和筹划着向西航行的计划。具有航海经验和技能的热那亚水手哥伦布坚信地圆说, 确信向西航行能够到达印度。1492 年, 哥伦布在西班牙王室的支持和资助下, 率领 3 艘帆船横渡大西洋。经过两个多月的航行, 到达巴哈马群岛, 然后向西南行驶, 到达古巴、海地等岛, 在那里建立了最早的殖民据点。后来, 哥伦布又 3 次西航, 到达中、南美洲一带。哥伦布直到去世, 都以为他所到达的地方是印度, 因此称当地居民为印第安人, 即印度人。

1519 年, 受西班牙人的支持, 葡萄牙人麦哲伦率领一



哥伦布 (1451—1506)



哥伦布到达美洲

教皇子午线

1492年，哥伦布航海的消息在欧洲传开后，引起了强烈反响。为了避免新攫取到的土地和财富引起国际争端，天主教会教皇亚历山大六世于1493年5月发布训谕，以佛得角以西100里格（1里格约为6千米）的子午线（又称作“教皇子午线”）为界，划分势力范围，规定子午线以西属于西班牙，以东属于葡萄牙。1494年6月，西班牙和葡萄牙签订了一个条约，按教皇子午线对世界进行殖民划分。

教皇子午线的实质是什么？



麦哲伦（1480—1521）

支260多人的船队进行环球航行。他从西班牙出发，横渡大西洋，沿南美洲东海岸南下，绕过南端的海峡，进入另一个大洋。那里风平浪静，他们称之为太平洋。他们继续向西航行，一路上克服了疾病、叛变、暗礁、饥饿等艰难险阻，抵达菲律宾。麦哲伦因为干涉当地的内争，被土著居民杀死。剩下的18人凭借仅存的一艘船，穿越印度洋，绕过好望角，于1522年9月回到西班牙。麦哲伦及其船队历时3年，完成了人类历史上第一次环球航行的壮举，用航海实践证明了地圆学说。

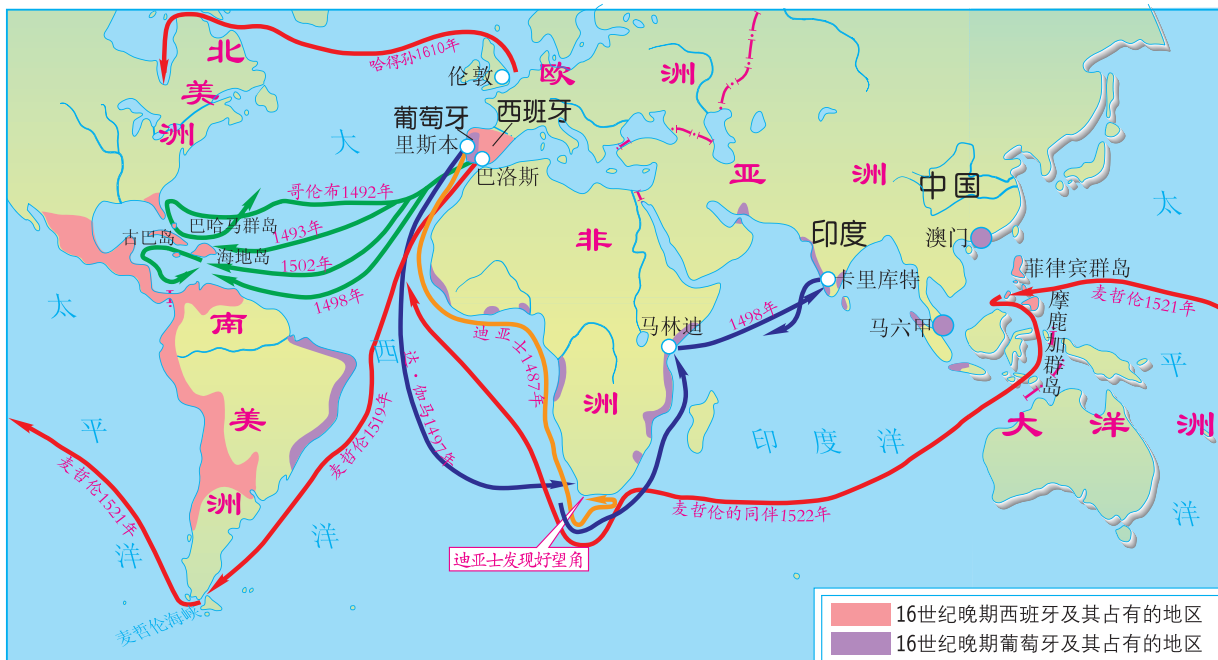
“美洲”名称的由来

意大利航海家亚美利哥·韦斯普奇曾为哥伦布的航行准备过船只，并与哥伦布结识。1499—1504年，他多次参加西班牙人组织的探险活动，实地考察了哥伦布航行到达的地区。1503年，亚美利哥在给一位熟人的信中指出，他探险所到的地区不是旧大陆，而是新大陆。这封信被刊印后广泛流传。1507年，一位地理学家绘制新的世界地图，就把这块新大陆称为“亚美利加洲”，简称为“美洲”。

分析哥伦布发现美洲的历史意义。

新航路开辟的后果和影响

继葡、西两国开辟新航路之后，荷兰、俄国、英国和法国也纷纷组织航海探险活动，开辟了从欧洲前往世界各地的航路。随着新航路的开辟，欧洲人发现和探索了他们从前不曾知道的大片陆地和水域。他们把这个过程，



新航路开辟和早期殖民扩张示意图



新航路开辟时代的葡萄牙里斯本港



踏入美洲的西班牙殖民者正在进行掠夺

称为“地理大发现”。

新航路的开辟，把分散孤立的世界各个地区连为一体，使商品交易的范围空前扩大。美洲的烟草、可可、玉米，非洲的咖啡、珍珠、宝石，中国、印度等亚洲国家的丝绸、瓷器、茶叶、香料等，都成为国际贸易中的重要商品。欧洲的商人开始直接同世界各地建立商业联系，以西欧为中心的资本主义世界市场的雏形开始出现。

新航路的开辟，使欧洲发生了重大的社会变革。欧洲的商业重心开始从地中海区域转移到大西洋沿岸。近代资本主义社会的一些经济机构，如证券交易所、航运保险公司等，开始在欧洲一些主要城市发展起来。欧洲殖民者疯狂地展开殖民掠夺，把掠夺到的贵金属和各种财宝运回国内，货币流通量急剧增加，商品价格飞速增长。从事商品生

产和贸易的资产阶级实力不断上升，依靠固定地租为生的封建地主地位日益下降。这样，欧洲封建制度的解体和资本主义的发展大大加速了。

探究思考

1. 结合课本中的《新航路开辟和早期殖民扩张示意图》，讨论迪亚士、哥伦布、麦哲伦的航海活动对新航路开辟的贡献。
2. 新航路的开辟对资本主义的世界市场的形成有什么意义？
3. 阅读下列材料并结合所学知识，回答问题。

美洲的发现、绕过非洲的航行，给新兴的资产阶级开辟了新天地。东印度和中国的市场、美洲的殖民化、对殖民地的贸易、交换手段和一般商品的增加，使商业、航海业和工业空前高涨，因而使正在崩溃的封建社会内部的革命因素迅速发展。

——马克思、恩格斯：《共产党宣言》

你认为应该如何理解这段话？

殖民扩张与掠夺

随着欧洲人在全世界探险活动的开始，殖民扩张和掠夺也就开始了。通过几个世纪的殖民扩张，西欧列强将亚洲、美洲及非洲沿海地区变为殖民地或半殖民地。它们通过对殖民地、半殖民地的直接掠夺，进行资本的原始积累，促进了本国资本主义生产的发展，同时又把殖民地、半殖民地变成本国工业品的销售市场和原料的供应地，使世界各地建立起稳定的经济联系，推动着世界市场的迅速拓展。

“海上马车夫”的殖民扩张



荷兰殖民者在孟加拉建立的贸易站

16世纪下半叶，荷兰经过资产阶级革命，摆脱了西班牙的统治，工商业迅速发展。17世纪是荷兰的“黄金世纪”，航海业和造船业尤为发达。荷兰商船队拥有1.5万艘船只，还有强大的海军舰队护航，控制了波罗的海和印度、美洲的贸易。荷兰人因而有“海上马车夫”之称。

荷兰凭借强大的海上力量，大肆进行殖民扩张，占领了广阔的海外殖民地。1602年，荷兰东印度公司成立。它不但资本雄厚，垄断了对亚洲的贸易，而且享有招募军队、与土著首领签订条约等权力。1621年，又建立西印度公司，垄断对美洲和非洲的贸易。17世纪中叶，荷兰用武力从葡萄牙手中夺取了南非好望角、锡兰（今斯里兰卡）、印度沿海的一些据点、马六甲以及印度尼西亚的一些岛屿。在北美洲东岸，荷兰建立了殖民地新阿姆斯特丹。在远东，它还曾强占中国的台湾，直到1662年才被郑成功领导的中国东南沿海人民赶走。

荷兰殖民者残酷奴役和掠夺殖民地人民，通过贱买贵卖和不等价贸易，为资本的原始积累创造了有利条件，促进了经济的繁荣。荷兰的阿姆斯特丹成为17世纪国际贸易和金融信贷业务的重要中心。

“日不落帝国”的殖民掠夺



英国打败西班牙“无敌舰队”

从16世纪中期开始,英国积极进行海外探险与扩张。大批英国海盗船在政府的默许和支持下,经常劫掠西班牙和葡萄牙的商船。1588年,英国强大的海军舰队打败西班牙的“无敌舰队”,殖民扩张由此进入一个新的阶段。

英国的殖民扩张与掠夺,是与东印度公司紧密联系在一起的。这个公司成立于1600年,拥有英国女王伊丽莎白一世授予的贸易

垄断权。它在英国政府的支持下,先在印度沿海地区建立了一系列贸易站和据点,然后不断向印度内地扩张。到17世纪末,东印度公司在印度已经组织起军队,并建立了政权,俨然是印度的国中之国。1757年,英国强占了孟加拉。19世纪中叶,印度已经完全沦为英国的殖民地。东印度公司通过洗劫印度宫廷和国库,强征田赋,垄断贸易,勒索贡赋,对农民、手工业者实行奴役,掠夺了无数的财富。此外,还通过对波斯湾沿岸、东南亚各国和中国进行鸦片贸易,攫取了巨额的利润。

18世纪后期至19世纪初期,英国与荷兰为控制马六甲海峡进行了长期

英国东印度公司

英国东印度公司总部设在伦敦,在女王伊丽莎白一世的特许下,垄断好望角以东及马来群岛的贸易。随着英国工业资产阶级势力的强大,国内要求实行自由贸易的呼声越来越高。1858年,英国议会宣布撤销英国东印度公司。

英国东印度公司占领孟加拉后,洗劫了孟加拉国库,抢劫的财宝价值3700万英镑,另有2100万英镑落入公司职员的腰包。殖民头目克莱武一人就抢去20多万英镑和无数珍宝。他后来曾在英国国会下院无耻地自白:“富裕的城市在我脚下,雄强的国家在我手中,满贮金银珍宝的财宝库在我眼前。我统共拿了20万英镑。直到现在,我还奇怪那时为什么那样客气。”在1757—1815年的58年间,英国从印度总计榨取了10亿英镑的财富。

英国东印度公司在近260年间的对外掠夺过程中带来哪些直接的后果?



英国东印度公司的纹章

的争斗，最后英国取得了胜利，并将印度、马来半岛作为自己的势力范围。19世纪中期，英国等西方列强通过两次鸦片战争使中国逐渐沦为半殖民地国家。



1607年英国移民在北美建立的詹姆士城

从17世纪初开始，英国在北美洲东岸先后建立13个殖民地，在南部殖民地建立了使用黑人奴隶劳动的种植园，并对殖民地生产的烟草、砂糖、棉花等产品实行贸易垄断。英国还在西非海岸建立殖民地，进行奴隶贸易。英国的利物浦、伦敦、布里斯托尔等城市，都是由经营奴隶贸易而繁荣起来的。

第一次世界大战前夕，英国殖民地面积多达3350万平方千米，人口近4亿。经过几个世纪的扩张，英国建立起了一个势力范围遍布全球的殖民大帝国，号称“日不落帝国”。

世界市场的拓展



黑奴在种植园蔗糖碾磨厂干活

经过几个世纪的殖民扩张，西欧列强将亚洲、美洲及非洲变为殖民地或半殖民地。它们对殖民地展开直接掠夺，实行贸易垄断，促使世界各地建立起经常、稳定的经济联系。

在美洲，随着采矿业和种植园经济的发展，劳动力的供求矛盾日益突出。当地成千上万的土著印第安人，不是被屠杀，就是被赶往偏僻贫瘠的山区或荒漠。为了满足对劳动力的大量需求，欧洲殖民者将非洲黑人掠卖到美洲，奴隶贸易应运而生。

西方殖民者把数以千万计的非洲黑人运到美洲，卖给当地的奴隶贩子或种植园主，充当奴隶。再从美洲购买蔗糖、烟草等物品，运回欧洲销售，形成大西洋的“三角贸易”。这场罪恶的奴隶贸易，持续了近400年之久。西方殖民国家从奴隶贸易中获取的高额利润，成为资本原始积累和后来工业革命的重要资金来源。

大西洋的“三角贸易”，将欧洲、非洲、美洲三大洲联系在一起，形成大西洋市场。同时，欧洲列强又相继侵入亚洲，把亚洲的香料、丝绸、茶叶等产品贩往欧洲，将欧洲的棉纺织品等贩往亚洲，在亚洲形成了东方市场。大西洋市场和东方市场通过欧洲联系在一起，从而推动着资本主义世界市场的进一步拓展。

链接阅读

大西洋的“三角贸易”

大西洋的“三角贸易”，是近代西欧国家以贩卖奴隶为中心的贸易。奴隶贩子的船只从欧洲出发，满载各种工业品，从枪支弹药、纺织品、器皿、装饰品、烟草、杜松子酒，到最廉价的玻璃珠子。运到非洲海岸贸易据点后，他们把这些东西卖掉，再把买来的奴隶装运上船，运往美洲高价卖出。然后购买当地的烟草、糖和棉花等工业原料，运回欧洲贩卖。往返一次的利润，即高达几十倍甚至几百倍。当时英国上自王室、高官，下至平民百姓，都趋之若鹜，有许多城市如利物浦、布里斯托尔和伦敦，都因贩奴而兴盛。当时有人说，利物浦街头的每一块砖上都沾满了奴隶的鲜血。奴隶贸易从16世纪开始，持续了近400年之久，到19世纪末才逐渐停止。

为什么黑奴贸易会盛行于15—19世纪的近400年间？

探究思考

1. 荷兰和英国的殖民扩张与掠夺方式有什么共同特点？
2. 结合课文，说明殖民扩张与掠夺对拓展资本主义世界市场的作用。
3. 阅读下面材料，谈谈你对这段话的理解。

美洲金银产地的发现，土著居民的被剿灭、被奴役和被埋葬于矿井，对东印度开始进行的征服和掠夺，非洲变成商业性地猎获黑人的场所：这一切标志着资本主义生产时代的曙光。这些田园诗式的过程是原始积累的主要因素。

——马克思：《资本论》第1卷

欧美的工业革命

近代以来，欧美发生了两次工业革命。第一次工业革命使西方主要资本主义国家实现了工业化，成为机器制造业的中心，使亚洲、非洲和拉丁美洲进一步沦为殖民地和半殖民地，成为农副产品、原料的供应地和工业品的销售市场。一个以欧美资本主义国家为主导的世界市场基本形成。第二次工业革命使西方主要资本主义国家实现了高度工业化，从自由资本主义过渡到垄断资本主义，掀起瓜分世界的狂潮。以欧美资本主义国家为主导的资本主义世界体系最终建立起来。

第一次工业革命

从18世纪60年代开始，持续到19世纪的工业革命，又称“产业革命”。这是资本主义生产从工场手工业过渡到机器大工业的变革过程。

英国最先具备了工业革命的政治、经济和技术条件，成为第一次工业革命的故乡。17世纪资产阶级革命的开展和君主立宪政体的确立，为工业革命提供了政治保障；自15世纪开始的圈地运动，迫使大量农民离开土地，成为产业工人的后备军；几个世纪的对外掠夺和奴隶贸易，使英国完成了资本的原始积累；那时候，英国的工场手工业生产已经达到很高的水平，为新技术的采用和发明提供了坚实的基础。

英国的圈地运动

新航路的开通和新大陆的发现，使英国的对外贸易迅速增加，刺激了养羊业和毛织业的发展。地主和贵族纷纷用篱笆、栅栏把农民的份地和公有地圈占起来，开办牧场，大规模养羊，以获取羊毛，卖出赚钱。大批农民丧失了土地，成为流浪者，有的进入工厂，成为雇佣劳动者。有人说这是“羊吃人”的运动。圈地运动是用暴力剥夺农民土地的过程，是英国资本原始积累的重要手段。

从15世纪开始的圈地运动对英国工业革命产生了什么样的影响？

英国的工业革命，首先从棉纺织业开始。1733年，技工凯伊发明了飞梭，使织布效率提高一倍。1765年，织工哈格里夫斯发明珍妮纺纱机，提高了纺



珍妮纺纱机



瓦特蒸汽机

纱工效。后来，水力纺纱机、水力织布机都相继被发明出来，开始出现纺纱工厂和织布工厂。机器生产取代手工劳动，使工业生产出现了革命性变化，第一次工业革命开始了。1782年，格拉斯哥大学的机械师瓦特在吸收前人成果的基础上，研制出可作为机器动力的联动式蒸汽机。1784年，英国建立第一座蒸汽纺纱厂。不久，蒸汽机推广到采矿、

冶金、印刷等其他工业部门。蒸汽机的使用，解决了大工业所需的动力问题，极大地推动了工业革命的发展。

纺织机械和蒸汽机的广泛使用，使煤和铁的需求量急剧增加，促进了采煤业、冶铁业的技术革新和交通工具的变革。1814年，英国工程师史蒂芬孙制造出改良的蒸汽机车；1825年，英国修建了第一条铁路，蒸汽开始成为人类交通运输的动力。机器制造业的诞生，改变了整个工业生产的面

法、美、德的工业革命

法国工业革命开始于18世纪末，19世纪初迅速发展，到19世纪中期完成。第二帝国时期，全国铁路网基本建成。1870年，法国的生铁与钢的产量已跃居世界第二位，仅次于英国。

美国独立后，很快便向西部扩张，掀起“西进运动”，它为美国工业革命提供了原料和动力。18世纪末，美国工业革命开始。1807年，美国人富尔顿发明了利用蒸汽作动力的轮船“克莱蒙”号，并试航成功。后来，轮船不断改进，航速大大提高。1819年，“萨凡”号轮船仅用29天就横渡了大西洋。到19世纪50年代末，美国基本完成了工业革命。1869年，建成了第一条横贯美国大陆的铁路线。

19世纪30年代，政治上长期分裂的德国开始缓慢地走上工业革命的道路。到19世纪80年代，工业革命已基本完成。

比较法、美两国工业革命的主要相同点，并分析影响德国工业革命的最主要原因是什么。



1869年，美国建成第一条横贯美国大陆的铁路

貌，标志着英国工业革命的基本完成。1840年前后，英国的大机器工业基本取代了工场手工业，英国成为当时工业最发达的国家，被称为“世界工厂”。

在输入英国机器的基础上，法国、美国和德国等国也都进行了工业革命。通过工业革命，欧美国家相继确立了近代工厂制度，实现了资本主义工业化。

第二次工业革命

19世纪70年代至20世纪初，西方主要资本主义国家发生了第二次工业革命。在第一次工业革命中，许多技术革新来源于工匠的实践经验。第二次工业革命的大部分技术发明则来源于科学实验室，实现了科学理论与技术革新的真正结合。这次工业革命，是以电力工业的发展为主要标志，以德国和美国为中心而展开的。



19世纪末柏林的发电厂

在电磁理论的指导下，电力技术得到广泛的开发和利用。1866年，德国发明家西门子研制直流发电机成功。19世纪70年代，电动机问世，电力开始用于带动机器。发电机和电动机的诞生，使电力成为取代蒸汽动力的一种新能源。19

西门子

西门子在任普鲁士炮兵军官时，就醉心于电力的研究，1849年退役后，与人合作创办“电报机制造所”，成功地架设了电报线路。但电报所需的电源是通过化学途径（电瓶）获得的，能量小，难以驱动需要较大能源的设备和工作母机。西门子进一步研究后，于1866年制成大功率直流发电机。这样，西门子首次完成把机械能转化为电能的发明。西门子的电气公司成为当时世界的电业巨头之一。

西门子研制的直流发电机对于第二次工业革命有什么重要意义？



20 世纪初美国福特汽车制造厂



1903 年，莱特兄弟进行飞行试验

世纪 70 年代后，美国人贝尔和爱迪生分别发明了电话和电灯、留声机、电影摄影机，而后无线电的发明和电报电话公司的相继成立，极大地改变了人类的生产和生活方式。电力作为一种新能源被广泛应用，人类社会从蒸汽时代进入了电气时代。

19 世纪七八十年代，使用煤气和汽油作燃料的内燃机问世。内燃机的发明，引起了交通运输业的巨大变革。德国人卡尔·本茨和戴姆勒，分别独立研制出使用汽油内燃机驱动的世界最早的汽车。汽车发明传到美国后，福特等人又对汽车进行改进，大力发展汽车生产，使美国成为“汽车王国”。后来，美国人莱特兄弟发明的飞机试飞成功。汽车和飞机成为新的交通工具，大大方便了人们的出行。

1867 年，瑞典人诺贝尔在前人研制的烈性炸药的基础上，研制出安全炸药，从而推动了化学工业的迅速崛起。许多化学物质被从煤和石油中提炼出来，并被作为原料制成染料、塑料、药品、炸药和人造纤维等，大大丰富了人类的生活。

诺贝尔奖的由来

诺贝尔（1833—1896）是瑞典化学家。1867 年他研制出安全炸药。后来，又研制出爆炸力更强的无烟炸药。诺贝尔在经营炸药生产中积累了巨额财富。他临终前留下遗嘱，将一部分遗产共 920 万美元作为基金，每年用它的利息奖励在物理学、化学、生理学或医学、文学、和平 5 方面作出杰出贡献的人士，这就是诺贝尔奖。该奖从 1901 年起，每年在诺贝尔逝世日 12 月 10 日颁发。从 1968 年起，又增设经济学奖。

资本主义世界市场的建立与扩大

工业革命既是生产技术的巨大革命，同时也是生产关系的深刻变革。第一次工业革命既促进了生产力水平的迅速提高，同时也造就了工业资产阶级和工业无产阶级。

第一次工业革命，使机器大工业生产代替了手工劳动，产量大幅度提高，产品销售要求有更广阔的世界市场；国内的原料也已无法满足工厂的



19世纪末，美国最大的荷摩斯特钢铁厂

需要，要求由世界各地来提供。蒸汽机车和轮船的发明，大大改善了交通运输的条件，使世界各地的联系更为方便。欧美资产阶级便凭借强大的经济和军事实力，在亚洲、非洲和拉丁美洲建立殖民地或半殖民地，把它们变为自己的产品销售市场和原料供应地。越来越多的地区被纳入资本主义世界市场之中。到19世纪中后期，一个以欧美资本主义国家为主导的世界

市场基本形成。

第二次工业革命不仅促进了生产力的巨大增长，而且加速了生产和资本的集中，催生了垄断组织。19世纪末20世纪初，主要资本主义国家都已出现垄断组织，开始从自由资本主义阶段向垄断资本主义即帝国主义阶段过渡。

第二次工业革命使生产力得到飞速发展。许多新型的交通工具和通信手段的出现，又使交通运输和通信联络变得更为便利。世界各地的经济联系更加密切，世界市场进一步发展。与此同时，垄断组织为了攫取高额利润，要求垄断生产和市场。于是，欧美列强便掀起瓜分世界的狂潮。19世纪末20世纪初，世界已基本被瓜分完毕，亚洲、非洲和拉丁美洲等广大地区基本上沦为殖民地或半殖民地，成为资本主义列强输出商品和资本、掠夺原料的对象。一个以欧美列强为主导的资本主义世界体系最终建立起来，全世界在经济上成为一个统一的有机体。

对垄断资本主义看法的变化

在20世纪五六十年代，中国学术界对垄断资本主义一般持否定看法，对垄断资本主义初期产生和暴露出的种种弊端认识得比较充分，而对其发展潜力估计不足。现在学术界的主流看法是：垄断组织的出现，实际上是资产阶级在生产关系领域作出的重大调整。由于垄断组织内部实行高效有序的管理，有利于合理地调配和使用生产资源，提高了劳动生产率，加强了生产社会化和专业化的趋向，促进了资本主义经济的发展。但是，垄断资本主义暴露出的一些弊端依然存在。例如，在现今资本主义国家中，垄断寡头以金钱操纵政治的现象是很普遍的。

探究思考

1. 第一次工业革命在英国率先发生的条件有哪些？
2. 比较两次工业革命的相同和不同之处。
3. 阅读下列材料，回答问题。

材料一：英、法、美、德等国，通过工业革命实现了资本主义工业化，由农业国变为工业国。英国经济增长尤其迅猛。在1850年的世界工业生产中，一半的生铁和一半以上的煤炭是由英国生产的。英国绝大部分原料靠外国进口，50%以上的工业品销往国外。英国成为当时世界上工业最发达的国家，被称为“世界工厂”。

材料二：第二次工业革命在电力的应用，新通信手段、内燃机和新交通工具的创制，石油化工等领域的研究突破，使欧美列强实现了高水准的工业化，并从自由资本主义过渡到垄断资本主义。

- (1) 材料反映了什么历史现象？出现这一现象的原因有哪些？
- (2) 请根据材料二及课文内容回答：第二次工业革命是如何开展的？有何特点？
- (3) 简要阐述两次工业革命是如何推动资本主义世界市场的形成和资本主义世界体系的建立的。

第六单元

资本主义运行机制的调节

资本主义经济运行机制的调节是一个在资本主义生产方式动态发展中不断调整变化的历史过程,也是生产关系不断适应生产力发展水平的变革过程。

从蒸汽时代的现代工厂到电气时代的垄断组织,“自由放任”是这一时期资本主义运营机制的主要特征。人们信奉亚当·斯密在《国富论》中的观点,由市场这一“看不见的手”来调节私人经济,主张国家充当“守夜人”的角色。自由主义经济思想及其相应的经济运营机制,在相当一段时期内极大地推动了资本主义经济的发展。

但是,1929—1933年的世界经济危机极大地冲击了资本主义世界的自由放任观,资本主义国家各自寻求解困之道。美国罗斯福新政与凯恩斯主义经济理论相契合,调节了自由放任主义的传统经济原则,运用国家政权的力量积极干预经济和社会生活。罗斯福新政在一定程度上调整了资本主义生产关系,缓和了社会矛盾,促使美国走出了经济危机。此后,国家干预和调控经济成为20世纪资本主义国家普遍的政策取向。

第二次世界大战后,国家垄断资本主义在更广阔的范围内获得了纵深发展。它在推动“福利国家”的建立、改变经济结构等方面起到了推波助澜的作用,但是在增强国家经济管理职能的同时,也给国家财政带来了沉重负担,影响了市场效应的充分发挥。

空前严重的资本主义世界经济危机

1929—1933年爆发的资本主义世界经济危机，是有史以来持续时间最长、范围最广、危害最大、影响最深的一场危机。它不仅严重破坏了世界经济，而且加剧了资本主义社会的各种矛盾，深刻影响了20世纪30年代的国际关系和世界格局的演变。

“黑色星期四”

第一次世界大战后，美国由战前的债务国变成了债权国。美国的经济经过1920年年中至1921年年末的短期萧条后，开始走向复苏，跨进了“繁荣年代”。汽车工业、电气工业、建筑行业 and 钢铁工业迅速高涨。被这种“繁荣”景象所迷惑，银行大量发放贷款，鼓励投资；商店实行分期付款，刺激顾客超前消费。一些人抱着一夜暴富的梦想，醉心于炒股。股票上市量迅猛增加，股价也大幅度飙升。1928年10月，胡佛在竞选美国总统的演说中宣称：“今天我们在任何地方，比以往都接近消除人民生活贫困和恐惧的理想。”

但是，美国经济的暂时“繁荣”，并没能消除资本主义制度的基本矛盾，资本主义生产社会化与生产资料私人占有形式的矛盾依然存在。在“繁荣”的表象背后，蕴藏着严重的矛盾和失衡。在某些工业部门蓬勃发展的同时，

农业长期处于不景气状态，农民购买力大大下降。垄断组织的兼并之风盛行，使财富越来越集中到少数人手里，限制了社会消费能力的增长。消费能力增长的相对缓慢，与资本家盲目扩大生产造成的商品供过于求，必然要形成生产相对过剩的危机。一场深刻的经济危机，正在悄悄地酝酿之中。



1930年，美国银行前的挤兑人群

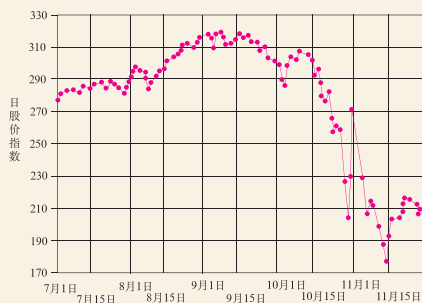
1929年10月下旬，美国纽约华尔街证

券交易所出现股票价格暴跌的风潮。10月24日，华尔街股市崩盘，史称“黑色星期四”，从而拉开了经济大危机的序幕。危机很快从美国扩展到德、日、英、法等国，最终席卷了整个资本主义世界，导致资本主义世界经济大萧条。

“黑色星期四”

1929年10月21日，美国纽约华尔街股市惨跌，股票持有者大量抛售各种股票。10月24日，股票市场大崩溃，880种股票价格平均猛跌40%，损失超过80亿美元。这一天正值星期四，故被称为“黑色星期四”。它成为这次世界经济危机爆发的标志。

1929年美国出现“黑色星期四”的最根本原因是什么？



1929年美国股市下跌走势图

世界经济危机的严重后果



1931年，伦敦失业者的示威运动

1929—1933年的世界经济危机，是资本主义历史上最深刻、最猛烈、破坏性最大的一次生产过剩危机。它使世界经济遭受到2500亿美元的损失，整个资本主义世界的工业生产下降了40%以上，失业人数一度达到3000万人以上，广大劳动人民陷入饥寒交迫的困境。在美国的宾夕法尼亚和肯塔基乡村，穷苦人只得靠挖野菜根、嚼野葱度日。有人甚至哀叹：“世界末日已经来临！”

大萧条时期英、德、法、美四国工业生产指数变化表 (以1913年为100)

| 年代 \ 国别 | 英 | 德 | 法 | 美 | 整个资本主义世界 |
|------------------|------|-------|------|-------|----------|
| 1890 | 62 | 40 | 56 | 39 | 43 |
| 1900 | 79 | 65 | 66 | 54 | 60 |
| 1910 | 85 | 89 | 89 | 88 | 88 |
| 1913 | 100 | 100 | 100 | 100 | 100 |
| 1929 (危机前最高点) | 104 | 108.3 | 144 | 182.6 | 150 |
| 1932 (危机时最低点) | 70.7 | 51.8 | 92 | 81.2 | 84 |
| 1932年比1929年下降(%) | 32.0 | 52.2 | 36.1 | 55.5 | 44 |

这场大危机大大加深了主要资本主义国家的社会矛盾。各国的资产阶级为了转嫁危机，不仅在国内裁减员工，降低工资，提高捐税，而且在殖民地、半殖民地压低原料和农产品收购价格，倾销自己的工业品，并对其他资本主义国家展开倾销战、价格战。结果，在国内，示威、游行、罢工等抗议活动此起彼伏；在殖民地、半殖民地，民族解放运动进一步高涨；在各个资本主义国家之间，关税战、市场战愈演愈烈。世界局势骤然紧张起来。

为摆脱这场严酷的危机，资本主义各国开始寻求经济政治上的出路。在德国、日本、意大利等国，纳粹分子与军国主义分子纷纷上台，并走上法西斯专政的道路，对内残酷镇压人民的反抗，对外积极准备发动侵略战争，进一步加剧了世界的紧张局势。

胡佛“无为而治”的失败

1929年，共和党人胡佛通过竞选当上美国总统。在竞选演说中，他曾表示：“只要我们继续执行过去八年的政策，我们借上帝之助，很快将看到贫穷从这个国家消失的日子。”所谓“过去八年的政策”，就是前两任总统实行“无为而治”的“自由放任”政策。胡佛上台后，面对空前严酷的经济危机，虽然采取过一些小规模的国家干预行动，如收购部分农产品，增加对公共建筑和道路建设等的投资，但基本上死死抱住传统的“自由放任”政策不放，反对国家对经济作过多的干预。他甚至反对救济失业工人，认为这会危害美国人生活中“极其宝贵的品质”。

“自由放任”政策

自工业革命以来，资本主义国家一直奉行“自由放任”政策。这种政策的理论依据：一是英国经济学家亚当·斯密的“看不见的手”原理，认为市场机制是一只“看不见的手”，能够自动调节经济活动，使之趋于均衡；二是法国经济学家萨伊提出的“萨伊定律”，认为供给会创造它自身的需求——“供给需求”，不论供给（生产）达到怎么高的水平，都不愁在市场上找不到销路。根据这种原理和定律，在经济危机爆发之时，政府不应进行干预，而应依靠市场机制的自动调节，使之逐渐恢复均衡。

胡佛的“自由放任”政策为什么会进一步加深美国的经济危机？

胡佛“无为而治”的“自由放任”政策，进一步加深了美国的危机。美国的工业持续下降达3年之久，1931年全国的工业生产比危机前的1929年下降了53.8%。1933年，失业人数将近1300万人。失业工人受尽饥寒之苦，许多无家可归者在城市周围用木板、废铁皮、旧油布甚至牛皮纸搭起栖身之所，他们愤怒地把这些小屋聚集的区域称为“胡佛村”。社会一片混乱，举国上下人心惶惶，怨声载道，很大一部分人对现存制度丧失了信心。

探究思考

1. 结合课文内容分析1929—1933年资本主义世界经济危机爆发的原因。
2. 召开小组讨论会，探讨1929—1933年资本主义世界经济危机的严重后果有哪些。
3. 阅读下列材料，回答问题。

经济危机爆发后，美国国会于1930年5月19日通过霍莱—斯姆特法令，对890种商品提高进口税率，各种进口商品的税率平均提高约40%。这一法令的实施，遭到33个国家的抗议，引发了30年的关税战。到1931年底，先后有25个国家采取报复措施，进口税率比1929年提高60%~100%。此外，法国采取“输出限额制”，德国创立“以货易货制”，其他国家纷纷效法。

——王斯德主编：《世界现代史》

- (1) 美国为何要提高进口税率？其目的是什么？
- (2) 美国与其他国家之间的这种关税战造成了什么影响？

罗斯福新政

1929—1933年的经济大危机严重威胁着美国资本主义制度的生存。1933年罗斯福就任美国总统后，开始实施“新政”，加强政府对社会经济的干预和调节，通过立法措施对银行业、工业以及农业进行调整和改革，对失业人员提供救济。这些措施在一定程度上缓解了经济危机，保住了美国资本主义民主制度，开创了国家干预经济发展的新模式。

罗斯福临危受命



罗斯福与媒体见面，畅谈施政纲领

1932年美国进行总统选举，民主党候选人富兰克林·罗斯福以绝对优势战胜共和党候选人胡佛当选。罗斯福在接受总统候选人提名演说中说：“我向你们保证，我誓为美国人民实行‘新政’。”所谓罗斯福新政，就是为摆脱严重的经济危机而采取的一系列社会经济政策的总称。

1933年3月，正是美国大萧条最严重的时刻，罗斯福临危受命，就任美国总统，开始实施“新政”。

链接阅读

罗斯福总统

富兰克林·罗斯福（1882—1945）是美国第32任总统。1932年首次当选，1933年3月就任，连任4届，是美国任职时间最长的总统。面对美国历史上最严重的经济危机，他提出了“新政”计划，对财政金融、工农业实行一系列改革，实行国家垄断资本主义，缓解了经济危机。在第二次世界大战中，他带领美国人民进行反法西斯斗争，为战胜法西斯作出了贡献。

“新政”的主要内容和作用

“新政”的主要内容是：复兴萧条的经济，救济、安置失业者和贫民，

革除垄断资本主义的某些弊病等。“新政”大体上可以划分为两个阶段：1935年以前为第一阶段，着重于复兴；1935—1939年为第二阶段，着重于改革。而救济则贯穿于两个阶段的始终。

在“新政”的第一阶段，罗斯福采取了一系列措施，旨在挽救银行危机、复兴农工商业、救济失业工人。

在财政金融方面，通过《紧急银行法》，对全国银行进行整顿，并建立联邦储蓄保险公司，以恢复银行的信誉。同时，取消金本位制^①，让美元贬值，实行有节制的通货膨胀，以鼓励出口，刺激生产。



罗斯福与美国农民进行交谈

在农业方面，通过《农业调整法》，成立农业调整管理局，通过提供政府补贴、价格支持和信贷优惠等措施，销毁滞销的大量农产品，调整农产品结构，提高并稳定农产品价格，防止农产品的过剩。

在工业方面，通过《全国工业复兴法》，成立国家复兴管理局，指导企业制定“公平竞争法规”，对同行业产品的价格、产量、销售市场和工人的工作时数、工资标准作出规定，防止盲目竞争引起生

产过剩。法案还调整劳资关系，规定工人有权组织工会，选出代表与资方进行谈判，以缓和劳资矛盾。

在救济失业工人方面，实行以工代赈为主、政府直接救济为辅的政策，如兴办公共工程，为失业工人提供工作岗位。

在“新政”的第二阶段，通过《社会保障法案》，实行老年保险和失业保险，并对儿童、残疾人、无谋生能力者提供救助。该法案经修订、完善后，使美国走上了福利国家的道路。

罗斯福新政是在保持资产阶级民主制度的前提下，由国家对资本主义经济关系进行的调整和改革。它虽然未能克服资本主义的基本矛盾，但通过加强国家干预经济的办法，使美国经济逐渐走出了低谷。20世纪30年代

^①金本位制，指以黄金为一般等价物的货币制度。在这种制度下，金币可自由铸造，银行券可自由兑换金币，黄金可自由输入输出。

罗斯福新政的“以工代赈”

罗斯福新政的救济工作，实行以工代赈为主。1933年3月，罗斯福制订“民间自然资源保护队”计划，吸收18~25岁的失业青年，每月发给30元工资，组成劳动营，从事造林、开矿、修建公路和水利工程等工作。1933—1941年年底美国参加第二次世界大战之前，8年多的时间先后吸收150万失业青年，开辟了数百万英亩的国有林场和国家公园，兴修了一批水利工程。田纳西流域的综合治理，就是实施以工代赈的一项突出成果。田纳西流域横跨7个州，由于过去无节制的过度开发，森林砍伐殆尽，水土流失严重，人民生活贫困。从1933年起，由田纳西流域管理局负责，通过以工代赈的办法，组织大批失业青年，先后建造了25座大坝，防洪发电，并对全流域的土地进行综合治理和开发，使大片废弃的土地恢复了耕种，全流域居民的收入提高了9倍。

罗斯福新政的“以工代赈”与直接救济相比有哪些优点？



罗斯福新政期间进行综合治理的田纳西流域水利工程

前半期，美国经济开始小幅回升，后半期出现明显复兴迹象。到1939年，工业生产水平创历史新高，农业生产保持稳定。1940年，美国国民收入已基本恢复到大危机爆发以前的水平。“新政”适当改善工农的处境，提高劳工在生产关系中的地位，同时对垄断资本主义的某些弊病进行改革，缓和了阶级矛盾，在一定程度上恢复了人们对美国国家制度的信心，使美国避免了由于经济危机而走上法西斯专政的道路。

国家干预经济发展的新模式

罗斯福新政开创了国家干预经济发展的新模式。空前严重的资本主义世界经济危机表明，由于资本主义生产力的飞速发展，生产的社会化程度进一步提高，继续采取传统的“自由放任”政策，听任占有生产资料的垄断资产阶级在利润的驱动下盲目生产，必然会导致经济的失衡，使社会经济陷于混乱的状态。罗斯福抛弃传统的“自由放任”政策，加强了国家对经济的干预和调节。“新政”通过法律形式，赋予政府保障经济稳定和发展的职责，从而在不触动资本主义制度的前提下，对美国的经济制度进行局

部的改造和调整，保证国民经济按一定的计划协调发展。美国国家政权从此与垄断资本进一步结合起来，开始走上国家垄断资本主义的道路。

美国经济制度上的这种重要调整，在第二次世界大战后为其他资本主义国家所纷纷仿效。资本主义世界从此告别“自由放任”政策，进入以国家干预经济为特征的国家垄断资本主义时代。

探究思考

1. 阅读下列材料，回答问题。

1938年，一位美国经济学家评论罗斯福的“新政”时说：今天，国家正对没有特权的人进行保护，增加国民收入，并把此项收入更公平地分给各类生产者，为了达到这些目的，美国政府不仅承担起保证社会安全的全部工作，而且还要成为工商业的参加者和创立者。……这个国家昨天还是个不干涉主义，或处于守势的国家，现在，它却从事建设和开办工厂，买卖货物和劳务，储贷货币，开办航运……

——L·哈克：《今日美国的问题》

(1) “国家正对没有特权的人进行保护”，这些“没有特权的人”指的是哪些人？罗斯福新政是怎样保护他们的？

(2) “成为工商业的参加者和创立者”是指罗斯福新政中的哪项措施？这项措施有什么作用？

(3) 罗斯福新政的突出特点是什么？请联系史实说明“这个国家昨天还是个不干涉主义，或处于守势的国家”。

2. 有学者认为，罗斯福新政造成了资本主义的一次深刻变革或者是一种再生；另一些学者认为罗斯福新政的目的只是保护和巩固资本主义制度，不应过分赞扬。请就上述观点进行讨论，并阐述自己的观点。

3. 联系第9课“社会主义市场经济体制的建立”的内容，谈谈你对“资本主义也有计划”、“社会主义也有市场”这一观点的理解。

当代资本主义的新变化

第二次世界大战以后，继罗斯福新政，发达国家相继进行改革和调整，世界资本主义有了新发展、新变化。国家垄断资本主义的普遍发展、经济结构的新变化、垄断资本的全球扩张，是当代资本主义新变化的特点。20世纪八九十年代以后，这种新变化显得更为突出。

国家垄断资本主义的发展



20世纪60年代末，欧洲国家在北海开采石油的钻井平台

第二次世界大战结束后，主要资本主义国家吸取经济大危机的深刻教训，放弃传统的“自由放任”政策，接受凯恩斯主义，奉行国家干预经济政策。大垄断集团和国家政权更紧密地结合起来，国家垄断资本主义普遍发展。国家政权深深地介入到经济的各个层面，在一定程度上缓和了资本主义的生产过剩危机和阶级矛盾，促进了生产力的发展。1950—1973年，发达资本主义国家的国民生产总值年均增长率达4.9%，资本主义国家经济进入高速发展和繁荣的“黄金时期”。

凯恩斯主义

凯恩斯（1883—1946）是英国著名的经济学家。他对1929—1933年的资本主义经济危机进行深入的思考，于1936年出版了《就业、利息和货币通论》一书，主张加强国家对经济的干预。他认为这次危机的爆发，根本原因在于社会对商品的需求远远低于商品的供给。因此，政府必须放弃自由放任主义，干预经济和社会发展，成为“看得见的手”。当供给大于需求时，政府应当采取措施增加公共开支，降低利率，刺激投资和消费，以实现有效需求，保证充分就业。凯恩斯的理论，是对传统资本主义经济理论的一次革命，被称为“凯恩斯主义”。

为什么说凯恩斯主义是对传统资本主义经济理论的一次革命？

“福利国家”的出现



美国公民领取的失业保险卡

第二次世界大战后，西方资本主义国家在生产发展的基础上，普遍推行社会福利政策，建立“福利国家”制度。福利的资金由个人缴纳、企业缴纳和国家补贴三部分组成。福利的种类很多，主要包括医疗、失业、工伤、养老保险、住房和教育保障等。

“福利国家”制度是由政府对国民收入进行再分配的一种形式，它在保障居民基本生存条件、促进社会公平方面发挥着重要的作用，有利于缩小贫富差距，缓和社会矛盾，促进社会的稳定。但是，它

又会导致政府开支的扩大，降低人们的工作积极性。20世纪80年代以后，美、英、法等国都在不同程度上削减政府的公共开支，缩小社会福利的规模。

链接阅读

瑞典的福利政策


早在1932年，瑞典社会民主党上台执政，就开始推行“福利国家”政策。一是建立各种保险制度，包括失业救济金、养老金、病休金和儿童津贴等；二是提供各种免费或低费的社会服务，如教育、医疗、托儿服务等。人们称这种政策是“从摇篮到坟墓”的福利政策。第二次世界大战后，瑞典的福利政策又有新的发展和完善。比之其他资本主义国家，瑞典的福利政策最为系统完备，福利水平最高，受益面最广，社会效果也最显著，被称为“福利国家的橱窗”。

你认为应该如何全面认识现代“福利国家”政策？

经济结构的新变化

20世纪40年代兴起的新科技革命，促进了当代资本主义生产力的迅猛发展，经济快速增长。这种发展和增长过程，不仅表现为社会财富的增加，而且也表现为包括产业结构和就业结构在内的经济结构的巨大变化。

工业经济时代，冶金、钢铁、造船、机械制造等传统工业部门及其产值在国民经济中占据主导地位。第二次世界大战结束后，美国等主要发达国家的第三产业迅速发展，成为国民经济中增长最快的部门。从20世纪80



位于美国“硅谷”的超微半导体公司 (AMD)



法国巴黎街头的网吧

年代后半期起,信息技术革命掀起热潮,第四产业即信息产业迅猛发展,促使资本主义经济开始从工业经济向信息经济转变。在信息经济时代,并不废除传统工业,而是用先进的微电子信息技术改造或改进这些工业部门,使之实现信息化和现代化。随着信息经济的发展,信息产业产值在国民生产总值中的比重越来越大,信息产业在整个国民经济中的地位也越来越重要。

产业分类

第一产业是指农业,包括种植业、林业、畜牧业、渔业等直接以自然物为对象的生产部门。第二产业是指工业,包括制造业、建筑业和采矿业,它是人类直接利用自然资源进行加工的物质生产部门。第三产业是指服务业,包括交通运输业、通信业、商业、餐饮业、金融保险业、行政、家庭服务业等非物质生产部门。20世纪70年代以后,随着新技术革命的发展,卫星通信、光纤通信、软件开发等高新技术部门迅速发展并独立出来,形成一个新兴的产业,即信息产业。

新科技革命以来,传统的第一、第二产业就业人数不断减少,第三产业、信息产业就业人数不断增加的根本原因是什么?

新技术革命

新技术革命以信息技术革命为主要标志,故也称“信息革命”。其主要内容有:计算机处理机、大规模超级计算机、卫星通信与光纤通信等信息技术;机器人和人工智能技术;超导体、精密陶瓷等新材料和材料技术;新能源技术;航天技术;生物技术和遗传工程;海洋开发技术等。从20世纪80年代后半期起,新技术革命更加深化。世界开始向信息经济时代即知识经济时代过渡,产品的价值、经济的发展越来越取决于企业的智力资本和知识水平。

新技术革命给人类社会生产方面带来哪些影响?

美国在经济结构的变革中处于领先地位。1993年美国颁布《国家信息基础设施行动计划》后,信息产业的年平均增长率高出第一和第二产业10%以上。它在国民生产总值中所占的比重不断增加,1996年就达到27%。

随着产业结构的变化,欧美国家的就业结构也出现明显的变化。传统的第一产业和第二产业的就业人数不断减少,第三产业和第四产业的就业人数不断增加。美国在20世纪90年代新增的就业机会中,信息产业和服务业占90%以上。日本信息产业的就业人口,20世纪90年代末比80年代中期增加1.5倍。

总而言之,随着当代资本主义经济从工业经济向信息经济发展,经济结构日益趋向服务化、高技术化。

探究思考

1. 当代资本主义的新变化主要表现在哪些方面?原因是什么?
2. 阅读下列材料,回答问题。

第二次世界大战后,第三次科技革命兴起,美国重点开发以信息技术为核心的高科技产业。1993年到1999年对信息产业的投入占总投资的45%。1995年到2000年,美国信息产业对经济增长的平均贡献率达30%,传统的住房建筑业和汽车业的贡献率分别降为14%和4%。20世纪90年代末,美国与信息产业直接有关的部门在国民生产总值中所占比重达80%。

- (1) 据材料分析20世纪90年代以来美国经济发展的特点。
- (2) 20世纪90年代以来美国经济发展给我们提供了哪些有益的启示?

第七单元

苏联的社会主义建设

苏联社会主义建设道路在国内外十分艰难的条件下开启和发展,它的探索为人类选择非资本主义发展模式提供了宝贵经验和教训。

十月革命后,苏联开始了社会主义建设的进程。“战时共产主义”政策的推行为苏俄赢得国内战争的胜利和巩固新政权发挥了积极作用。新经济政策的实施使被战争破坏的国民经济得以恢复,并为建设社会主义的新道路作了初步探索。

20世纪30年代,苏联在社会主义经济建设中,形成了高度集中的计划经济体制,即在生产资料国有化基础上,通过国家指令性计划,形成高度集中的资源分配机制和国民经济管理体制。在计划经济体制下,苏联通过优先发展重工业、农业集体化和以行政手段保证高积累、高投入等方式,使苏联从一个以农业为主的国家转变为工业化国家,工业总产值跃居欧洲第一位、世界第二位,社会主义建设取得重大胜利。

但是,由于片面强调重工业,否定市场机制作用,导致了国民经济发展比例失调,影响了经济的可持续发展。尽管从赫鲁晓夫到勃列日涅夫时代也曾经进行过一些经济改革,但是,由于没有突破原有的计划经济模式,改革都以失败告终。与此同时,在政治上形成了以个人专断为特征的高度集权的政治体制,缺乏广泛的社会主义民主和法制,严重压制了广大群众的社会主义积极性和创造性。长期以来政治经济体制的僵化、经济发展的迟滞,人民的合理民生要求得不到满足,导致了各种社会矛盾不断尖锐。戈尔巴乔夫的改革加速了苏联的解体。

从“战时共产主义”到“苏联模式”

十月革命胜利后，俄国面临着帝国主义武装干涉和国内的反革命叛乱，为了巩固革命成果，苏维埃政权实行“战时共产主义”政策。国内战争结束和外国武装干涉被粉碎后，苏俄实施了新经济政策。斯大林执政后，开展工业化和农业集体化，逐渐形成高度集中的计划经济体制，迅速增强了国力，但也产生了许多弊端。

从“战时共产主义”到新经济政策



苏俄漫画，表现了帝国主义操纵下的反苏维埃武装

十月革命胜利后，苏维埃政府将银行、铁路和大工业收归国有，并没收地主的土地，分配给农民耕种。1918年，苏俄退出了世界大战。

国内外的敌对势力不甘心失败。1918年春，英、法、美、日等国对苏俄进行武装干涉。被推翻的俄国贵族、地主和资产阶级与帝国主义国家相勾结，向苏维埃政权发动进攻。

国内战争开始后，苏俄的粮食、原料、燃料都十分匮乏。为了确保战争的胜利，苏维埃政府实行“战时共产主义”政策，将整个国家生活纳入战争轨道。其主要措施是：实行余粮收集制，要求农民将全部余粮都交给国家；加速实行工业国有化，消灭资本主义私有制；取消一切商品贸易，所

列宁被刺，身受重伤

在国内战争初期，苏俄国内的反革命恐怖活动十分猖獗。1918年8月30日，列宁在米赫里松工厂发表演说。演说结束后，列宁走出车间。在工厂大院里，恐怖分子卡普兰接受右翼社会革命党的命令，行刺列宁。她向列宁连发三枪，两颗带毒的子弹打中了列宁，列宁身受重伤。

列宁遇刺受伤的背景是什么？



列宁会见来访农民

有生活必需品均由国家集中分配；实行普遍的义务劳动制，“不劳动者不得食”。

“战时共产主义”政策是在战争的特殊环境下所采取的非常措施，它得到了人民的理解和支持，保证了前线的胜利，对巩固新生的苏维埃政权起到了巨大的作用。

1920年年底，国内战争基本结束，苏俄从战争转入和平建设。苏维埃政府仍继续实行“战时共产主义”政策，引起广大农民的不满，加上1921年春天发生自然灾害，出现了农民骚动，进而严重影响到工人的生产和生活。1921年2月，又发生喀琅施塔得水兵叛乱。经济危机引发了严重的政治危机。

链接阅读

喀琅施塔得叛乱

喀琅施塔得是彼得格勒西面的一个海军要塞。1921年2月，要塞驻军发生兵变，接管了要塞的行政权力，逮捕了反对兵变的苏维埃代表和布尔什维克党员。要塞的水兵大多来自农村，兵变从本质上反映了农民对余粮征集制的不满。3月，在向水兵进行说服和解释无效后，苏维埃政府派遣军队攻占要塞，平息了兵变。

喀琅施塔得叛乱的发生说明苏俄当时面临着怎样的困境？



利用第一次世界大战时缴获的德国坦克进行生产

面对严峻的局势，1921年3月俄共（布）召开第十次代表大会，通过了《关于以实物税代替余粮收集制》的决议。这标志着苏俄从“战时共产主义”政策向新经济政策的历史性转变。新经济政策的主要内容是：在农业方面，用固定的粮食税代替余粮收集制，纳税后剩下的粮食归农民自由支配，可拿到市场上

交换所需物品。苏维埃政府还采取措施，帮助农民恢复生产。在工业方面，重要工矿企业仍归国家所有，由国家经营。中小企业和国家暂时无力兴办的企业，政府以租借和租让的形式让本国和外国的资本家经营。本国公民也可开办私人小企业。在商业方面，实行自由贸易，发展商品经济。在分配方面，废除平均主义的配给制，实行工资级别制。

1925年，随着新经济政策的实施，国民经济逐渐恢复，国内政局渐趋稳定，工农联盟和苏维埃政权得到了巩固。

“苏联模式”的经验教训



宣传斯大林领导苏联人民建设社会主义的海报

1922年年底，由俄罗斯、乌克兰、白俄罗斯和外高加索联邦组成的苏维埃社会主义共和国联盟成立，简称“苏联”。1924年年初列宁逝世后，斯大林的领导地位逐步确立。他逐渐取消新经济政策，到20世纪30年代中期确立了高度集中的经济体制，被称为“苏联模式”。

在斯大林的领导下，苏联实行单一的公有制，包括全民所有制和集体所有制；实行高度集中的经济管理体制，以行政命令手段管理经济；实行计划经济，否定市场经济，建立独立于资本主义世界市场之外的经济体系。这种模式使国家可以按照统一计划调配人力、物力和财力，在较短的时间内实现经济的快速发展。

1925年年底，联共（布）十四大通过以优先、高速发展重工业为中心的社会主义工业化方针。从1928年起，苏联先后实施两个五年计划，建立起飞机、汽车、拖拉机、化学、重型和轻型机器制造等工业部门，基本实现了工业化。到1937年，苏联的工业总产值已超过主要的资本主义国家德国、英国和法国，跃居欧洲第一位、世界第二位，仅次于美国。但1938年开始的第三个五年计划因遭到德国法西斯的入侵而被迫中断。

工业化对粮食的需求量越来越大，要求农业提供更多的商品粮食。1927年12月，联共（布）十五大又确定了农业集体化方针，企望依靠农业集体化和机械化来解决粮食短缺问题。

斯大林决心用行政手段加快农业集体化进程。从1929年起，苏联开始全盘集体化运动。到1937年，全国已有93%的农户参加了集体农庄，农业集体化已基本完成。

随着社会主义工业化和农业集体化的实现，苏联人民的物质文化生活



集体农庄的农民正在收割，一辆政府的宣传车在颂扬斯大林的农业政策



手握镰刀和锤子的苏联男女塑像

得到了改善，实行免费医疗、社会保险、卫生保健，文化教育事业也得到长足的发展。这就为后来战胜德国法西斯提供了物质和人员的保障。

高度集中的“苏联模式”，是在苏联内部经济文化落后、外部遭受帝国主义包围的特殊历史条件下形成的。它曾经在苏联的社会主义建设中发挥过巨大的积极作用，使苏联由落后的农业国变成强大的工业国。

但是，“苏联模式”也存在着明显的弊端。它主要表现在：片面发展重工业，造成农业和轻工业的落后，农业、轻工业、重工业的比例严重失调，人民生活水平提高缓慢；限制商品货币关系，否定价值规律和市场机制的作用，长期实行计划指令，压制了地方和企业的积极性；国家采取工业品和农产品“剪刀差”的办法积累资金，从农民身上拿走的东西太多，农民的生产积极性受到损害，农业长期处于停滞状态。

“苏联模式”的弊端在20世纪二三十年代已有所表现。第二次世界大战结束，特别是在斯大林逝

苏联农业、轻工业、重工业比例严重失调

在“苏联模式”下，苏联的社会主义建设片面强调发展重工业，使农业和轻工业长期处于落后状态。农业生产中，只有棉花、甜菜等经济作物产量明显提高，粮食产量却不断下降。在全盘集体化运动前的1925—1927年间，平均每年为7527万吨，第一个五年计划期间（1928—1932）降为年均7360万吨，第二个五年计划期间（1933—1937）年均只有7290万吨。畜牧业下降的幅度更大。“一五”期间，马的数量从3210万匹降到1730万匹，牛从6010万头降为3350万头，羊从10700万只降为3730万只，猪从2200万头降为990万头。“二五”期间，大牲畜的存栏数虽有所回升，但仍未达到1928年的水平。在工业生产中，重工业的产值1940年比1913年增长了12.4倍，但同期的轻工业产值却只增加3.6倍。由于农业、轻工业、重工业比例严重失调，造成许多生活用品短缺，供应紧张。

苏联农业、轻工业、重工业比例严重失调所带来的直接后果是什么？

世以后，苏联继续沿用高度集中的经济体制，更对苏联的社会主义建设事业造成严重危害，阻碍了苏联经济的持续发展。

探究思考

1. “战时共产主义”政策的主要内容有哪些？它的实施起到了怎样的作用？
2. 新经济政策起了怎样的作用？它对中国的经济建设有什么启示？
3. 阅读下列材料，回答问题。

材料一：1928年苏联开始实行第一个五年计划，计划的目的是使国家富强，在军事上和工业上自给自足。工业化，特别是重工业的发展，是计划的核心。在没有外国贷款的情况下进行的工业化，农业部门成为重要的资金来源。集体化使大规模的农庄代替了以往的小块田地，这就使资本（机器、拖拉机等）应用于土地成为可能，这有利于提高人均产量。集体化又使上级机关更容易通过管理手段来控制集体农庄的剩余产品。

——[美]帕尔默、科尔顿：《世界近现代史》

材料二：

1928年、1940年苏联主要产品产量简表

| 项 目 | 1928年 | 1940年 | 增幅(%) |
|----------|-------|-------|-------|
| 钢(万吨) | 430 | 1830 | 326 |
| 煤炭(万吨) | 3550 | 16600 | 368 |
| 棉纺织品(亿米) | 26.78 | 39.54 | 48 |
| 谷物(万吨) | 7300 | 9550 | 31 |

——据王斯德：《世界现代史参考资料》编制

- (1) 材料一认为苏联的农业集体化有什么作用？
- (2) 运用材料二分析苏联国民经济结构的弊端。
- (3) 结合两则材料，根据所学知识，评价“苏联模式”。

战后的经济改革与挫折

1953年斯大林逝世，赫鲁晓夫执政，开始对苏联的经济建设模式进行改革，探索发展社会主义的道路，但没有从根本上突破高度集中的经济体制。后来，勃列日涅夫在经济领域进行了一些改革，效果也不明显。戈尔巴乔夫的改革由于指导方针和决策的错误，更是导致了苏联的解体。这些改革的失败，充分反映了社会主义改革的复杂性、艰巨性和曲折性。

赫鲁晓夫改革



1958年，赫鲁晓夫在农场视察

1953年，斯大林逝世。不久，赫鲁晓夫上台执政，开始进行改革，以求消除其弊端，推动苏联经济的发展。

赫鲁晓夫的经济改革，重点放在农业方面。主要措施为：取消农产品义务交售制，实行收购制，提高收购价格；允许集体农庄庄员有一定数量的自留地和自留畜，鼓励发展家庭副业；开垦荒地，扩大谷物生产，推广玉米种植；扩大集体农庄和国营农场的自主权，把拖拉机和农业机械卖给集体农庄。这些措施提高了农民的积极性，大规模的垦荒工作也取得明显效果。1954—1958年，苏联共开垦

4000万公顷荒地，占全国耕地总面积的1/5。同期全国粮食产量增长50%以上。但是，大规模开垦荒地，破坏了生态环境。加上管理经营不善，到60年代初，垦荒区提供的粮食越来越少。1964年，苏联不得不从国外进口粮食。

工业方面的改革措施，主要是把管理权力由中央下放到地方，把许多企业交给加盟共和国和地方管辖，这对工业的发展有所促进。后来，由于产生了新的矛盾，又把权力陆续收归中央。

赫鲁晓夫的改革揭开了苏联社会主义改革的序幕，对原有模式产生了一定程度的冲击。但由于缺乏正确的理论指导，急躁冒进，带有较大的随意性，因而没有从根本上改变苏联高度集中的经济体制。

赫鲁晓夫的“秘密报告”

1956年2月，苏共召开二十大，赫鲁晓夫在会上作了工作报告，并在大会最后一天的深夜作了《关于个人崇拜及其后果》的“秘密报告”。“秘密报告”中揭露了斯大林滥用权力、违背集体领导原则等破坏社会主义民主与法制的种种表现，指出了对他的个人崇拜所造成的严重危害。“秘密报告”打破了对斯大林的个人崇拜，有助于打破教条僵化的思想束缚。但“秘密报告”没有准确、全面地评价斯大林一生的功过，没有对个人崇拜产生的根源、危害和克服的途径作出客观的、历史的分析，因而在苏联国内造成了思想混乱，对国际共产主义运动产生了巨大的冲击。

勃列日涅夫改革



勃列日涅夫

1964年，赫鲁晓夫黯然下台，勃列日涅夫开始了18年的执政时期。

勃列日涅夫执政前期，调整了赫鲁晓夫的一些政策，继续推行经济改革。在工业方面采取了如下措施：恢复部门的集中管理体制，同时兼顾地方，把部分企业下放地方管理；坚持集中的经济计划，同时扩大企业的某些自主权；实行利润提成，刺激企业改进经营管理。在农业方面采取的主要措施有：鼓励发展家庭副业；提高农产品的收购价格；推行集约化经营，加大国家对农业的投资。这些改革措施收到了一定的成效。1966—1970年，工业总产值年均增长率为8.5%，农业总产值年均增长率为4.2%，人民生活水平逐步提高，军事实力和综合国力大为增强，成为与美国相匹敌的超级大国。

但是，勃列日涅夫的改革缺乏宏观的整体性，措施也不配套，只是修补性的，因此未能从根本上变革旧体制。勃列日涅夫执政后期，改革趋于停滞，中央集权的计划经济体制活力衰退，经济发展速度下降。勃列日涅夫执政时期对外实行侵略扩张政策，加紧与美国争霸，竭力扩充军备，更加导致经济负担不断增加。因此，1975年以后经济增长率逐年下降，到20世纪80年代初，经济更是全面滑坡。

勃列日涅夫改革期间经济增长率下降

在勃列日涅夫改革前期，苏联经济还能保持一定的增长率，若干重工业产品的产量居世界首位，在常规武器、核武器和航天技术方面可同美国相抗衡，但轻工业产品和新兴产业方面却明显落后于西方国家。经济结构也不合理，第三产业比重很小，而且基本上处于封闭状态。这种状况严重阻碍了科技的进步和经济的发展，经济增长速度不断下降。国民收入年均增长率1966—1970年为7.8%，1971—1975年降为5.7%，1976—1980年更降至4.3%；工业总产值年均增长率1966—1970年为8.5%，1971—1975年降为7.4%，1976—1980年更降至4.4%。

勃列日涅夫改革导致苏联经济全面滑坡的主要原因有哪些？

莫斯科的落日

1985年，戈尔巴乔夫当选为苏共中央总书记。此后，戈尔巴乔夫开始对经济体制进行改革，采用经济手段代替行政命令的管理办法；企业实行自负盈亏、自筹资金、自主经营；在商业和服务行业中允许集体和个体经营；在农村实行租赁制和家庭承包制。但由于阻力重重，各项改革难以奏效。1988年起，戈尔巴乔夫将改革的重心转向政治领域，倡导“民主化”和“公开性”，纵容自由化思想，使得改革渐渐背离社会主义道路，一定程度上引发了国内思想混乱。党内外反对势力趁机发展为难以控制的政治力量。加上戈尔巴乔夫在关键时刻主动放弃了党的领导权，最终导致局势失控。1991年，“八一九”事件爆发后，苏联迅速解体，由此导致世界社会主义运动进入低潮。

探究思考

1. 有人认为赫鲁晓夫改革是一次失败的改革，但也有人认为他的改革一半失败了，另一半成功了。你认为哪一种观点比较符合实际？为什么？

2. 阅读下列材料，回答问题。

1991年12月27日，原苏联外长谢瓦尔德纳泽在德国电视二台发表谈话时表示，对苏联的解体感到“羞愧”和“耻辱”。乌克兰总统克拉夫丘克说：“造成苏联今天的局面是谁的错？谁应该受到责难？苏联的解体是从公开性时期开始的。”莫斯科出版的《独立报》则直接指出：“是的，戈尔巴乔夫造成了苏联的混乱，毁坏了这个帝国。”

——王斯德、钱洪：《世界当代史》

- (1) 苏联改革失败的根本原因是什么？留下了什么深刻的教训？
- (2) 有人说“苏联的解体标志着社会主义的失败”，你同意这种观点吗？为什么？
- (3) 对照苏联改革失败的教训，谈谈你对中国改革的新认识。

供学习用

第八单元

当今世界经济的全球化趋势

当今世界经济的全球化趋势,是在第二次世界大战后,世界市场的扩大与全球贸易的发展,以及第三次科技革命强力推动下,世界整体化发展的重要特征之一。

从战后之初以美元为中心的布雷顿森林体系和关贸总协定,以美国为主导的战后资本主义世界经济体系的出现,到战后以欧洲一体化、北美自由贸易区和亚太经济合作组织为代表的区域经济一体化发展,直至20世纪90年代以来,伴随着跨国公司的兴起、世界贸易组织的建立、两极对峙格局的瓦解,尤其是中国加入世贸组织,进一步加速了经济全球化的进程。当今世界经济体系,加快了世界经济全球化趋势的步伐。

经济全球化趋势加速了世界经济的融合与发展,把人类社会的联系与交往发展到了一个前所未有的高度,国家之间的相互依存程度不断加深,又引发了大量全球性问题。它凸显了世界经济体系所固有的不平衡性,使能源消耗增速,生态环境问题日趋突出,公共卫生成为各国的关注焦点。如何解决伴随经济全球化而来的大量问题是事关人类命运的重大课题。

战后资本主义世界经济体系的形成

第二次世界大战结束之初，美国经济实力占据优势，形成了以美国为主导的世界经济体系。以美元为中心的“布雷顿森林体系”和关贸总协定，是这一体系在金融、贸易领域的支柱。

布雷顿森林会议的召开

1929—1933年的资本主义世界经济危机严重冲击了国际经济，导致国际货币体系的瓦解，国际金融关系陷于混乱与动荡。第二次世界大战临近结束的时候，英国和美国都想建立由自己主导的国际货币体系。但是，由于第二次世界大战的破坏，英国和其他欧洲国家普遍衰落。美国不仅因本土远离战场而未遭破坏，而且还大发战争横财，完全取代了英国的地位而成为资本主义世界的头号强国。经过谈判，英国被迫同意由美国主导来重建新的国际货币体系。

链接阅读

第二次世界大战对英美经济的影响

第二次世界大战期间，英国与德国法西斯作战时间最长，实力消耗极大。至战争结束，英国的国民财富减少 $\frac{1}{4}$ ，对外贸易削减 $\frac{2}{3}$ ，外债由1939年的4.76亿英镑增至1945年的33.55亿英镑。丘吉尔首相说：“即使我们卖掉我们的全部黄金和国外资产，也不能付清订货（订购军事物资）的一半贷款。”而美国却因本土远离战场未遭破坏，并因卖军火而大发横财。第二次世界大战全面爆发后，罗斯福就发表了“我们必须成为民主制度的伟大兵工厂”的炉边谈话。美国各大工厂纷纷扩大规模，夜以继日地开工生产。到战后初期，美国已拥有资本主义世界工业生产量的 $\frac{2}{3}$ ，外贸出口额的 $\frac{1}{3}$ ，黄金储备的 $\frac{3}{4}$ 。

第二次世界大战后为什么英国会同意由美国主导重建新的国际货币体系？

1944年7月1日，应美国总统罗斯福的邀请，英国、法国、苏联、中国等44个国家的代表，在美国新罕布什尔州布雷顿森林的华盛顿大旅社举



布雷顿森林会议的参加者

行联合国国际货币基金会议，商讨重建国际货币体系的问题。会议通过了《联合国国际货币基金最后决议书》及其两个附件——《国际货币基金组织协定》和《国际复兴开发银行协定》。这些文件统称为《布雷顿森林协定》。

“布雷顿森林体系”的建立



英国代表凯恩斯在《布雷顿森林协定》上签字

《布雷顿森林协定》通过后，一个以美元为中心的资本主义国际货币体系即“布雷顿森林体系”开始建立。它的主要内容包括两个方面：国际货币制度的确定和国际金融机构的建立。

在国际货币制度方面，《布雷顿森林协定》规定，美元与黄金直接挂钩，官价为每盎司黄金等于35美元，每美元的含金量为0.888671克黄金；国际货币基金组织会员国的货币与美元挂钩，把美元的含金量作为各国货币的平价标准。这种双挂钩原则，使得美元成为黄金的等价物，各国货币只有通过美元才能同黄金挂钩，美元成为各国进行国际清算的支付手段和主要储备货币。

在国际金融机构方面，根据《布雷顿森林协定》，1945年分别建立国际货币基金组织和国际复兴开发银行，总部都设在华盛顿。国际货币基金组织的宗旨是：稳定国际汇率，消除各国的外汇管制，向国



国际货币基金组织标志



世界银行标志

美国控制国际货币基金组织和世界银行的表决权

按照规定,国际货币基金组织和世界银行的每个会员国的基本表决权为250票,此外,每投入10万美元增加一票。美国财大气粗,投入的资金最多,因而分别掌握了国际货币基金组织总投票权的27%,世界银行总投票权的23.81%,从而控制了表决权。

美国为什么能够控制国际货币基金组织和世界银行的表决权?

际收支出现暂时困难的成员国提供中、短期贷款。国际复兴开发银行又称世界银行。初期的宗旨是致力于战后的欧洲经济复兴,后来转向全球性的发展援助,为成员国提供长期贷款和技术援助。在这两个组织中,美国都控制了表决权。

“布雷顿森林体系”的建立,为世界各国提供了一个稳定的多边支付体系,促进了国际贸易和世界经济的发展。同时也确立了美元在国际货币制度中的霸权地位,从而为美国的资本输出和对外经济扩张创造了有利条件。

关贸总协定的签署

1929—1933年的资本主义世界经济危机,导致各国进一步强化贸易保护主义,造成国际贸易的严重萎缩。从第二次世界大战发生转折的1943年起,美、英等国就举行一系列会议,酝酿成立国际贸易组织,以推动国际贸易的发展。第二次世界大战结束后,在联合国经济和社会理事会的支持下,一些国家先后举行两次会议,讨论由美国提出的“国际贸易组织宪章草案”,但未能取得一致意见。1947年,美、英、中、法等23个国家在日内瓦签署了一个临时性协议——《关税与贸易总协定》。关贸总协定是根据美国“宪章草案”的部分条文制定的。它的宗旨是:减少关税和贸易障碍,取消歧视待遇,扩大国际交换;充分利用世界资源,扩大生产,增加就业,提高生活水平。关贸总协定的签署,推动了国际贸易和世界经济的发展。

国际货币基金组织、世界银行和关贸总协定,构成战后世界经济贸易和金融的三大支柱,标志着以美国为主导的战后资本主义世界经济体系的形成,也是世界经济全球化趋势的开始。

关贸总协定的宗旨

缔约各国政府认为：

在处理它们的贸易和经济事业的关系方面，应以提高生活水平、保证充分就业、保证实际收入和有效需求的巨大持续增长、扩大世界资源的充分利用以及发展商品的生产和交换为目的。

切望达成互惠互利协议，导致大幅度地削减关税和其他贸易障碍，取消国际贸易中的歧视待遇，以对上述目的作出贡献。

——《关税与贸易总协定》

查阅相关资料，概括关贸总协定的积极作用及其局限性。

探究思考

1. 第二次世界大战以后，以美国为主导的资本主义世界经济体系是怎样形成的？
2. 分析国际货币基金组织、世界银行的建立和关贸总协定的签署对世界经济发展的作用。
3. 阅读下列材料，回答问题。

一缔约国领土的产品输入到另一缔约国领土时，在关于产品的国内销售、兜售、购买、运输、分配或使用的全部法令、条例和规定方面，所享受的待遇应不低于相同的本国产品所享受的待遇。

——《关税与贸易总协定》

- (1) 《关税与贸易总协定》是在什么背景下签署的？
- (2) 材料内容体现了关贸总协定什么样的宗旨和目标？
- (3) 你认为这项规定在推动世界贸易的发展中起了什么作用？

世界经济区域集团化的发展

第二次世界大战以后，世界经济开始朝着区域集团化的方向发展，由此诞生了一系列模式各异的经济集团组织。其中，以欧盟、北美自由贸易区、亚太经合组织最具典型性。

从欧共体到欧洲联盟



1951年，欧洲六国代表签署成立欧洲煤钢共同体的条约

第二次世界大战以后，西欧国家普遍衰落。面对美苏对峙，西欧国家的一些领导人深感欧洲有实行联合的必要。20世纪50年代，法国、联邦德国、意大利、荷兰、比利时、卢森堡六国先后建立了欧洲煤钢共同体、欧洲经济共同体和欧洲原子能共同体。1967年，三个机构正式合并，称为“欧洲共同体”，简称“欧共体”。欧共体建立以后，致力于经济一体化，促进了西欧经济的发展，大大增强了西欧的经济实力。

链接阅读

欧共体、欧盟的六次扩大

1973年，英国、爱尔兰和丹麦加入欧共体。

1981年1月1日，希腊成为欧共体的第10个成员国。

1986年1月1日，西班牙和葡萄牙加入欧共体，使欧共体成员国增至12个。

1995年，奥地利、瑞典和芬兰加入欧盟，欧盟成员国扩大到15个。

2002年11月18日，欧盟15国外长在布鲁塞尔举行会议，决定邀请塞浦路斯、匈牙利、捷克、爱沙尼亚、拉脱维亚、立陶宛、马耳他、波兰、斯洛伐克和斯洛文尼亚10个国家入盟。2003年4月，这10个国家签署入盟协议，2004年5月1日，成为欧盟的正式成员国。

2007年1月1日，罗马尼亚和保加利亚正式成为欧盟成员国。

根据课文和材料，分析欧共体、欧盟的发展表现在哪些方面。



欧共体马斯特里赫特首脑会议通过
《欧洲联盟条约》

1991年12月，欧共体马斯特里赫特首脑会议通过了《欧洲联盟条约》。条约于1993年11月1日生效，欧洲联盟正式成立。欧洲联盟的目标是进一步促进欧洲一体化，即实现经济货币联盟、实行共同的外交和安全政策、实行司法与民政事务的合作。

从20世纪60年代初开始，欧洲共同体不断扩大。到2007年1月，欧盟的成员国增至27

个，人口总数达到4.8亿，贸易额居全球经济实体的第一位，经济实力继续居于世界各经济体的第二位。



欧盟旗帜



欧元

北美自由贸易区



《北美自由贸易协定》签字仪式

20世纪七八十年代，美国为了保持在全球经济中的主导地位，迎接区域集团化特别是欧洲一体化的挑战，加强了和加拿大、墨西哥的合作。1988年1月，美国与加拿大签署《美加自由贸易协定》。1992年12月，美国和加拿大、墨西哥签订了《北美自由贸易协定》。1994年，北美自由贸易区宣布成立。这个北美区域经济集团，拥有3.6亿人口和6万亿美元国内生产总值，整体实力位居世界首位。

北美自由贸易区是世界上第一个由发达国家和发展中国家联合组成的贸易集团。它的建立不仅促进了美、加、墨三国的经济发展，也加速了拉美地区经济一体化的进程，为日后美洲自由贸易区的组建开辟了道路。

亚太经济合作组织

为了适应各国经济日益全球化和区域经济集团化的趋势，亚洲及太平洋地区的国家和地区也开始谋求更广泛的经济合作。1989年11月，澳大利亚、美国、加拿大、日本、韩国、新西兰和东盟六国^①在澳大利亚堪培拉举行部长级会议，成立了亚太经济合作组织。

亚太经合组织是一个跨区域的松散型的经济合作组织。它以政府间定期聚会的论坛形式存在，具体包含三个层次的会议：一是高官会议，二是

亚太经合组织概况及其会标

亚太经合组织位于环太平洋地区，其成员分布在美洲、亚洲和大洋洲。亚太经合组织还设有观察员。观察员可参加亚太经合组织部长级及其以下各层次的会议或活动。亚太经合组织有其独具特色的组织原则和方式，这也是包括中国在内的发展中国家成员所极力倡导的，即：充分尊重成员的多样性，承认成员间发展水平和发展阶段的差异及其所带来的不同利益与需求，强调灵活性、渐进性和开放性，遵循平等互利、协商一致、求同存异、自主自愿原则，确认在实施贸易投资自由化的过程中以各成员的单边行动为主，辅之以必要的集体行动，主张协商一致和自主自愿行事。

亚太经合组织会标自1991年启用，为绿、蓝、白三色的地球状。其含义是：地球用太平洋这一半代表亚太经合组织经济体，绿色和蓝色代表亚太人民期待着繁荣、健康和福利的生活，白色代表着和平与稳定；边缘阴影部分代表亚太地区发展和增长富有活力的前景；中间是白色的APEC，为亚太经合组织的英文首字母缩写。

除亚太经合组织的会标外，你还熟悉哪些国际组织的会标？请尝试解读该组织会标所代表的意义。



亚太经合组织标志

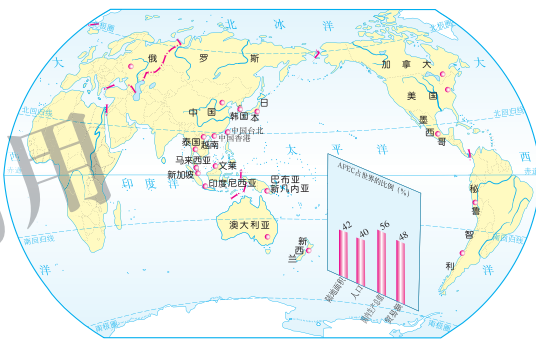
^① 东盟，即东南亚国家联盟，是成立于1967年的区域性组织。东盟六国即指菲律宾、泰国、马来西亚、新加坡、印度尼西亚和文莱。

部长级会议，三是各成员经济体领导人非正式会议。亚太经合组织贯彻“开放的地区主义”的经济合作原则，坚持务实协商的态度，以建立亚太经济共同体为最高目标，在贸易投资自由化和经济技术合作两大领域开展官方磋商与合作。这种经济合作尊重本地区多样性、多元化的政治经济现实，走的是渐进机制化的道路。这是亚太经合组织独有的特色。

1991年，中国作为主权国家，中国台北、香港^①作为地区经济体，正式加入亚太经合组织。自成立以来，亚太经合组织的成员数量不断增加，在世界范围内的影响力不断扩大。截至2008年11月，亚太经合组织有21个成员，总人口约占世界总人口的40%，国内生产总值之和约占全球的56%，贸易额约占世界的48%以上，在全球经济活动中具有举足轻重的地位。



1994年，亚太经合组织第二次领导人非正式会议在印度尼西亚举行



亚太经合组织成员示意图

探究思考

1. 亚太经合组织、欧盟、北美自由贸易区有何异同点？
2. 阅读下列材料，回答问题。

在北美自由贸易区向美洲自由贸易区发展的过程中，有的国家表示反对，巴西众议院要求政府退出为建立美洲自由贸易区而进行的谈判，理由是美国采取了保护主义措施。委内瑞拉也要求考虑自由贸易区计划将给拉美各国经济发展带来的风险和冲击。

- (1) 试从上述国家态度分析发展中国家加入区域经济集团的利弊。
- (2) 面对世界经济区域化的大趋势，中国应当怎样加强与周边国家的经济合作？

^① 1997年香港回归后改称“中国香港”。

世界经济的全球化趋势

20世纪90年代以来,世界经济的基本特征是经济全球化的发展趋势日益明显。经济全球化是一把双刃剑,给不同国家和地区带来的机遇与挑战很不平衡。世界贸易组织的建立,在一定程度上加快了经济全球化的进程。中国加入世贸组织,既促进了中国经济的发展,也迎来了严峻的挑战。

趋于全球化的世界经济

第二次世界大战结束后,交通运输技术和基础设施的发展,特别是20世纪90年代以来信息技术的迅速发展,使各个国家和地区的经济交往变得更加便捷。两极对峙格局的瓦解在一定程度上为经济全球化扫除了障碍。越来越多的国家实行市场经济体制,社会制度的异同已不再妨碍各国的经济交流与合作。所有这些因素都有力地推动了经济全球化向更广、更深的层面发展。

在经济全球化的浪潮中,跨国公司发挥着重大的作用。跨国公司遵循利润最大化原则,推行全球经营战略,使生产、投资和贸易朝着全球化

当前,围绕经济全球化有很多讨论,支持者有之,质疑者亦有之。总体而言,经济全球化符合经济规律,符合各方利益。同时,经济全球化是一把双刃剑,既为全球发展提供强劲动能,也带来一些新情况新挑战,需要认真面对。新一轮科技和产业革命正孕育兴起,国际分工体系加速演变,全球价值链深度重塑,这些都给经济全球化赋予新的内涵。

——2016年11月19日,习近平同志在亚太经合组织工商领导人峰会上的主旨演讲

如何正确看待经济全球化的利弊?



韩国蔚山化学工业区

的方向发展。跨国公司的活动，促进了世界经济的增长、国际资本的流动，推动世界经济向全球化发展。

经济全球化对世界经济发展具有积极的推动作用。发达国家看好发展中国家市场潜力大、生产成本低，逐渐将对外投资的重点转向那里。一些发展中国家抓住机遇，实行对外开放政策，大批吸收外资和先进技术，提升了本国的产业结构

和技术水平，同时引进新的管理理念和经验，促进了经济的发展。但是，经济全球化也加剧了全球竞争中的利益失衡。发达国家由于资金、技术、市场和经营管理方面占据绝对的优势，成为经济全球化的最大受益者。一些发展中国家与发达国家的差距继续拉大。此外，全球化还增加了世界经济的风险，一国的经济波动和危机更容易向其他国家蔓延。因此，经济全球化对广大发展中国家来说，既是机遇，也是挑战。发展中国家必须正确地面对，运用合理对策，趋利避害，谋求自身的发展。

世界贸易组织的建立



位于日内瓦的世贸组织总部



世界贸易组织的标志

关贸总协定签署以来，国际贸易获得了迅速发展。但它只是一个临时适用的多边贸易协定，不是一个常设的国际机构，存在许多难以解决的问题，特别是在解决贸易争端时无法采取强制性的法律措施。为了解决这些难题，关贸总协定的成员国经过多轮的谈判，于1994年4月15日在摩洛哥签署了《世界贸易组织协定》。1995年1月1日，世界贸易组织正式成立，总部设在日内瓦。关贸总协定的历史使命随之宣告结束。

世贸组织的宗旨和基本原则与关贸总协定基本相同，致力于通过市场开放、非歧视性和公平贸易等原则的实施，来推动世界贸易自由化的实

现。但它比关贸总协定有着更宽广的管辖范围，除货物贸易外，还管辖知识产权、投资措施和服务贸易等众多领域。世贸组织是具有法人地位的国际组织，在调解成员争端方面也有着更高的权威性和有效性。

世贸组织是其各成员国与国际经济体系联系与合作的重要桥梁。它致力于推行商品和服务贸易自由化、知识产权保护 and 贸易法规公开化，通过贸易政策审议机制和争端解决机制，对世界贸易和投资产生着重大影响，从而在一定程度上加快了经济全球化的进程。

对于世贸组织发展前景的不同看法

1. 欧洲联盟、北美自由贸易区、亚太经合组织和东南亚国家联盟等区域性组织的发展，说明全球化已是不可阻挡的历史潮流。世贸组织的成立将在经济全球化进程中发挥越来越重要的作用。

2. 各国尤其是发达国家和发展中国家之间，在经济利益和贸易政策上存在着难以调和的分歧，各国反对世贸组织的人数不断增加，采取的行为也越来越激烈。因此，世贸组织将徘徊不前，难有发展前途。

中国加入世界贸易组织及其影响



中国加入世界贸易组织签字仪式

中国是关贸总协定的创始国和缔约方之一。1950年3月，在美国的压力下，溃逃到台湾的蒋介石集团退出关贸总协定。1986年，中国政府正式提出恢复中国创始缔约方地位的申请，开始了漫长的复关谈判。关贸总协定被世贸组织彻底取代后，中国从复关谈判转为加入世贸组织的谈判。

经过长期的艰苦谈判，2001年11月11日，世贸组织在卡塔尔的首都多哈举行第四届部长级会议，批准中国加入世贸组织。2001年12月，中国正式成为世贸组织的第143个成员国。

中国加入世贸组织，促进了国民经济的增长，进一步完善了社会主义



浙江宁波港集装箱码头

市场经济体制,同时,也带来了压力和严峻挑战。加入世贸组织后,中国取消了长期实行的对某些产业的高保护政策,市场进一步开放,关税大幅度减让,使国内的企业和产业面临更加激烈的竞争,甚至受到严重的冲击。面对新的国际经济形势,中国正在调整产业结构,企业也在努力进行制度创新,改善管理,提高产品质量,提高自身的竞争能力,以求立于不败之地。

链接阅读

中美关于中国加入世贸组织的双边谈判

1999年11月9日,中美在北京举行关于中国加入世界贸易组织的双边谈判,这一谈判被誉为“20世纪最重要的经贸谈判”。此前,中美已进行过23轮谈判。几番激烈争斗之后,终于在15日下午3时15分达成了双边协议。江泽民主席在会见美方谈判代表团时说,这是一个中美两国双赢的结果。时任美国总统的克林顿认为这是三赢,即中国赢、美国赢、全世界赢。

2001年10月30日,世贸组织专家、中国加入世界贸易组织法律文件全文的起草者杰夫瑞·盖特勒在接受采访时认为:“从来没有一个国家加入世界贸易组织的过程像中国这般的独特,其间的曲折可以写出一部书。”

为什么说中国加入世贸组织是机遇与挑战并存?

探究思考

1. 第二次世界大战后推动世界经济全球化的有利因素有哪些?
2. 世贸组织的建立对世界经济的全球化起着怎样的作用?为什么?

3. 下图为杰里·本特利、赫伯特·齐格勒著《新全球史》中有关经济全球化的一幅漫画。



平衡的世界经济

- (1) 结合所学知识，指出漫画的寓意。
- (2) 根据你的认识，谈谈中国等发展中国家对经济全球化应采取的态度。

追寻世界杰出航海家的踪迹

——郑和下西洋与新航路旅游线路推介模拟活动

【活动内容】

从各自隔绝的古代社会到环球航行，从各自封闭的地区到资本主义世界市场的形成，再到世界经济全球化的趋势，我们能明显地感受到历史的发展和变迁。

本次活动课通过“新航路旅游线路介绍”，力图将历史与现代社会的生活对接，实现教育、教学和培养学生能力三个方面的目标。

【活动目的】

重温郑和下西洋和新航路开辟的历史，学习航海、旅游和其他方面的知识。

在世界地图上准确找出重要海域、岛屿、城市，锻炼标绘航线的基本能力；博古通今，培养把历史与现实结合的思维能力。了解旅游常识，学会简单介绍旅游风光，培养对历史上的不同航海活动进行科学分析和评价的能力。

了解世界，热爱中国，增强对建设祖国和捍卫世界和平的责任感。关注世界的发展，尤其注意当代经济发展所带来的生态危机和社会问题。继承中国古代和平睦邻的传统，学习西方航海家的探险精神。

【活动准备】

从互联网或图书馆寻找郑和及欧洲著名航海家航海资料；设计大幅世界地图；制作中国郑和宝船和欧洲多桅帆船模型；搜集或从网上下载有关中外航海家航海的历史文物图片、影像资料和文献记录；了解当年伟大航海活动所经过地区数百年间的发展变化。

阅读古代航海家的故事。

【活动要求】

(1) 在自愿结合的基础上，将全班同学划分为郑和组、迪亚士和达·伽马组、哥伦布组、

麦哲伦组4个小组。每组各自准备该航路旅游线路的介绍资料(包括旅游航海线路图、沿线重要旅游景点的历史与现状介绍),并推出各自的介绍与导游人员(可以是一人,也可以是若干人,每人介绍一个或两个景点)。

(2) 举行航海旅游线路推荐介绍会,由各线路的小组介绍自己航海旅游线路的情况,包括整条线路的起点、终点及沿途重点景观的历史和现状。

(3) 课后将各条航海旅游线路的资料(包括地图、综合介绍及著名景点介绍)加以整理,在适当场合展出。

(4) 这是伸缩性相当强的活动,应当要求全体同学积极准备和参加。最好是带表演性质的活动,把历史与现实紧密结合起来。

【活动延伸】

(1) 在学习网页上公布活动设计、活动过程和收获,与其他同学共享成果。

(2) 对于不具备相关教学条件的学校,可以简化活动内容,运用墙报、图片展览或讲故事的形式完成活动任务。

【参考资料】

(一) 参考案例

某学校旅游兴趣小组新航路模拟旅游活动方案

1. 全班划分为4个组,分别为:(1) 郑和组;(2) 迪亚士和达·伽马组;(3) 哥伦布组;(4) 麦哲伦组。组长和成员自由结合,每组人数基本相等。在统一协作的基础上组织活动,注意发挥个性,鼓励创新精神。

2. 设计旅游团的标志物。标志物必须与本组承担的导游任务有关。如郑和宝船或欧洲帆船模型,古代航海家的肖像,航线所经过地区的地理环境、历史、物产和景观的照片、实物或模型。

3. 在地图、地球仪或计算机屏幕上设计旅游线路——航海家航海线路图。每条线路至少确定4处旅游景点,写清地名和主要景观,并配上照片或图片。

4. 各组组长兼总策划和领队。资料员2~3人,职责是查找和整理资料。导游员2~3人,负责向同学们介绍古代海域或港湾的历史变迁。其他为普通组员。

5. 各组选取的景点分别是:

(1) 郑和组:刘家港—爪哇岛或苏门答腊岛(均属印度尼西亚)—马六甲海峡—古里(印

度卡利卡特)。备选的有霍尔木兹、阿丹国、木骨都束等。

(2) 迪亚士和达·伽马组：里斯本—好望角（在南非开普敦）—摩加迪沙（索马里首都）—卡里库特（印度卡利卡特）。

(3) 哥伦布组：巴罗斯港（西班牙港口）—巴哈马群岛（巴哈马）—哈瓦那（古巴首都）—西班牙港（特立尼达和多巴哥首都）。

(4) 麦哲伦组：塞维利亚圣罗卡港（西班牙港口）—麦哲伦海峡—关岛—菲律宾—直布罗陀海峡。

（二）航程上的古港新貌

里斯本——葡萄牙首都和葡萄牙最大的海港城市。市区人口53.5万（1999年）。主要工业有造船、钢铁、纺织、陶瓷、软木、造纸和食品加工等。海陆空交通发达。1487年迪亚士、1497年达·伽马的探险航程就是从这里出发的。

塞维利亚——西班牙安达鲁西亚自治区的首府，著名的经济文化中心和港口城市，在瓜达尔基维尔河下游。市内有著名的大教堂、古王宫、西班牙广场和塞维利亚美术馆等。1519年，麦哲伦就是从这里出发环球航行的。1492年哥伦布航海出发的港口巴罗斯港（加的斯），在塞维利亚以南。

巴哈马群岛——西印度群岛的三大群岛之一，扼南、北美洲的要冲，是加勒比海的门户，由700多个岛屿和2000多个岩礁组成。陆地面积1.39万平方千米，人口32.5万（2005年）。圣萨尔瓦多岛（华特林岛）是1492年哥伦布航行中发现的第一块新大陆。他错误地认为这里就是印度，称当地人为印度人。这片海域的岛群也因此被称为西印度群岛。

麦哲伦海峡——在南美大陆的南端，是沟通南大西洋和南太平洋的重要航道，主要航道在智利境内，因1520年麦哲伦航行最先通过而得名。海峡全长约600千米，宽3~33千米。海峡曲折，岸壁陡峭，多峡湾、岛屿、暗礁、浅滩。位于中段北岸的蓬塔阿雷纳斯，是自由贸易港和重要的加油站。

菲律宾——亚洲国家，首都马尼拉，与中国海域相邻。有岛屿7107个，陆地面积29.97万平方千米，人口8857万（2007年）。1521年，麦哲伦率西班牙船队到达这里。

卡里库特——今译卡利卡特，在印度喀拉拉邦，是古老的港口城市。郑和下西洋曾到达此地。1498年，达·伽马航海到达这里，返回时所带珍宝物品，价值超过航行费用60倍。

好望角——在南非开普敦市南52千米。东临伯佛尔湾，背靠保罗斯山，是世界著名的旅游景区。1488年，迪亚士船队抵达这里。1522年，麦哲伦船队经过好望角归航西班牙，证实了地圆学说。

刘家港——又写作浏家港,郑和下西洋的起航港口,即今江苏省太仓市浏河。1405—1433年,郑和先后7次航海,访问过亚非30多个国家和地区。现在欧洲有学者认为最先到达美洲的应当是郑和船队,但中国古代文献中没有记载。

供学习用

部分词汇中英文对照表

(以在文中出现先后为序)

| | |
|-----------|--------------------------------|
| 马可·波罗 | Marco Polo |
| 迪亚士 | Dias |
| 达·伽马 | Da Gama |
| 哥伦布 | Columbus |
| 麦哲伦 | Magellan |
| 亚美利哥·韦斯普奇 | Amerigo Vespucci |
| 地理大发现 | Great Geographical Discoveries |
| 工业革命 | Industrial Revolution |
| 凯伊 | Kay |
| 飞梭 | flying-shuttle |
| 哈格里夫斯 | Hargreaves |
| 珍妮纺纱机 | spinning-Jenny |
| 水力纺纱机 | water-frame |
| 瓦特 | Watt |
| 史蒂芬孙 | Stephenson |
| 西门子 | Siemens |
| 贝尔 | Bell |
| 爱迪生 | Edison |
| 蒸汽时代 | Age of Steam |
| 电气时代 | Age of Electricity |

| | |
|------------|---|
| 卡尔·本茨 | Karl Benz |
| 戴姆勒 | Daimler |
| 福特 | Ford |
| 莱特 | Wright |
| 诺贝尔 | Nobel |
| 大萧条 | Great Depression |
| 胡佛 | Hoover |
| 自由放任 | laissez-faire |
| 富兰克林·罗斯福 | Franklin Roosevelt |
| 新政 | New Deal |
| 福利国家 | welfare state |
| 信息技术 | information technology |
| 第三产业 | third industry |
| 战时共产主义 | Wartime Communism |
| 新经济政策 | New Economic Policy |
| 斯大林 | Stalin |
| 五年计划 | Five-year Plan |
| 赫鲁晓夫 | Khrushchev |
| 勃列日涅夫 | Brezhnev |
| 戈尔巴乔夫 | Gorbachev |
| 布雷顿森林体系 | Bretton Woods System |
| 国际货币基金组织 | International Monetary Fund |
| 国际复兴开发银行 | International Bank for Reconstruction and Development |
| 世界银行 | World Bank |
| 《关税与贸易总协定》 | <i>Great Agreement on Tariffs and Trade</i> |
| 经济全球化 | economic globalization |
| 欧洲共同体 | European Community |

| | |
|------------|---|
| 马斯特里赫特 | Maastricht |
| 《欧洲联盟条约》 | <i>Treaty on European Union</i> |
| 北美自由贸易区 | North America Free Trade Area |
| 《北美自由贸易协定》 | <i>North America Free Trade Agreement</i> |
| 亚太经济合作组织 | Asia-Pacific Economic Cooperation, APEC |
| 世界贸易组织 | World Trade Organization, WTO |

供学习用

普通高中课程标准实验教科书

历史

必修②

LISHI

供学习用



ISBN 978-7-303-10126-9



9 787303 101269 >

定价：9.65元

京发改【2007】1043号-108
全国价格举报电话：12358